

KPSS
2025

Genel Kültür

EFSANE

COĞRAFYA

Yapay Zekâ Destekli

SORU BANKASI

e-SORU BANKASI
HEDİYELİ



TAMAMI
ÇÖZÜMLÜ



e-Soru bankasına ve soruların çözümlerine erişebilmek için QR kodu okutunuz.

Fiziksel Kitap

HİBRİT
KİTAP

e-Soru Bankası

Dijital Öğrenme Ayak İzi

MUSTAFA MERVAN DEMİR



ÖĞRETİ AKADEMİ

 ÖĞRETİ AKADEMİ
Mustafa Mervan Demir

**GENEL YETENEK GENEL KÜLTÜR EFSANE COĞRAFYA
TAMAMI ÇÖZÜMLÜ SORU BANKASI**

ISBN 978-625-6135-16-1

Kitapta yer alan bölümlerin tüm sorumluluğu yazarlarına aittir.

© Öğreti Akademi

Bu kitabın basım, yayım ve satış hakları Pegem Akademi Yay. Eğt. Dan. Hizm. Tic. AŞ'ye aittir. (Öğreti Akademi yayınları bir Pegem Akademi markasıdır.) Anılan kuruluşun izni alınmadan kitabın tümü ya da bölümleri, kapak tasarımı; mekanik, elektronik, fotokopi, manyetik kayıt ya da başka yöntemlerle çoğaltılamaz, basılamaz ve dağıtılamaz. Bu kitap, T.C. Kültür ve Turizm Bakanlığı bandrolü ile satılmaktadır. Okuyucularımızın bandrolü olmayan kitaplar hakkında yayınevimize bilgi vermesini ve bandrolsüz yayınları satın almamasını diliyoruz.

2. Baskı, Ankara

Yayın-Proje: Öğreti

Dizgi-Grafik Tasarım: İlknur Öztürk

Kapak Tasarımı: Öğreti

İletişim

Öğreti Akademi: Shira Ticaret Merkezi, Macun Mahallesi 204 Cad.

No: 141/33, Yenimahalle/Ankara

Yayınevi: 0312 430 67 50

Dağıtım: 0312 434 54 24

Hazırlık Kursları: 0312 419 05 60

İnternet: ogreti.com

E-ileti: ogreti@ogreti.com.tr

Baskı: Sonçağ Yayıncılık Matbaacılık Reklam San Tic. Ltd. Şti.
İstanbul Cad. İstanbul Çarşısı 48/48 İskitler/Ankara

Yayıncı Sertifika No: 51818

Matbaa Sertifika No: 47865

Ön Söz

Değerli Kamu Personeli Adayları,

Genel Yetenek-Genel Kültür Efsane Soru Bankası yayınlarımız, yazar komisyonumuz tarafından son yıllarda çıkmış olan KPSS Genel Yetenek-Genel Kültür soruları analiz edilerek hazırlanmıştır.

Sınavda başarılı olabilmek için yeterli bilgi düzeyinin yanı sıra çok sayıda soruyu anlamak ve hızlı bir şekilde cevaplamak önemlidir. Yayınlarımızda bu husus göz önünde bulundurularak sınavda karşınıza çıkabilecek soru türlerine konu testleri şeklinde yer verilmiştir. Büyük bir özveri ile hazırlanan bu yayının, siz değerli okuyucularımıza en üst düzeyde fayda sağlaması ve KPSS'de başarıya ulaştırması hedeflenmiştir.

Kitaba ilişkin sorularınızı ogreti@ogreti.com.tr adresine e-posta yoluyla ya da 0538 594 92 40 numarasına WhatsApp üzerinden göndermeniz yeterli olacaktır.

Yayınlarımızın kamu kurumlarında görev almak isteyen tüm adayların başarılarına katkı sağlaması dileklerimizle...

ÖĞRETİ Akademi

TÜM KİTAPLAR YANINDA; CEPTE, TABLETTE VE MASANDA Hibrit kitaplarda kullanıcılar;



- 1 Kitabın dijital formatına erişim sağlayabilir.
- 2 Testleri çözebilir.
- 3 Çözümlere erişim sağlayabilir.



Detaylı anlatım için
QR kodu okutunuz.

Yapay zekânın öğrenme analizinizi yapabilmesi için interaktif içeriklere etkileşim bırakmanız gerekmektedir. Etkileşim bırakmak için testlerde yer alan cevap seçeneklerini sistem üzerinde işaretlemeniz gerekmektedir. Böylelikle yapay zekâ bırakılan etkileşimler sonrasında sizlerin başarı durumlarını tespit ederek eksik tespitinizi gerçekleştirecektir.

Pegem Kampüs web sitesi üzerinden aktivasyon kodunuzu aktif edebilmek ve içeriklere erişebilmek için aşağıdaki adımları takip ediniz:



1. Adım
Üyelik
Mevcut tarayıcınızın adres çubuğuna arti.pegemkampus.com yazarak web sitemiz üzerinden üyeliğinizi gerçekleştirebilirsiniz.



2. Adım
Aktivasyon
Üyelik bilgileriniz ile giriş yaptıktan sonra sol menüde yer alan "Aktivasyonlarım" sekmesine girerek kodunuzu aktif edebilirsiniz.



3. Adım
Ürünlerim
Aktivasyon işleminizi tamamladıktan sonra menüde aktif hâle gelen "Hibrit Kitap" sekmesine tıklayarak içeriklere ulaşabilirsiniz.



4. Adım
Yapay Zekâ Asistan
Hibrit kitaptaki işaretlemeleriniz doğrultusunda eksik tespitinizi yapabilmek için menüdeki "Arti-Asistan" sekmesine tıklayabilirsiniz. Eksiklerinizi tamamlamak ve daha fazla içerik görmek için pegemkampus.com adresini ziyaret edebilirsiniz.

**Aktivasyon kodu kitabımızın ilk sayfasında yer almaktadır.
Aktivasyon kodu ile aktif ettiğiniz hibrit kitaba erişim 31.08.2025 tarihine kadar geçerlidir.**



Pegem Kampüs İletişim Hattı
0312 418 51 55

İÇİNDEKİLER

Ön Söz	iii
Türkiye'nin Coğrafi Konumu	
Test 1	1
Test 2	7
Test 3	13
Test 4	19
Türkiye'nin Yer Şekilleri (Dağlar - Ovalar)	
Test 1	23
Test 2	28
Türkiye'nin Yer Şekilleri (Platolar - Akarsular)	
Test 1	33
Test 2	37
Türkiye'nin Yer Şekilleri (Yeraltı suları, Göller, Barajlar)	
Test 1	41
Test 2	46
Türkiye'nin Yer Şekilleri (Diğer Yer Şekilleri, Rüzgâr - Buzul - Kıyı Tipleri)	
Test 1	51
Test 1	56
Türkiye'nin Yer Şekilleri (Toprak Oluşumu - Toprak Dağılışı)	
Test 1	61
Türkiye'nin Yer Şekilleri (Tarama Testi)	
Test 1	66
Test 2	71
Türkiye'de Doğal Afetler	
Test 1	76
Türkiye'nin İklimi ve Bitki Örtüsü	
Test 1	83
Test 2	88
Test 3	93
Test 4	98
Test 5	103
Test 6	108
Test 7	113

Türkiye Beşeri Coğrafyası

Test 1	118
Test 2	123
Test 3	128
Test 4	134
Test 5	139

Ekonomik Coğrafya (Tarım, Hayvancılık, Ormancılık, Balıkçılık)

Test 1	144
Test 2	149
Test 3	154
Test 4	159
Test 5	164
Test 6	169
Test 7	174

Türkiye'de Madenler - Enerji Kaynakları ve Sanayi

Test 1	184
Test 2	189
Test 3	194
Test 4	199
Test 5	204

Türkiye'de Ulaşım - Turizm ve Ticaret

Test 1	208
Test 2	213
Test 3	218
Test 4	223
Test 5	228

Bölgesel Kalkınma Projeleri

Tarama 1	238
Tarama 2	243
Tarama 3	246

Cevap Anahtarı	250
-----------------------------	------------

1. Aşağıdakilerden hangisi Türkiye'nin matematik (mutlak) konumunun sonuçlarından birisi değildir?

- A) Kuzey Yarım Küre'de bulunması
- B) Çizgisel hızın kuzey kıyılarımızda daha az olması
- C) Paralel uzunluklarının Adana'dan Sinop'a doğru kısalması
- D) Samsun'da kış mevsiminin Ankara'dan ılık olması
- E) Gölge boylarının hiçbir zaman sıfır olmaması

2. Türkiye'de coğrafi koordinatları bilinen bir merkez yalnızca bu bilgisine bakılarak aşağıda verilenlerden hangisi ile ilgili bir sonuca varılamaz?

- A) Ekvator'a olan kuş uçuşu uzaklığına
- B) Ortalama yükseltisine
- C) En sıcak ay ortalamalarına
- D) En uzun gündüzü yaşayacağı tarihe
- E) Ulusal saatle arasındaki zaman farkına

3. Türkiye'de yer alan farklı merkezlerde Güneş 23 Eylül'de aynı anda doğmaktadır.

Buna göre bu merkezlerin aşağıda verilen özelliklerden hangisinin ortak özellik olması gerekir?

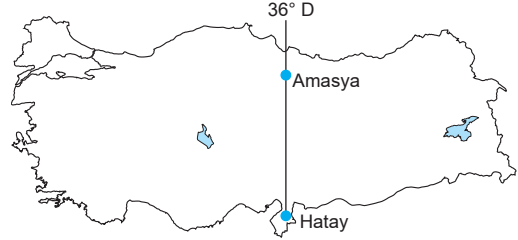
- A) Aynı enlem üzerinde yer almaları
- B) Aynı bölgede yer almaları
- C) Gündüz sürelerinin aynı olması
- D) Greenwich ile aralarındaki zaman farkının aynı olması
- E) Aynı yarım kürede yer alması

4. Türkiye'de yıl boyunca gölge boyları sıfır olmaz.

Bu durumun temel nedeni aşağıdakilerden hangisidir?

- A) Kuzey Yarım Küre'de bulunması
- B) 26°D - 45°D boylamları arasında olması
- C) Dağlık ve engebeli olması
- D) 2. ve 3. saat diliminde olması
- E) Dönencelerin dışında yer alması

5. Aşağıdaki Türkiye haritasında Hatay ve Amasya'nın konumları gösterilmiştir.



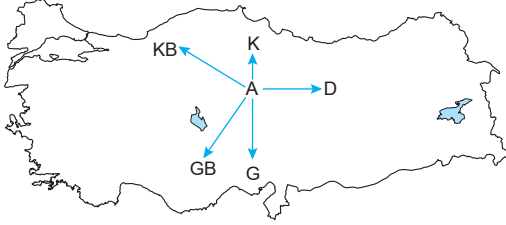
Buna göre bu iki merkezin 23 Eylül tarihinde aşağıdaki hangi iki özelliği kesin olarak aynıdır?

	I	II
A)	Günlük sıcaklık farkı	İklimi
B)	Bitki örtüsü	Yıllık sıcaklık farkı
C)	Yerel saatleri	Güneşin batış saati
D)	Ekvatora uzaklıkları	Kuzey Kutbuna uzaklıkları
E)	Gündüz süreleri	Gölge boyları

6. Sinop'ta yere dikilen bir metre boyundaki bir çubuğun gölge boyu, aşağıdaki tarihlerden hangisinde ögle vakti en kısa olur?

- A) 21 Mart
- B) 21 Haziran
- C) 21 Aralık
- D) 23 Eylül
- E) 3 Ocak

7.



Yukarıdaki Türkiye haritasında gösterilen "A" merkezinden 21 Haziran tarihinde hangi yöne doğru gidilirse gündüz süresi kısalar, yerel saat daha geri olur?

- A) Kuzeybatı B) Kuzey C) Güney
D) Doğu E) Güneybatı

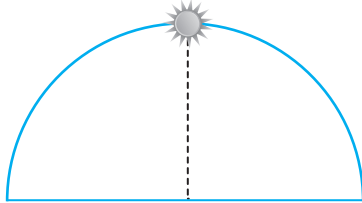
8.

- I. Yükseltinin batıdan doğuya doğru artması
II. Gölge boyunun kuzeyde daha uzun olması
III. Adana'da zeytin tarımı yapılması
IV. Iğdır'da pamuk yetiştirilmesi

Yukarıdakilerden hangileri Türkiye'nin özel (göreceli) konumunun sonuçları arasında yer alır?

- A) I ve II B) I ve IV C) II ve III
D) II ve IV E) III ve IV

9.



23 Eylül tarihinde güneş başlangıç meridyeninde yukarıdaki konumda iken Iğdır'da aşağıdaki konumlardan hangisi gibi görünür?

- A) B)
C) D)
E)

10. Aşağıdakilerden hangisi Türkiye'de enlemin ortaya çıkardığı bir sonuç değildir?

- A) Akdeniz'in Karadeniz'den sıcak olması
B) Güneyden esen rüzgârların sıcaklığı artırması
C) Sinop'ta gölge boyunun yıl boyunca en uzun olması
D) Hatay'da güneş ışınlarının geliş açısının yıl boyunca daha büyük olması
E) Çanakkale'de Erzurum'a göre güneşin daha geç doğması

11.

- I. Bitki örtüsünün çeşitlilik göstermesi
II. Üç tarafının denizlerle çevrili olması
III. Yer şekillerinin çeşitlilik göstermesi
IV. Kuzey Yarım Küre'de yer alması

Türkiye'de göreceli (özel) konuma bağlı olarak aynı anda farklı mevsim özelliklerinin yaşanmasının temel nedeni yukarıdakilerden hangileridir?

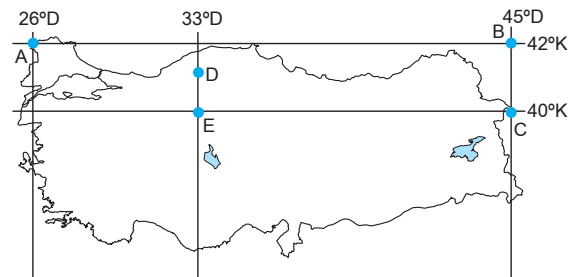
- A) Yalnız I B) Yalnız II C) Yalnız III
D) I ve II E) III ve IV

12. Türkiye'de güneyden kuzeye doğru gidildikçe bir derece meridyen aralığının kuş uçuşu uzaklığının da kaldığı görülür.

Aşağıda verilenlerden hangisi yukarıda verilen durumla aynı gerekçeyle açıklanır?

- A) Bakı yönünün yıl boyunca güney olması
B) Gölge boyunun sıfır olmaması
C) Kuzey yönlü rüzgârların sıcaklığı düşürmesi
D) En sıcak ayların temmuz, ağustos olması
E) Dört mevsimin belirgin yaşanması

13.



Yukarıdaki Türkiye haritasında coğrafi koordinatları verilen yerlerle ilgili olarak aşağıda verilen bilgilerden hangisi yanlıştır?

- A) D ve E merkezlerinde yıl boyunca yerel saat aynıdır.
B) A ve B merkezlerinin ekvatora kuş uçuşu uzaklıkları eşittir.
C) 21 Mart'ta B ve C merkezlerinde güneş aynı anda doğar.
D) 23 Eylül'de güneş en geç A merkezinde doğar.
E) 21 Haziran'da öğle vakti güneş ışınları D ve E merkezlerine aynı açı ile gelir.