

Yapay Zekâ Destekli

Cilt
1

İKTİSAT SORU BANKASI

MİKRO İKTİSAT

ULUSLARARASI İKTİSAT - BÜYÜME VE KALKINMA
TÜRKİYE EKONOMİSİ - İKTİSADİ DOKTRİNLER TARİHİ



e-Soru bankasına
erişebilmek için
QR kodu okutunuz.



Fiziksel Kitap

HİBRİT
KİTAP

e-Soru Bankası

Dijital Öğrenme Aşak İzi

DİLEK ERDOĞAN KURUMLU

ARTIFORCE, TÜBİTAK-TEYDEB Destek Programından yararlanılarak geliştirilmiştir (Proje No: 7230451).
Ürün/hizmet ile ilgili tüm sorumluluk Pegem Akademi Yayıncılık Eğitim Danışmanlık Hizmetleri Tic. A.Ş.'ye aittir.



Dilek ERDOĞAN KURUMLU

**ECONOMICUS
TAMAMI ÇÖZÜMLÜ SORU BANKASI (Cilt 1)**

ISBN 978-625-6128-54-5

Kitapta yer alan bölümlerin tüm sorumluluğu yazarına aittir.

© Pegem Akademi

Bu kitabın basım, yayım ve satış hakları Pegem Akademi Yay. Eğt. Dan. Hizm. Tic. AŞ'ye aittir. Anılan kuruluşun izni alınmadan kitabın tümü ya da bölümleri, kapak tasarımı; mekanik, elektronik, fotokopi, manyetik kayıt ya da başka yöntemlerle çoğaltılamaz, basılamaz ve dağıtılamaz. Bu kitap, T.C. Kültür ve Turizm Bakanlığı bandrolü ile satılmaktadır. Okuyucularımızın bandrolü olmayan kitaplar hakkında yayınevimize bilgi vermesini ve bandrolsüz yayınları satın almamasını diliyoruz.

Pegem Akademi Yayıncılık, 1998 yılından bugüne uluslararası düzeyde düzenli faaliyet yürüten uluslararası akademik bir yayınevidir. Yayımladığı kitaplar; Yükseköğretim Kurulunca tanınan yükseköğretim kurumlarının kataloglarında yer almaktadır. Dünyadaki en büyük çevrimiçi kamu erişim kataloğu olan WorldCat ve ayrıca Türkiye'de kurulan Turcademy.com tarafından yayınları taranmaktadır, indekslenmektedir. Aynı alanda farklı yazarlara ait 1000'in üzerinde yayını bulunmaktadır. Pegem Akademi Yayınları ile ilgili detaylı bilgilere <http://pegem.net> adresinden ulaşılabilir.

16. Baskı: 2024, Ankara

Yayın-Proje: Pegem

Dizgi-Grafik Tasarım: Gülnur Öcalan

Kapak Tasarımı: Pegem

İletişim

Pegem Akademi: Shira Ticaret Merkezi, Macun Mahallesi 204 Cad.

No: 141/33, Yenimahalle/Ankara

Yayınevi: 0312 430 67 50

Dağıtım: 0312 434 54 24

Hazırlık Kursları: 0312 419 05 60

İnternet: www.pegem.net

E-ileti: pegem@pegem.net

WhatsApp Hattı: 0538 594 92 40

Baskı: Sonçağ Yayıncılık Matbaacılık Reklam San Tic. Ltd. Şti.

İstanbul Cad. İstanbul Çarşısı 48/48 İskitler/Ankara

Yayıncı Sertifika No: 51818

Matbaa Sertifika No: 47865

SUNU



Değerli uzman, denetmen ve müfettiş adaylarımız,

Soru bankamız Cilt 1 ve Cilt 2 olarak KPSS ve kurum sınavlarına yönelik tüm iktisat konularını kapsamaktadır. Yayınımız, her yıl gelen kurum ve KPSS soruları dikkate alınarak hazırlanmıştır. Konu anlatımlı kitaplarımızdaki video eğitimleriyle konular uygun sıralamada ilerlemekte ve konu sorularının arkasından karma sorular gelmektedir. Ayrıca tüm kitaplarımızın sonlarında sınavlara girmeden önce mutlaka bakılması gereken "ÖNEMLİ NOTLAR" yer almaktadır.

Bir konuya başlarken çözeceğiniz ilk testler temel düzeyde olacak, aynı konunun test sayısı arttıkça sorular zorlaşacaktır. Burada amaç önce KPSS ve kurum soru örneklerinden çözmeniz ve sonrasında da bu sorulardan türettiğimiz zor soruları da görmenizdir. Son dönemlerde gelen soru kalıpları basit sorular olduğu kadar zor sorular olduğunu da göstermektedir. Soruları doğru da yanlış da yapmanız çözümleri okumadan geçmeyiniz. Soru ezberlemek doğru değil, nedenleri ya da yanlışları sorgulamak önemlidir.

Biliyorsunuz ki zor yollar sabırla aşılır. Güzel olan hiçbir şeye kolay ulaşılmaz. Eğitim hayatınızın artık son noktasında yaşamınıza yön verecek sınavların sonundasınız. İnanın, pes etmeyin ve hakettiğiniz en güzel kurumlara yerleşin. Sizin için en büyük dileğim en iyi mevkilere kendi emeklerinizle gelmenizdir. Hepinize canı gönülden başarılar dilerim.

Dilek ERDOĞAN KURUMLU

Kitaba ilişkin sorularınızı pegem@pegem.net adresine e-posta yoluyla ya da

0538 594 92 40 numarasına WhatsApp üzerinden iletmeniz yeterli olacaktır.

Sorunuz en kısa sürede yayın ekibimiz tarafından cevaplandırılacaktır.

TÜRKİYE'DE İLK DEFA TÜM KİTAPLAR YANINDA; CEPTE, TABLETTE VE MASANDA

Hibrit kitaplarda kullanıcılar;



1. Kitabın dijital formatına erişim sağlayabilir.
2. Konu sonu testlerini çözebilir.
3. Testlerin çözümlerini görüntüleyebilir.

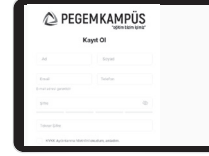


Yapay zekânın öğrenme analizinizi yapabilmesi için interaktif içeriklere etkileşim bırakmanız gerekmektedir. Etkileşim bırakmak için testlerde yer alan cevap seçeneklerini sistem üzerinde işaretlemeniz gerekmektedir. Böylelikle yapay zekâ bırakılan etkileşimler sonrasında sizlerin başarı durumlarını tespit ederek eksik tespitinizi gerçekleştirecektir.

Pegem Kampüs web sitesi üzerinden aktivasyon kodunuzu aktif edebilmek ve hibrit kitabınıza erişebilmek için aşağıdaki adımları takip ediniz:

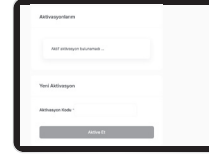
1. Adım Üyelik

Mevcut tarayıcınızın adres çubuğuna arti.pegemkampus.com yazarak web sitemiz üzerinden üyeliğinizi gerçekleştirebilirsiniz.



2. Adım Aktivasyon

Üyelik bilgileriniz ile giriş yaptıktan sonra sol menüde yer alan "**Aktivasyonlarım**" sekmesine girerek kodunuzu aktif edebilirsiniz.



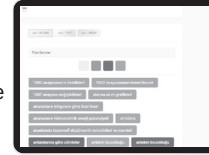
3. Adım Ürünlerim

Aktivasyon işleminizi tamamladıktan sonra menüde aktif hâle gelen "**Hibrit Kitap**" sekmesine tıklayarak içeriklere ulaşabilirsiniz.



4. Adım Yapay Zekâ Asistan

Hibrit kitaptaki işaretlemeleriniz doğrultusunda eksik tespitinizi yapabilmek için menüdeki "**Arti-Asistan**" sekmesine tıklayabilirsiniz. Eksiklerinizi tamamlamak ve daha fazla içerik görmek için pegemkampus.com adresini ziyaret edebilirsiniz.



*Aktivasyon kodu kitabımızın iç kapağında yer almaktadır.
Aktivasyon kodu ile aktif ettiğiniz hibrit kitaba erişim 31.08.2025 tarihine kadar geçerlidir.*



Pegem Kampüs İletişim Hattı
0312 418 51 55

İÇİNDEKİLER

BÖLÜM 1

MİKRO İKTİSAT

İktisadın Niteliği ve Önemi.....	3-11
Tüketici Dengesi Analizi.....	12-66
Arz - Talep Analizi ve Piyasa Dengesi	67-94
Esneklik	95-127
Üretim Teorisi.....	128-158
Maliyet Analizi	159-179
Tam Rekabet Piyasaları.....	180-213
Eksik Rekabet Piyasaları	214-271
Faktör Piyasaları	272-288
Genel Denge ve Refah Analizi.....	289-304
Mikro İktisat Karma Sorular.....	307-457

BÖLÜM 2

ULUSLARARASI İKTİSAT

Uluslararası İktisat	461-528
----------------------------	---------

BÜYÜME VE KALKINMA

Büyüme ve Kalkınma	531-585
--------------------------	---------

TÜRKİYE EKONOMİSİ

Türkiye Ekonomisi	589-636
-------------------------	---------

İKTİSADİ DOKTRİNLER TARİHİ

İktisadi Doktrinler Tarihi.....	639-673
---------------------------------	---------

Önemli Notlar	677-748
----------------------------	---------

MIKRO İKTİSAT
SORU VE ÇÖZÜMLERİ





İktisadın Niteliği ve Önemi

1. Aşağıdakilerden hangisi iktisadın genel tanımıdır?

- A) İnsan ihtiyaçlarının sonsuz kaynaklardaki alternatif kullanım yoludur.
- B) İnsanların kıt ihtiyaçlarının sonsuz kaynaklarla karşılanmasında etkin seçeneklerin kullanımınıdır.
- C) İnsan ihtiyaçlarının karşılanmasında kıt kaynakların alternatif kullanım yollarını inceleyen doğal bir bilim dalıdır.
- D) İnsan ihtiyaçlarının karşılanmasında kıt kaynakların alternatif kullanım yollarını inceleyen sosyal bir bilim dalıdır.
- E) Üretim, bölüşüm gibi küçük birimlerin doğal bir sonucu olan sosyal ve analitik bir bilim dalıdır.

2. Aşağıdakilerden hangisi iktisadın temel özellikleri içerisinde yer almaz?

- A) İktisat sosyal bir bilimdir.
- B) İktisat sadece rakamlarla uğraşır ve insan davranışlarının iktisadi yönüne yoğunlaşır.
- C) İktisat, malların tüketimi ile olduğu kadar üretimi ve dağıtımıyla da ilgilidir.
- D) İktisat analitiktir.
- E) İktisat, tarihi bir bilimdir.

3. İktisadın mevcut durumunu inceleyerek insan davranışları ve insanların nispeten küçük birimlerle ilişkili tercihlerini inceleyen iktisat bölümü aşağıdakilerden hangisidir?

- A) Mikro iktisat
- B) Makro iktisat
- C) Pozitif iktisat
- D) Normatif iktisat
- E) Nedensel iktisat

4. Aşağıdakilerden hangisi iktisatçıları ilgilendiren mikro bir konudur?

- A) Tüketici dengesi
- B) Millî gelir
- C) Enflasyon
- D) Dış ticaret
- E) Toplam talep

5. Bir faaliyetin biraz daha fazla ya da biraz daha az yapılmasına ilişkin kararlar ve bu kararların incelenmesi aşağıdakilerden hangisiyle ifade edilir?

- A) İhtiyaç
- B) Hipotez
- C) Tümleme yanılığı
- D) Rasyonel davranış
- E) Marjinal analiz

İktisadın Niteliği ve Önemi

6. Bir A malının fiyatında meydana gelen bir artış, B malının tüketim miktarında bir artışa neden oluyorsa bu iki mal arasındaki ilişki aşağıdakilerden hangisi ile açıklanır?

- A) İkame mal
- B) Tamamlayıcı mal
- C) İlişkisiz mal
- D) Bağımsız mal
- E) Normal mal

7. Ata ekmeğinin üretim sürecinde kullanılan mal ve hizmetlerden hangisi tüketici malı niteliğindedir?

- A) Maya
- B) Su ve un
- C) Hamur
- D) Ata ekmeği
- E) Hamuru yapan işçi

8. Bir otomobilin satış elemanı tarafından kullanılması, aşağıdaki mal türlerinden hangisini ifade eder?

- A) Nihai mal
- B) Dayanaksız mal
- C) Üretici malı
- D) Serbest mal
- E) Ekonomik olmayan mal

9. Aşağıdakilerden hangisi yanlıştır?

- A) Değeri bir veya birden fazla bağımsız değişkendeki değişmelere göre belirlenen değişken, bağımlı değişkendir.
- B) Değeri zamanın belli bir anında ölçülebilen değişken, stok değişkendir.
- C) Değeri model dışında sistem dışı etkilerle değişen değişken, dışsal değişkendir.
- D) Değeri incelenen eşitlik dışında veya eşitliğe bağımlı olarak belirlenen ve bağımsız değişkenin değerindeki değişmelere neden olan değişken, bağımsız değişkendir.
- E) Değeri belli bir zaman diliminde ölçülebilen değişken, akım değişkendir.

10. Para stoğu nasıl bir değişkendir?

- A) Dışsal değişken
- B) Stok değişken
- C) Akım değişken
- D) Bağımsız değişken
- E) İçsel değişken

11. Fransız iktisatçı Leon Walras, aşağıdakilerden hangisini matematiksel bir içerik katarak oluşturmuştur?

- A) Karşılaştırmalı statik analiz
- B) Statik analiz
- C) Dinamik analiz
- D) Kısmi denge analizi
- E) Genel denge analizi

12. $T(x) = x^3 - 20x^2$ ise ortalama değeri maksimum yapan x değeri kaçtır?
A) 10 B) 20 C) 30 D) 40 E) 50

13. Bir ekonomideki tüm üretim faktörlerinin veri teknoloji ile üretime koşulması, hiçbirinin atıl kalmaması varsayımı altında, belirli bir dönemde üretilmesi mümkün olan, alternatif mal bileşimlerini gösteren eğri aşağıdakilerden hangisidir?

- A) Tüketim imkânları eğrisi
B) Kayıtsızlık eğrisi
C) Üretim olanakları eğrisi
D) Eş-ürün eğrisi
E) Talep eğrisi

14. Üretim imkânları eğrisinin altında kalan bir nokta ile ilgili olarak aşağıdakilerden hangisi doğrudur?

- A) Tam istihdamda etkin olan noktadır.
B) Ekonomide var olan kaynaklarla ulaşılamayan noktadır.
C) Hasılanın maksimize edildiği noktadır.
D) Ekonomide kaynakların atıl bırakıldığı, etkin olmayan bir noktadır.
E) Ekonomide kaynakların tam ve etkin kullanıldığı bir noktadır.

15. Ekonomide kaynaklar kıt olmasa ve üretim faktörlerinin kullanımı gelişmiş olsa aşağıdakilerden hangisi söz konusu olur?

- A) Fırsat maliyeti artan bir öneme sahip olur.
B) Fırsat maliyeti kavramı önemsiz hâle gelir.
C) Marjinal dönüşüm oranı azalandır.
D) Kaynak tahsisi piyasa mekanizmasına bırakılır.
E) Kaynaklar devlet tarafından tahsis edilir.

16. Aşağıdakilerden hangisi marjinal dönüşüm oranını ifade eder?

- A) Bir malın para cinsinden değer ölçüsüdür.
B) Üretim imkânları eğrisinin genel ifadesidir.
C) Bağımsız değişkenin bağımlı değişkende oluşturduğu toplam değerdir.
D) Bağımsız değişkenin birim başına hesaplanan değeridir.
E) Üretim imkânları eğrisi üzerindeki herhangi bir noktadan çizilen teğetin eğimidir.