

YENİ

MEB 2024

T.C. MİLLİ EĞİTİM BAKANLIĞI

03 ŞUBAT
Yeni Sınav
Konularına Göre
Hazırlanmıştır.

YURT DIŞINDA Görevlendirilecek ÖĞRETMENLERİ Seçme Sınavı

TAMAMI ÇÖZÜMLÜ SORU BANKASI

MESLEKİ YETERLİLİK YAZILI SINAVI KONULARI

BÖLÜM	KONU	PUAN
I	Dil ve Anlam Bilgisi, Türk Edebiyatı, İnsanlığın Ortak Mirası Olan Kültürel Mirasımız, Türk Kültürü(Sanat, Mimari, Müzik, Yemek, Aile ve Bayramlar)	30 Puan
II	Genel Türk Tarihi; T.C. İnkılap Tarihi ve Atatürkçülük; Türkiye Coğrafyası; Türk Devletleri ve Toplulukları; Türklerin Bilim, Sanat ve Medeniyete Katkıları; Türk Düşünce Tarihi ve Devlet Felsefesi	30 Puan
III	Türk Eğitim Tarihi, Öğretim İlke ve Yöntemleri, Öğrenme Psikolojisi, Kültürel Diploması ve Eğitim	20 Puan
IV	05/06/2003 Tarihli ve 2003/5753 Sayılı Bakanlar Kurulu Kararı, 657 Sayılı DMK'nın 1. Kısmı ile 4. Kısmının 7. Bölümü, 5682 Sayılı Pasaport Kanunu, 1 Sayılı Cumhurbaşkanlığı Teşkilatı Hakkında Cumhurbaşkanlığı Kararnamesinin 6. Kısmının 11. Bölümü (Millî Eğitim Bakanlığı), Uluslararası Kuruluşlar, Genel Kültür	20 Puan

TOPLAM

DATA
YAYINLARI

MEB 2024

T.C. MİLLİ EĞİTİM BAKANLIĞI

YURT DIŐINDA

Görevlendirilecek

ÖÖRETMENLERİ

Seęme Sınavı

TAMAMI ÖÖZÜMLÜ

SORU BANKASI



YURT DIŐINDA GÖREVLENDİRİLECEK ÖĐRETMENLERİ SEÇME SINAVI



ÖN SÖZ

TAMAMI ÇÖZÜMLÜ SORU BANKASI

EDİTÖR

Turgut MEŐE

YAZAR

Komisyon



Bütün hakları Data Yayınlarına aittir. Yayıncının ve editörün izni olmaksızın, kitabın tümünün veya bir kısmının elektronik, mekanik ya da fotokopi yoluyla basımı, çoğaltılması ve dağıtımı yapılamaz.

Kitabın bilimsel sorumluluđu editöre aittir. Editör bölümlere katkıda bulunmuştur.

BU KİTAP T.C. KÜLTÜR VE TURİZM
BAKANLIĐININ BANDROLÜ İLE
SATILMAKTADIR.

ISBN

978-625-8221-38-1

Sertifika No: 40447

SAYFA TASARIMI

Data Dizgi Ekibi

KAPAK TASARIMI

Data Grafik Ekibi

BASKI VE CİLT

Data Dijital Matbaacılık

Yurt Dışında Görevlendirilecek Öğretmenleri Seçme Sınavı için yeni sınav konularına göre titiz çalışmalar sonucunda hazırlanmış olduğumuz “TAMAMI ÇÖZÜMLÜ Soru Bankası Kitabımızı” siz değerli adayların hizmetine sunmaktan mutluluk duyuyoruz. Soru Bankası kitabı geçmiş sınavdaki çıkmış tüm sorular analiz edilerek hazırlanmış ve konu sonlarına bolca testler konularak kendinizi pekiştirmeniz arzulanmıştır. Bu kitabımızın sizlere çok faydalı olacağına inanıyor ve yapılacak olan sınavda başarılar diliyoruz.

DATA YAYINLARI

KİTABA İLİŐKİN GÖRÜŐ VE ÖNERİLERİNİZ İÇİN

datayayinlari@gmail.com adresine e-posta ile veya

0542 262 03 37 WhatsApp iletişim numaramız

üzerinden iletebilirsiniz.



İvedik Organize Sanayi 1518 Sok.
Matbaacılar Sitesi Mat-Sit İş Merkezi No:2/20

Yenimahalle / ANKARA

Tel: 0 312 384 29 95 – 0 505 925 57 81

Faks: 0 312 342 23 58

İÇİNDEKİLER



1. KISIM

ÜNİTE 1 DİL VE ANLAM BİLGİSİ	6
ÜNİTE 2 TÜRK EDEBİYATI.....	76
ÜNİTE 3 İNSANLIĞIN ORTAK MİRASI OLAN KÜLTÜREL MİRASIMIZ.....	115
ÜNİTE 4 TÜRK KÜLTÜRÜ.....	122

2. KISIM

ÜNİTE 5 GENEL TÜRK TARİHİ	129
ÜNİTE 6 T.C. İNKILAP TARİHİ VE ATATÜRKÇÜLÜK.....	168
ÜNİTE 7 TÜRKİYE COĞRAFYASI	207
ÜNİTE 8 TÜRK DEVLETLERİ VE TOPLULUKLARI	245
ÜNİTE 9 TÜRKLERİN BİLİM, SANAT VE MEDENİYETE KATKILARI	254
ÜNİTE 10 TÜRK DÜŞÜNCE TARİHİ VE DEVLET FELSEFESİ	262

3. KISIM

ÜNİTE 11 TÜRK EĞİTİM TARİHİ	272
ÜNİTE 12 ÖĞRETİM İLKE VE YÖNTEMLERİ.....	280
ÜNİTE 13 ÖĞRENME PSİKOLOJİSİ	335
ÜNİTE 14 KÜLTÜREL DİPLOMASİ VE EĞİTİM.....	360

4. KISIM

ÜNİTE 15 2003/5753 SAYILI BAKANLAR KURULU KARARINA GÖRE BAKANLIKLARARASI ORTAK KÜLTÜR KOMİSYONU.....	368
ÜNİTE 16 657 SAYILI DEVLET MEMURLARI KANUNU	373
ÜNİTE 17 5682 SAYILI PASAPORT KANUNU	416
ÜNİTE 18 1 SAYILI CUMHURBAŞKANLIĞI KARARNAMESİ (MEB).....	420
ÜNİTE 19 ULUSLARARASI KURULUŞLAR	428
ÜNİTE 20 GENEL KÜLTÜR.....	436

MESLEKİ YETERLİLİK YAZILI SINAVI KONULARI		
BÖLÜM	KONU	PUAN
I	Dil ve Anlam Bilgisi, Türk Edebiyatı, İnsanlığın Ortak Mirası Olan Kültürel Mirasımız, Türk Kültürü (Sanat, Mimari, Müzik, Yemek, Aile ve Bayramlar)	30 Puan
II	Genel Türk Tarihi; T.C. İnkılap Tarihi ve Atatürkçülük; Türkiye Coğrafyası; Türk Devletleri ve Toplulukları; Türklerin Bilim, Sanat ve Medeniyete Katkıları; Türk Düşünce Tarihi ve Devlet Felsefesi	30 Puan
III	Türk Eğitim Tarihi, Öğretim İlke ve Yöntemleri, Öğrenme Psikolojisi, Kültürel Diplomasi ve Eğitim	20 Puan
IV	05/06/2003 Tarihli ve 2003/5753 Sayılı Bakanlar Kurulu Kararı, 657 Sayılı DMK'nın 1. Kısmı ile 4. Kısmının 7. Bölümü, 5682 Sayılı Pasaport Kanunu, 1 Sayılı Cumhurbaşkanlığı Teşkilatı Hakkında Cumhurbaşkanlığı Kararnamesininin 6. Kısmının 11. Bölümü (Millî Eğitim Bakanlığı), Uluslararası Kuruluşlar, Genel Kültür	20 Puan
TOPLAM		100 Puan

1. KISIM

- Dil ve Anlam Bilgisi
- Türk Edebiyatı
- İnsanlığın Ortak Mirası Olan Kültürel Mirasımız
- Türk Kültürü(Sanat, Mimari, Müzik, Yemek, Aile ve Bayramlar)

30 PUAN

DİL VE ANLAM BİLGİSİ

1.

ÜNİTE

TEST
1

DİL VE ANLAM BİLGİSİ

1. Aşağıdaki dizelerin hangisinde koşul anlamı vardır?

- A) Uzak bir kasabada bir sokak var kederli Adını kaldırım taşlarına kazıyor
- B) İşte doğduğun evdesin birden Yolunu gözlüyor lamba ve merdiven
- C) Gidersen yıkılır bu kent kuşlar da ölür Bir tufan olurum sustuğun her yerde
- D) Kim bilir bu gizlerin derin yalnızlığını Aşkını bir teknenin hangi denizi anlar

2. Bilenin susması, bilmeyenin konuşması kadar çirkindir.

Aşağıdakilerden hangisi bu cümleye anlamca en yakındır?

- A) Bildiği bir durumda susanla, bilmediği durumda konuşan aynı değerdedir.
- B) Bilgi edinmek isteyen, bilenden de bilmeyenden de yararlanmalıdır.
- C) Gördüklerini söyleyen insan, söylemeyenlere örnek olmalıdır.
- D) Saklanan bilgi her zaman unutulmaya mahkum olacaktır.

3. I. Yarın seni arayacağım, dedi.
II. Hayır, sizin gibi düşünmüyorum.
III. Uzun, sarı saçları vardı çocuğun.

Yukarıdaki cümlelerde "virgül"ün aşağıdaki işlevlerinden hangisine örnek yoktur?

- A) Seslenme ve hitaplardan sonra kullanılır.
- B) Tırnak içine alınmamış alıntı sözlerden sonra getirilir.
- C) Eş görevli sözcükleri ayırır.
- D) "ret, onay" gibi sözcüklerden sonra cümle devam ediyorsa kullanılır.

4. (I) Mustafa İnan, eğitim hayatı boyunca hiç defter kullanmaz. (II) Çok zeki olduğu için buna gerek duymaz. (III) Fakat babası kitapla, defterle uğraşmayan bu çocuğun okumayacağını düşünür. (IV) Mustafa, ailesine yük olmamak için kitap da almaz.

Bu parçada numaralanmış cümlelerin hangisinde ön yargı vardır?

- A) I B) II C) III D) IV

5. Aşağıdaki dizelerin hangisinde ünlü türemesi vardır?

- A) Ne bir bulut parçası ne bir gölge izi var Kızgın bir fırın gibi yanıyor boş ufuklar
- B) Her yer şimdi uykuda her taraf şimdi baygın Dağlar uzakta sanki dumandan birer yığın
- C) Sokaklar bile derin bir öğle uykusunda Aman uyanmasınlar aman biraz susun da
- D) Gece sanki dağlarla çevrilmiş bir uçurum Odamda yapayalnız boşluğu dinliyorum

6. 80'den sonra günümüze değin sanat dallarıyla uğraşan insanların tamamen özel yaşamını gündeme getirmeyi amaçlayan önemsiz haberler, basının artık sanata değer vermediğini veya sanattan anlamadığını gösteriyor. Gündeme getirilmek veya gündemde tutulmak istenen kişilerin meslekleriyle ilgili olayları değil, sosyal yaşamlarıyla ilgili alışkanlıkları, hobileri gibi hiç kimseye bir yarar sağlamayacak olayları önemseyip haber yapan basın, insanların ilgisini çekip, günlük malzeme yaratmak ve bunu satmak için her yolu deniyor.

Bu parçadan yakınılan durum aşağıdakilerden hangisidir?

- A) Sanatçıların özel hayatlarıyla öne çıkmasından
- B) Özel yaşamın sanattan üstün tutulmasından
- C) Ülkemizde sanatın yeteri kadar gelişmediğinden
- D) Basının sanattan çok sanatçıyla ilgilenmesinden

TEST 10

DİL VE ANLAM BİLGİSİ

1. Aşağıdakilerin hangisinde anlatılanlar parantez içinde verilenlerle uyuşmamaktadır?

- A) Okuyucu, bir kitabı her okuduğunda yeniden anlamlandırır ve hatta yeniden yazar. (okurun hayal dünyasında eserin oluşturulması)
- B) Öykülerinde olayları, kişileri, nesnelere öyle canlı anlatır ki onlar gözünüzün önünden geçer. (betimleyici anlatımı yeğleme)
- C) Eserlerinden merak unsurunu hiç göz ardı etmeyerek okuyucu hep zinde tutar. (sürükleyici nitelik gösterme)
- D) Bir edebiyat eseri sanat ve süsten uzak, olabildiğince günlük dili yansıtmalıdır. (akıcı bir anlatıma sahip olma)

2. (I) Mülakat türünün önemli ismidir Ruşen Eşref Üneydin. (II) Anafartalar Kumandanı Mustafa Kemal ile Mülakat'ın yazarı olan Üneydin, Atatürk'ü Türk basınına tanıtmıştır. (III) Atatürk'ün kişiliği ve fikirleri hakkında bilgiler içeren güzel bir mülakattır. (IV) Mülakat türünün bizde nasıl geliştiğini ve ne merhalelerden geçtiğini görmek isteyenler bu mülakatı kesinlikle okumalıdır.

Numaralanmış cümlelerin hangisinde tanıtılan yapının içeriğinden söz edilmiştir?

- A) I B) II C) III D) IV

3. I. İnsana ve sanata dair pek çok ürün vardır Altındağ'da.
II. İnsanlara güveni olmayan, içine kapanık bir adamdı.
III. Cengiz Dağcı, Kırım Türklerinin ezilmişliğini anlatırdı.
IV. Eski evlerin çok yukarısındaydı.

Yukarıdaki cümlelerden hangileri öge sıralamasıyla özdeştir?

- A) I ve II B) I ve III
C) II ve III D) II ve IV

4. İnsan, kırk yaşını geçti mi farkında olmadan yüzünü anılara doğru çevirmeye başlar.

Bu cümleye anlamca en yakın cümle aşağıdaki-lerden hangisidir?

- A) Kaçırduğumuz fırsatları, geri kalan yaşamımızı harcasak da yakalayamayız.
B) Sıkıntılı günlerde bilinçsizce eski günlerdeki güzellikleri hatırlamaya çalışırız.
C) Büyük sanatkârlar, ömürlerinin son günlerinde önemli hatıralarını yazarlar.
D) Bir milletin tarihi bütün yönleriyle kayıt altına alınmalıdır.

5. Hayatta onaylanma hedefleyebileceğimiz ahlakın tamamına karşılık gelmektedir.

Aşağıdaki cümlelerden hangisi anlamca bu cümleye en yakındır?

- A) Ahlak unsurları kişiden kişiye değişmektedir.
B) Kabul görmek, toplumun yazısız kurallarına uymakla mümkündür.
C) İnsanın ulaşmak istediği ahlaki amaçları olmasıdır.
D) İnsanın davranışlarının temelinde onaylanma isteği vardır.

6. (I) İnsanların iki kutuplu ilişkilerini ne denli kolayca inkar ettikleri dikkate değerdir. (II) Özgürlük kutbuna odaklanmak, kişinin kendisini tüm mücadelenin ve ilişkilerin dışında hayal etmesini sağlar. (III) "Sözler beni asla incitmez" fikrine kapılmaları olağanüstü şaşırtıcı ve gülünçtür. (IV) Bu, üzerimdeyken başkalarının benimle ilgili yargılarını yanıtlamaya değmez olduğunu gösteriyorum anlamına gelmektedir.

Bu parçada numaralanmış cümlelerle ilgili aşağıda verilenlerden hangisi yanlıştır?

- A) I. cümlede kişisel bir görüşten bahsediyor.
B) II. cümlede açıklama yapıyor.
C) III. cümlede bir durumun yazarın üzerinde yarattığı izlenimden bahsediliyor.
D) IV. cümlede nesnel yargılardan söz ediyor.

**TEST
15**

DİL VE ANLAM BİLGİSİ

1. Ünlü yazar incelemesinde mümkün olduğu ölçüde çıplak bir göz ile bakıyor ele aldığı esere. Mümkün olduğu ölçüde diyoruz çünkü hiçbir eleştirmen kendi karakterinin, birikiminin, siyasi görüşlerinin, hayata bakışının görünmeyen gözlüklerinden bütünüyle kurtulamaz.

Bu parçada altı çizili sözle anlatılmak istenen aşağıdakilerden hangisidir?

- A) Nesnel ve ön yargısız bakış
B) Gözleme önem veren bir yaklaşım
C) Açıklayıcı bir inceleme
D) Ayrıntıları dikkate almayan bir anlayış

2. Bir dilin zenginliğini o dile emek verenlerle ilgilidir. Fakat emek verenlere de düşen görevler vardır. Örneğin denemeci büyümeyecektir ama kendinin de bir değeri olduğuna inanarak en sıradan düşüncelerini, duygularını bile ifade etmekten kaçınmayacaktır. Çünkü denemeci, genel anlamda da edebiyatçı okurlarına açılabilen kişidir.

Bu parçada geçen "okurlarına açılabilen kişi" sözüyle anlatılmak istenen aşağıdakilerden hangisidir?

- A) Senli benli bir dil kullanan
B) Her düzeydeki okuyucuya hitap eden
C) İçinden geldiği gibi yazan
D) Objektif olmaya gayret gösteren

3. Yapıtında dile getirdikleri okuyucuda yaşanmışlık duygusu uyandırıyorsa o yazar başarılıdır, denilebilir.

Bu cümleye göre yazarın başarısında önemli olan aşağıdakilerden hangisidir?

- A) Düş gücüne seslenmesi
B) Hedefine yönelmesi
C) Okur sayısının çok olması
D) Anlattıklarının gerçekmiş gibi algılanması

4. (I) Püren, makiliklerde ve kalkerli toprakların güneş gören yerlerinde yetişen, 50 ile 80 cm boyunda, çalı görünümlü bir bitkidir. (II) Ucu sivri, küçük koyu yeşil, çam iğnesine benzeyen yaprakları vardır. (III) Püren, kışın yapraklarını dökmez ama mevsim sonunda bronzlaşır ve bu rengi çiçek açma zamanına kadar korur. (IV) Aykırı bir bitkidir püren, diğerleri kış uykusuna yatarken o uyanır ve kasım sonlarına doğru sanki baharı müjdeliyormuş gibi açık pembe çiçek açar.

Bu parçadaki numaralanmış cümlelerin hangisinde öznel bir değerlendirme söz konusudur?

- A) I B) II C) III D) IV

5. (I) Orhan Veli, nazım ve nesir türünde yapıtlar vermiştir. (II) O herşeyden önce kuvvetli bir şairdir. (III) Şiirleriyle edebiyatımızda yankı uyandırmış ve edebiyatımıza yeni bir ses getirmiştir. (IV) Fransızca'dan La Fontaine'nin fablalarını usta bir dille nazma çekmiştir.

Orhan Veli ve eserlerinin söz edildiği bu parçada numaralanmış cümlelerle ilgili olarak aşağıda verilenlerden hangisi yanlıştır?

- A) I. cümlede hem şiir hem de düzyazı niteliğinde eserleri olduğu belirtilmiştir.
B) II. cümlede başarılı bir ozan olduğu vurgulanmıştır.
C) III. cümlede çığır açan bir şair olduğu dile getirilmiştir.
D) IV. cümlede birçok önemli çevirileri olduğu ifade edilmiştir.

6. **Aşağıdaki cümlelerin hangisinde ad eylem, ad tamlamasının tamlayanı olmuştur?**

- A) Bir okuma parçası insana çok şeyler öğretir.
B) Okumayı iyi bilen, daha iyi anlar.
C) Aile olarak okumaya önem veriyorlardı.
D) Onun, okumaya büyük bir isteği vardı.

14. Ne yazık ki söylediğimiz doğru olmasından çok, değişik olması dikkat çekiyor. Reyting denilen şey de zaten merakın sömürülmesi anlamına geliyor. İyiyi, güzeli, doğruyu değil; sansasyonel olanı bekliyor insanlar. Bu da kötü şeylerin yaygınlaşmasına, kaosa yol açıyor. Bütün bunlar da eğitim eksikliğinden kaynaklanıyor. Zira eğitim, biraz da ölçülü olmayı sağlar ve ölçsüzlüğün şöhrete, zenginliğe dönüştürülmesine engel olur.

Aşağıdakilerden hangisi bu parçada yakınılan durumlardan biri değildir?

- A) İlgi görmek uğruna yanlışların sergilenmesi
- B) Nitelikli olanların kendilerini iyi sunmayışları
- C) İnsanların niteliğe ilgi duymaması
- D) Ölçsüzlüklerin, insanların merakını sömürmede araç olarak kullanılması

15. (I) Dünya'nın iğnesi bir gün kuzey yerine güneyi gösterecek. (II) Gezegenimizin manyetik kutupları, binlerce yıl süren dönemlerin ardından yer değiştiriyor. (III) Bize olağan dışı gibi görünen bu durum, aslında milyonlarca yıldır tekrarlanıyor. (IV) İnsan oğlu tarih boyunca böyle bir değişimle hiç karşılaşmadı.

Bu parçada numaralanmış cümlelerden hangisinin düşüncenin akışını bozmaktadır?

- A) I
- B) II
- C) III
- D) IV

16. (I) Otobüsümüzün kaldırdığı toz bulutu içinde ilerliyoruz. (II) Derken küçük, şirin bir kasabadan geçiyoruz. (III) Yan yana sıralanmış, alçak damlı, topraktan yapılmış kahvehaneler görüyorum. (IV) Kahve önlerinde tahta taburelerde oturan yanık tenli, kederli yüzler otobüsü süzüyordu.

Bu parçadaki numaralanmış cümlelerden hangisinin yüklemi kökü yönüyle diğerlerinden farklıdır?

- A) I
- B) II
- C) III
- D) IV

17. Okulun önündeki çocukları beklerken ...

Bu cümle aşağıdakilerden hangisiyle tamamlanırsa cümlelerin öğeleri sırasıyla "zarf tümleci, dolaylı tümleç, zarf tümleci, nesne, yüklem"den oluşur?

- A) dersten çıkan öğrencileri görebiliyorduk.
- B) arabayı kenara park edip beklemeye başladım.
- C) yolda büyük bir kaza olduğunu duydum.
- D) öğretmenler odasında gözlerimi kapatıp yapacaklarımı düşündüm.

18. "Bereket versin ki oraya vardığımızda Ankara treni teknik bir arızadan dolayı henüz kalkmamıştı." **cümlesine altı çizili sözün kattığı anlam aşağıdakilerden hangisinde vardır?**

- A) Hiç kuşku yok ki şiirle resim aynı kaynaktan beslenir.
- B) Demek ki uzun zamandır bu okulda çalışıyorsun.
- C) Sonunda bütün aksilikler ortadan kalktı, çok rahatladım.
- D) Neyse ki yağmurdan önce çamaşırları toplamışsınız.

19. **Aşağıdaki cümlelerin hangisinde ikileme diğerlerinden farklı türde kullanılmıştır?**

- A) Ne bakarsın melül melül
- B) Bulut bulut akan bir gözyaşı oldu Meriç
- C) Uzun uzun bakacaksın geçmişine bir daha
- D) Kulaklarında yumuk yumuk mavi gözlerin türküsü

20. **Aşağıdakilerin hangisinde adlaştırmış sıfat "ad tamlamasının tamlayanı" olarak kullanılmıştır?**

- A) Ağacın altında küçük bir çanta bulmuştum.
- B) Kulaklarında yumuk yumuk mavi gözlerin türküsü
- C) Günün yorucu işlerini bitirip evine gitti.
- D) Dertlinin hâlinde ancak dertliler anlar.

CEVAP ANAHTARI

1	A	5	D	9	D	13	B	17	D
2	C	6	A	10	D	14	B	18	D
3	D	7	D	11	A	15	D	19	D
4	D	8	C	12	D	16	A	20	D

TEST 1

DİL VE ANLAM BİLGİSİ (ÇÖZÜMLER)

Çözüm 1: C seçeneğinde kentlerin yıkılması, kuşların ölmesi ve şairin tufan olması gitme koşuluna bağlanmış. Doğru cevap C seçeneğidir.

Çözüm 2: Bildiği halde susanın durumu ile bilmeyenin konuşması eş değerdir denilmek istenmiş, A seçeneğinde anlamca bu cümleye yakın bir cümle kullanılmıştır. Doğru cevap A seçeneğidir.

Çözüm 3:

I. cümle trnak içine alınmamış cümleler için

II. cümle ret, onay gibi ifadelerden sonra

III. cümle eş görevli sözcüklerin arasına konmuş

Seslenme ve hitaplardan sonra konur örneği yoktur. Doğru cevap A seçeneğidir.

Çözüm 4: C seçeneğinde babanın, oğlunun okumayacağını düşünmesi bir ön yargıdır. Doğru cevap C seçeneğidir.

Çözüm 5: D seçeneğindeki yapayalnız kelimesinde “a” sesi türemiştir. Doğru cevap D seçeneğidir.

Çözüm 6: Parçada basının sanatla ilgilenmesinden çok sanatçıların özel yaşamlarıyla ilgilenmelerinden şikayet edilmektedir. Doğru cevap D seçeneğidir.

Çözüm 7: Dönüşlü eylemlerde özne hem işi yapan hem de işten etkilenendir. IV. cümlede yüklem; özne dışında başka bir nesne aldığı için özne işten etkilenen değildir. Doğru cevap D seçeneğidir.

Çözüm 8: Bu parçada şiirin insanı etkilemek için yazıldığından bahsedilmiş. Şiirin anlamından çok insan üzerindeki etkisinden söz ediliyor. Doğru cevap C seçeneğidir.

Çözüm 9: III. cümlede şair hakkında kendi görüşünü belirterek bir çıkarım yapılmıştır. Doğru cevap C seçeneğidir.

Çözüm 10: A, B ve C seçeneklerinde cümleler anlamca tamamlandığı için sonuna nokta(.) konulmalı ancak D seçeneğinde örnek verileceği için sonuna iki nokta (:) konmalıdır. Doğru cevap D seçeneğidir.

Çözüm 11: Oktay Rifat'ın vurgulamak istediği yalınlıktır. Laf ebeliği yapmaktan ve mecazlardan kaçınmak yalınlık demektir. Doğru cevap D seçeneğidir.

Çözüm 12: Sözlü anlatım biçimleri üzerinde kimlerin inceleme yaptıkları örneklerle verilmiştir. Doğru cevap D seçeneğidir.

Çözüm 13: II. cümlede “bu” işaret zamiri ek eylemin geniş zamanın üçüncü kişi ekini alarak yüklem olmuştur. Doğru cevap B seçeneğidir.

Çözüm 14: Yeryüzü kelimesi bitişik yazılan bir birleşik kelimedir. Soruda ayrı yazılarak bir yazım yanlışı yapılmıştır. Doğru cevap B seçeneğidir.

Çözüm 15: I. seçenekte “oynaşan, geçip” II. seçenekte “yayılan” III. seçenekte “baktığımda” IV. seçenekte eylemsi yoktur. Doğru cevap D seçeneğidir.

Çözüm 16: Bu parçada insanların mağara duvarlarına güzellik amacıyla resim çizdikleri bilgisi yer almamaktadır. Doğru cevap D seçeneğidir.

Çözüm 17: Son cümlede yer alan yapabildim ve gerçekleştireceğim kelimeleri kişinin kararlı olduğunu gösteriyor. Doğru cevap D seçeneğidir.

Çözüm 18: I, II ve III. cümlelerde bireyci sanatçıların bireysel konuları ele almalarından söz edilmiş IV ve V. cümlelerde bireyci ve toplumcu sanatçıların birbirleriyle olan ilişkileri anlatılıyor. IV. cümleden itibaren anlam farklı bir boyut kazanmıştır. Doğru cevap C seçeneğidir.

Çözüm 19: Yazar tiyatro ile ilgili düşüncelerini tartışma içerisinde ele almıştır. Tartışma tekniği, öne sürülen bir düşüncenin doğruluğunu savunmak ya da yanlışlığını ortaya koymaktır. Doğru cevap D seçeneğidir.

Çözüm 20: Vermişim kelimesindeki -im eyleme gelecek işin kim tarafından yapıldığını belirtmiş kişi ekidir. Anadolu'yum kelimesindeki -im isme gelecek yüklem yapmış ek fiil ekidir. Doğru cevap B seçeneğidir.

Çözüm 13: A seçeneğindeki “rast gele” sözünün yazımı yanlıştır. Bu sözün doğru yazımı “rastgele” biçiminde olmalıdır. Doğru cevap A seçeneğidir.

Çözüm 14: Parçanın IV. cümlesinde “Yaygın kanaate göre bu resimler ilkel insanların, avcılıktaki başarılarını artırmak için başvurduğu büyüye yardım etme için yaptıkları sanılmaktadır.” sözleri ile bir tahminde bulunulmuştur. Cümledeki “sanılmaktadır” sözü bunu göstermektedir. Doğru cevap D seçeneğidir.

Çözüm 15: Sözcüğün anlam genişlemesi yoluyla kazandığı bütün anlamlarına yan anlam denir. Buna göre B seçeneğindeki “kuyruk” sözcüğünün temel anlamı “hayvanların çoğunda bulunan gövdenin arka kısmındaki omurganın uzantısı”dır. Cümlede ise “insanların sıra beklemek için oluşturduğu dizi” anlamında kullanılarak yan anlam kazanmıştır. A seçeneğinde ise “kuyruk” sözcüğü mecaz anlamda kullanılmıştır. Doğru cevap B seçeneğidir.

Çözüm 16: Parçadaki “O şiir, belli bir dönemin, belli bir duyarlılık ortamının belli bir dil bağlamının ürünüdür ve olduğu gibi kalmalıdır.” sözleri göz önünde tutulursa parçada “şiirin yazıldığı dilden, ortamdan ve koşullardan soyutlanamayacağı” yargısını vurgulandığı görülür. Doğru cevap A seçeneğidir.

Çözüm 17: A seçeneğindeki “Manda yuva yapmış söğüt dalına”, B seçeneğindeki “leylaklar saçını yoldu” ve C seçeneğindeki “aynalar bakmayın yüzüme dik dik” sözleri birbiriyle uyuşmayan kelimelerden oluştuğundan bunlar alışılmamış bağdaştırma örnekleridir. D seçeneğindeki “dağda bir divaneyim” sözü ise birbiriyle uyuşan kelimelerden oluşmuş bir alışılmış bağdaştırmadır. Doğru cevap D seçeneğidir.

Çözüm 18: Dizelerdeki “bir mart sabahı” sözündeki “bir” sözcüğü belgisiz sıfat, “fecrin alevleri” sözü belirtili isim tamlaması, “soğuk bir mart sabahı” sözü zaman zarfıdır. Dizelerde bağlaç yoktur. Doğru cevap D seçeneğidir.

Çözüm 19: Başkasından alınan sözün, cümledeki yargıyı değiştirmeden kendi sözcüklerimizle aktarılmasına dolaylı anlatım denir. Buna göre C seçeneğinde “Bunun ahlaki olup olmadığını sordu.” cümlesi dolaylı anlatıma bir örnektir. Doğru cevap C seçeneğidir.

Çözüm 20: B seçeneğinde verilen kesme işaretinin kullanımı yanlıştır. Çünkü yapım eklerinden sonra gelen çekim ekleri kesme işaretiyle ayrılmaz. (Tükçe nin – Türkçenin) Doğru cevap B seçeneğidir.

TEST 15

DİL VE ANLAM BİLGİSİ (ÇÖZÜMLER)

Çözüm 1: Parçada altı çizili olan “çıplak bir göz” sözü ile anlatılmak istenen “hiç çarpıtmadan, olduğu gibi” anlamlarıdır. Bu anlam A seçeneğinde “nesnel ve ön yargısız bakış” sözleri ile verilmiştir. Doğru cevap A seçeneğidir.

Çözüm 2: Parçadaki “okurlarına açılabilen kişi” sözünde anahtar sözcük “açılabilen”dir. Bu sözcük “duygu ve düşüncelerini rahatça ifade edebilen, kendini aynen yansıtabilen” anlamlarında kullanılmıştır. Buna göre “okurlarına açılabilen kişi” sözüyle anlatılmak istenen “içinden geldiği gibi yazan” dir. Doğru cevap C seçeneğidir.

Çözüm 3: Öncül cümledeki “... okuyucuda yaşanmışlık duygusu uyandırıyor...” sözleri ile yazarın başarılı olma koşulu açıklanmıştır. Buna göre yazarın başarısında önemli olan “anlattıklarının gerçekmiş gibi algılanması” dir. Doğru cevap D seçeneğidir.

Çözüm 4: Öznel değerlendirme; bir kişi, olay, eser ya da nesneyi değişik yönlerden eleştirme, inceleme ve edinilen izlenimleri ortaya koymadır. Buna göre parçanın IV. cümlesindeki “Aykırı bir bitkidir püren, diğerleri kış uykusuna yattarken o uyanır ve kasım sonlarına doğru sanki baharı müjdeliyormuş gibi açık pembe çiçekler açar.” Sözlerinde öznel bir değerlendirme söz konusudur. Doğru cevap D seçeneğidir.

Çözüm 5: Parçanın I. cümlesindeki “Orhan Veli, nazım ve nesir türünde yapıtlar vermiştir.” sözleri, A seçeneğindeki bilgiyi; II. cümlesindeki “O her şeyden önce kuvvetli bir şairdir.” sözleri, B seçeneğindeki bilgiyi; III. cümlesindeki “Şiirleriyle edebiyatımızda yankı uyandırmış ve edebiyatımıza yeni bir ses getirilmiştir.” sözleri, C seçeneğindeki bilgiyi; doğrulamaktadır. Parçanın IV. cümlesindeki “Fransızcadan La Fontaine’nin fabllarını usta bir dille nazma çekmiştir.” sözleri, D seçeneğindeki bilgiyi doğrulamamaktadır. Doğru cevap D seçeneğidir.

Çözüm 6: A seçeneğindeki “okuma” sözcüğü ad eylemdir ve bu sözcük “okuma parçası” tamlamasında tamlayan görevinde kullanılmıştır. Doğru cevap A seçeneğidir.

Çözüm 7: Sıralı cümle; birden fazla yüklemi olan cümle demektir. Buna göre parçanın IV. cümlesindeki “bir silkinişte cübbesini sırtından atıyor, kaderini içinden gelen sese bırakıyor.” yargısı sıralı bir cümledir. Doğru cevap D seçeneğidir.

Çözüm 8: Cümledeki “sinemayla” sözcüğündeki “-la” eki ile bağlacı, “söylerken” sözcüğü zarf-fiil, “romanın bileşimi” sözü belirtili ad tamlamasıdır. Cümlede “belgisiz zamir” yoktur. Doğru cevap C seçeneğidir.

Çözüm 9: Cümledeki “kendisini” sözcüğü dönüşlülük zamiri, “bilmelidir” sözcüğü etken çatılı yüklem, “isteyen” sözcüğü sıfat-fiildir. Cümlede “bileşik sözcük” yoktur. Doğru cevap D seçeneğidir.

Çözüm 10: IV numara ile gösterilen “oysa ki” sözünün yazımı yanlıştır. Doğru yazım “oysaki” biçiminde olmalıdır. Doğru cevap D seçeneğidir.

Çözüm 11: A seçeneğinde tamlama yanlışlığından kaynaklanan anlatım bozukluğu vardır. Cümle: “Irak’a yapılan askeri yardım ve gıda yardımı halka tam anlamıyla ulaşmıyor.” Biçiminde olmalıdır. Doğru cevap A seçeneğidir.

Çözüm 12: Parçadaki “ fobilerinden hiç söz etmezler fobilerinin ait oldukları karanlıkta sonsuza dek gizli kalmasını tercih ederler.” sözleri göz önünde tutulursa parçanın yazarının “insanların fobilerini gizlemeye çalışmasına” karşı çıktığı görülür. Doğru cevap D seçeneğidir.

Çözüm 13: Parçada yer alan “Halk hikâyeleri ya gerçek ya da gerçeğe yakın olayların anlatıldığı uzun soluklu anlatım türüdür.” cümlesinde “halk hikâyeleri” tanımlandığı için “tanımlama”, olağanüstü unsurları barındırma yönüyle halk hikâyeleriyle destanlar karşılaştırıldığı için de “karşılaştırma” vardır. Doğru cevap B seçeneğidir.

Çözüm 14: Parçadaki “ İyiyi, güzeli, doğruyu değil; sansasyonel olanı bekliyor insanlar.” sözleri ile A seçeneğindeki “ilgi görmek uğruna yanlışların sergilenmesi”, B seçeneğindeki “insanların niteliğe ilgi duymaması”; “Reyting denilen şey de zaten merakın sömürülmesi anlamına geliyor; iyiyi, güzeli, doğruyu değil; sansasyonel olanı bekliyor insanlar.” sözleri ile de D seçeneğindeki “ölçsüzlüklerin, insanların merakını sömürmede araç olarak kullanılması”ndan yakınılmaktadır. Ancak parçada “nitelikli olanların kendilerini iyi sunamayışları”ndan yakınılmamaktadır. Doğru cevap B seçeneğidir.

Çözüm 15: Verilen paragrafta I, II ve III. cümlelerden manyetik kutupların değişimiyle ilgili bilgiler verilmiştir. Bunlar birbiriyle bağlantılı cümlelerdir. Ancak IV. cümlede bu değişimin insanlar tarafından görülmediği dile getirilmiştir ve paragrafın anlam bütünlüğü bozulmuştur. Doğru cevap D seçeneğidir.

Çözüm 16: Yüklem görevinde kullanılan sözcüklerden; II numaradaki “geçiyoruz (geç-mek)” sözcüğü, III numaradaki “görüyorum (gör-mek)” sözcüğü, IV numaradaki “süzüyordum (süz-mek)” sözcüğü fiildir. I numaradaki “ilerliyoruz (ileri)” sözcüğü ise isimdir. Doğru cevap A seçeneğidir.

Çözüm 17: “Okulun önündeki çocukları beklerken ----” ifadesi D seçeneğindeki “öğretmenler odasında gözlerimi kapatıp yapacaklarımı düşündüm.” ifadesiyle tamamlanırsa;

“Okulun önündeki çocukları beklerken / öğretmenler odasında / gözlerimi kapatıp / yapacaklarımı / düşündüm.” cümlesi sırasıyla “zarf tümleci / dolaylı tümleç / zarf tümleci / nesne / yüklem” den oluşmuş olur. Doğru cevap D seçeneğidir.

Çözüm 18: “Bereket versin ki” sözü, olmasından korkulan fakat gerçekleşmeyen kötü olaylar için söylenir. “Neyse ki yağmurdan önce çamaşırları toplamışsınız.” cümlesinde bu anlamı görmekteyiz. Doğru cevap D seçeneğidir.

Çözüm 19: A seçeneğinde “melül melül” ikilemesi, “bakarsın” fiilini; B seçeneğinde “bulut bulut” ikilemesi, “akan” fiilimsisini; C seçeneğinde “uzun uzun” ikilemesi, “bakacaksın” fiilini niteleyerek zarf görevinde kullanılmıştır. D seçeneğinde “yumuk yumuk” ikilemesi ise “göz” ismini nitelediği için sıfat görevinde kullanılmıştır. Doğru cevap D seçeneğidir.

Çözüm 20: D seçeneğindeki “Dertlinin hâli” sözü ad tamlamasıdır. “Dertli insan” sıfat tamlamasındaki “insan” sözcüğü düşürülmüştür. Bu cümlede “Dertlinin” sözcüğü tamlayan durumundadır ve adlaşmış sıfattır. Doğru cevap D seçeneğidir.

TÜRK EDEBİYATI

2. ÜNİTE

TEST
1

TÜRK EDEBİYATI

1. Aşağıdaki yargılardan hangisinde bir bilgi yanlışlığı vardır?

- A) Sagu, yuğ törenlerinde söylenen ölüm şiirleridir.
- B) Manas Destanı Kırgızlara aittir.
- C) Türkü, mani, koşma, destan anonim ürünlerdir.
- D) Halk edebiyatında nazım birimi dördlüktür.

2. Aşağıdakilerden hangisi Türk destanlarında kullanılan motiflerden değildir?

- A) Mağara
- B) Konak
- C) Işık
- D) Rüya

3. Orta oyunu ile ilgili olarak aşağıdakilerden hangisi yanlıştır?

- A) Etrafı seyircilerle çevrelenmiş bir meydana oynanan oyun türüdür.
- B) Bu oyunlarda nükte ve cinasa büyük önem verilir.
- C) Temel iki kahramanı Kavuklu ve Pişekar'dır. Pişekar, Karagöz'ün; Kavuklu ise Hacivat'ın özelliklerini taşır.
- D) Konular ustadan çırağa, eski kuşaktan yeni kuşağa geçe geçe, her kuşak kendinden bir şeyler katar.

4. (I) İntibah, Türk edebiyatı tarihinde ilk edebi romandır. (II) Roman uzun Çamlıca tasvirleriyle başlar. (III) Romanda realizm akımının etkisiyle iyi – kötü çatışması üzerinde durulur. (IV) Romanda her bölümün başında bir beyit bulunur.

Bu parçada numaralanmış bölümlerin hangisinde bir bilgi yanlıştır?

- A) I. B) II. C) III. D) IV.

5. İnsanın içini dökmeden edemediği dakikalar olur. Bir dost, bu dakikalarda erişilmez bir değer kazanır. Ama her şey bir dostta söylenmez ki... Onun için, hele bir insan yazarsa, içinin gizli kıvrımlarını görmesini biliyorsa, masasının başına geçip kalemi eline almadan edemez. İç dünyasının inceliklerini yazıya döktükten sonra üzerine bir de tarih atar. İşte ----- dediğimiz, yazarın kendi kendisiyle bu alçak sesle konuşmasından doğmuştur.

Yukarıdaki parçada boş bırakılan yere aşağıdaki yazı türlerinden hangisi getirilmelidir?

- A) deneme
- B) sohbet
- C) fıkra
- D) günlük

6. Aşağıdakilerden hangisi Garip şiirinin bir özelliği değildir?

- A) Ölçü, uyak ve dördlüğe karşı çıkmışlardır.
- B) Mecazlı söyleyişlere sıkça yer vermişlerdir.
- C) Yeni konular işlemişlerdir.
- D) Konuşma diliyle şiirler yazmışlar.

7. Aşağıdakilerden hangisinde bir bilgi yanlıştır?

- A) Cumhuriyet Edebiyatı, Milli Edebiyat'ın konu ve öz bakımından devamı niteliğindedir.
- B) Garip akımı, İkinci Yeni akımına karşı bir tepki olarak doğmuştur.
- C) Türk hikâye ve romanı 1930'dan sonra toplumcu gerçekçi bir çizgiye yönelir.
- D) "Hayat" dergisi 1926'da cumhuriyet ideolojisini yaygınlaştırmak göreviyle çıkarılmıştır.

TEST
4

TÜRK EDEBİYATI

1. Aşağıdakilerden hangisinde “yarım uyak” vardır?

- A) Yağız atlar kişnedi, meşin kırbaç şakladı
Bir dakika araba yerinde durakladı
- B) Sabahleyin gökyüzü parlak, ufuk açıldı
Güneşli bir havada yaylımız yola çıktı
- C) Nihayetsiz bir ova ağarttı benzimizi
Yollar bir şerit gibi ufka bağladı bizi
- D) Yaylımız tüketirken yoları aynı hızla
Savrulmaya başladı karlar etrafımızda

2. Sosyal eleştiri ve düşünce şairidir. Zaman zaman lirik aşk şiirleri söylemiş olmakla birlikte, onun divan edebiyatındaki asıl önemi sosyal sorunlar üzerinde duran, düşünen ve eleştiren bir şair oluşundan gelir. Dilinin sadeliği, halk deyim ve kelimelerini kullanışı, onun toplumla iç içe olduğunu gösterir. Onun en tanınmış ve bu alanda çığır açmış eseri 17 bentlik “Terkib-i Bent” şiiridir.

Bu parçada özellikleri verilen sanatçı aşağıdakilerden hangisidir?

- A) Ziya Paşa
- B) Nefi
- C) Nabi
- D) Bağdatlı Ruhi

3. Dede Korkut Hikâyeleri ile ilgili olarak verilen aşağıdaki bilgilerden hangisi yanlıştır?

- A) On iki hikâye ve bir ön sözden oluşur.
- B) Destan geleneğinden halk öykücülüğüne geçiş dönemi ürünüdür.
- C) Hikâyelerin dili oldukça sade ve akıcıdır.
- D) XV. yüzyılda Dede Korkut tarafından yazılmıştır.

4. Aşık tarzı halk edebiyatının en güçlü şairlerindedir. Şiirlerinin tamamında hece ölçüsünü kullanmıştır. Güzelleme türünde yazdığı eserler önemlidir. Diyar diyar dolaşmış gördüğü güzelleri ve güzellikleri şiirlerinde işlemiştir.

Yukarıda özellikleri verilen şair kimdir?

- A) Mevlana
- B) Hacı Bektaşî Veli
- C) Yunus Emre
- D) Karacaoğlan

5. Doğu ve Batı kültürünü yakından tanıyan Tanzimat şairi ve yazarıdır. Şiirde eski edebiyat geleneğini benimsemiş ve eski edebiyatı savunan geleneğin öncüsü olmuştur. Eski edebiyat geleneğine arka çıktığı için yenilikçi kimi şairlerin eleştirisine uğramıştır.

Yukarıda özellikleri verilen sanatçı aşağıdakilerden hangisidir?

- A) Ziya Paşa
- B) Namık Kemal
- C) Muallim Naci
- D) Şemsettin Sami

6. Tanzimat Dönemi'yle ilgili verilenlerden hangisi yanlıştır?

- A) İlk yerli roman Taaşuk-ı Talat ve Fitnat'tır
- B) İlk edebi roman İntibah'tır
- C) İlk çeviri Tercüme-i Manzume'dir.
- D) İlk makale Tasvir-i Efkâr Mukaddimesi'dir.

7. Aşağıdakilerden hangisi saf(öz) şiir anlayışını benimseyen sanatçıların genel özelliklerinden biri değildir?

- A) Şiir dilini her şeyden önemli görmüşlerdir.
- B) Biçim endişesini öne çıkarmışlardır.
- C) Bireysel şiirler yazmaya yönelmişlerdir.
- D) Şiirde bazı ideolojileri öne çıkarmışlardır.

TEST
10TÜRK EDEBİYATI
ÇÖZÜMLERİ

Çözüm 1: “Realizm ve natüralizmin etkisinde kalan sanatçı, toplum için sanat ilkesiyle yazmıştır. Yapıtlarının hepsi bir gözlem ürünüdür. Toplum sorunları, batıl inançlar, yanlış Batılılaşma gibi sorunları eserlerinde işlemiştir. Şık, Mürebbiye, Nimetşinas, Metres gibi eserleri vardır.” şeklinde tanıttılan yazar, Hüseyin Rahmi Gürpınar’dır. Doğru cevap D seçeneğidir.

Çözüm 2: “Türk edebiyatının en güçlü şairlerinden biri olan Yahya Kemal Beyatlı, şiirlerinde Osmanlı tarihi, aşk, rintlik, yaşam sevgisi ve ölüm gibi konuları işlemiştir. İstanbul hayranı olan sanatçı İstanbul Şairi olarak da tanınmıştır. Bir ara nevyunanilik adını verdiği mitoloji kaynaklı şiirler de yazmıştır. Eğil Dağlar, Aziz İstanbul, Bitmemiş Şiirler eserlerinden bazılarıdır.” şeklinde olmalıdır. Doğru cevap B seçeneğidir.

Çözüm 3: “Servetifünuncuların hakim olduğu bir dönemde, halk dilini kullanarak şiir yazmıştır. Hecenin önemsenmediği bir dönemde heceyle yazdığı vatan, millet konulu şiirleriyle ünlenen şair, şiirlerini Türkçe Şiirler adlı kitabında toplamıştır.” şeklinde tanıttılan şair, Mehmet Emin Yurdakul’dur. Doğru cevap D seçeneğidir.

Çözüm 4: Cumhuriyet Dönemi’nde sanat sanat içindir, anlayışı ikinci plana itilmiştir. Doğru cevap D seçeneğidir.

Çözüm 5: “Edebiyatımıza Anadolu’yu taşıyan yazar olarak bilinir. Yapıtlarında yanlış Batılılaşma anlayışını, yurdun çesitli yerlerindeki yaşam sahnelerini işlemiştir. Romanlarında güçlü bir gözlemciliğe dayanan realizm unsurları vardır. Duktan Kalbe, Miskinler Tekkesi, Tanrı Misafiri, Balıkesir Muhasebecisi eserlerinden bazılarıdır.” şeklinde tanıttılan yazar Reşat Nuri Güntekin’dir. Doğru cevap A seçeneğidir.

Çözüm 6: “Yakup Kadri, Hüküm Gecesi romanında II. Meşrutiyet günlerinin çalkantılarını, ittihat ve Terakki Partisi’nin siyasi çatışmalarını gözler önüne sermiştir. Muhafif düşüncelere karşı olan hoşnutsuzluklar ve kavgaların üzerinde başlayan bir aşkı anlatır.” şeklinde olmalıdır. Doğru cevap C seçeneğidir.

Çözüm 7: “İlk şiirlerindeki romantiklikten sıyrıldıktan sonra, duygulardan çok aklın egemenliğine, güzel günlerin özlemine yer vermiştir. Söz oyunlarından kaçarak yalın bir dil kullanmıştır. Mitoljik öğeleri de eserlerinde yer yer işlediği görülmektedir. Rahatı Kaçan Ağaç, Telgrafhane, Teknenin Ölümü adlı şiir kitaplarını yazmıştır.” şeklinde tanıttılan şair, Melih Cevdet Anday’dır. Doğru cevap B seçeneğidir.

Çözüm 8:

- Rusya’da öğrenim gördüğü yıllarda Mayakovski’nin sanat görüşünden etkilenmiştir.
- Türk şiirine biçim ve tema olarak yeni bir soluk getirmiş ve serbest nazmı ilk uygulayan sanatçı olmuştur.
- 835 Satır, Piraye’ye Mektuplar, Memleketimden İnsan Manzaraları gibi eserleri vardır.

Şeklinde özellikleri verilen sanatçı Nazım Hikmet’tir. Doğru cevap B seçeneğidir.

Çözüm 9: “Bu topluluğa göre sanat her şeyden üstündür. ... Fransız şairlerini örnek alırlar ve canlılık, samimiyet, yenilik ilkeleriyle yola çıkmışlardır.” şeklinde tanıttılan edebi topluluk Yedi Meşalecilerdir. Doğru cevap D seçeneğidir.

Çözüm 10: Abdullah Efendi’nin Rüyaları Ahmet Hamdi Tanpınar’ın eseridir. Doğru cevap A seçeneğidir.

Çözüm 11: Verilen dizeler beyit nazım birimi ve aruz ölçüsüyle kaleme alınmıştır. Beyitlerde Arapça ve Farsça tamlamalarla yüklü ağır bir dil kullanılmıştır. Verilen dizeler divan şiirinin ilkeleri ile örtüşür. Doğru cevap C seçeneğidir.

Çözüm 12: Dörtlüğün uyak örgüsü “aaab” olduğundan A’daki bilgi, dizeler 4+4=8’li hece ölçüsü ile söylendiğinden B’deki bilgi, dize sonlarındaki “-di, -du ve -di” ekleri redif olduğundan C’deki bilgi, bilgi söylenebilir. Dizelerde “somutlamaya başvurulduğu söylenemez. Doğru cevap D seçeneğidir.

Çözüm 13: Kahramanları Kavuklu ve Pişekâr olan geleneksel Türk tiyatrosu “orta oyunu”dur. Doğru cevap D seçeneğidir.

Çözüm 14: Şair, “Şimdi tarlalarda güneş vardır, /Karlar donmuştur otların uçlarında” diyerek uzakta olduğu yere duyulan bir özlemi dile getirmiştir. Doğru cevap A seçeneğidir.

Çözüm 15: Verilen hikâyede yer alan öğeler şunlardır:

Olay: Üstü başı yırtık iki çocuğun kapıyı çalıp ev sahibi kadından eski gazeteleri istemesi ve sonrasında gelişen olaylar.

Kişiler: İki çocuk ve ev sahibesi bayan Mekân: Ev

Zaman: Hikâyede zaman verilmemiştir.

Doğru cevap B seçeneğidir.

Çözüm 16: A seçeneğindeki “mesnevi” ve B seçeneğindeki “kaside” divan edebiyatı, C seçeneğindeki “şathiye” tasavvuf edebiyatı nazım şekillerindedir. “Koşma” ise âşık edebiyatı nazım şekillerindedir. Doğru cevap D seçeneğidir.

Çözüm 17: Karacaoğlan bütün şiirlerini hece ölçüsüyle yazmış olup daha çok güzellemeleriyle tanınan âşık edebiyatı temsilcisi olduğu için II numaralı cümle, Beş hececilerin temsilcileri: Orhan Seyfi Orhon, Enis Behiç Koryürek, Halit Fahri Ozansoy, Yusuf Ziya Ortaç ve Faruk Nafiz Çamlıbel olup bunlar arasında Mehmet Emin Yurdakul ve Ziya Osman Saba yer almadığı için IV numaralı cümle yanlıştır. Diğer numaralı cümleler ise doğrudur. Doğru cevap C seçeneğidir.

Çözüm 18: Verilen dörtlükte 11’li hece ölçüsünün ve dörtlük nazım biriminin kullanılması, aşk temasının işlenmesi yönüyle halk edebiyatının en çok tercih edilen nazım biçimlerinden biri olan “koşma” nazım biçimine ait olduğu söylenebilir. Doğru cevap D seçeneğidir.

Çözüm 19: Verilen parçada, yazar anlatmak istediği şeyleri kahramanın kendi ağzından, kafasından geçenler şeklinde okuyucuya vermiştir. Burada olduğu gibi, kahramanın kendi kendine konuşur tarzda iç konuşmasının verildiği anlatım tekniği, “İç Konuşma (İç Diyalog) Tekniği” dir. Doğru cevap B seçeneğidir.

Çözüm 20: Edebiyatımızda durum hikâyesinin iki büyük temsilcisi vardır, bunlar: Memduh Şevket Esendal ve Sait Faik Abasıyanık’tır. Doğru cevap A seçeneğidir.

İNSANLIĞIN ORTAK MİRASI OLAN KÜLTÜREL MİRASIMIZ

3. ÜNİTE

TEST 1

İNSANLIĞIN ORTAK MİRASI OLAN KÜLTÜREL MİRASIMIZ

1. Aşağıdakilerden hangisi soyut kültürel miraslardan değildir?

- A) Sözlü gelenekler
- B) Gösteri sanatları
- C) Arkeolojik sitle
- D) Ritüeller

2. 2023 yılı itibariyle Türkiye'de UNESCO Dünya Miras Listesi'ne kayıtlı kaç miras alanı vardır?

- A) 15
- B) 21
- C) 24
- D) 31

3. Aşağıdakilerden hangisi Türkiye'de UNESCO Dünya Miras Listesi'ne kayıtlı miras alanlarından biri değildir?

- A) Hieropolis
- B) Aphrodisias
- C) Gordion
- D) Aynoroz

4. Türkiye'de bulunan UNESCO Dünya Miras Listesi'ne kayıtlı miras alanlarından hangisi bulunduğu il ile yanlış eşleştirilmiştir?

- A) Hattuşa - Çankırı
- B) Safranbolu - Karabük
- C) Çatalhöyük Neolitik Alanı - Konya
- D) Ani Arkeolojik Alanı - Kars

5. Türkiye'de bulunan UNESCO Dünya Miras Listesi'ne kayıtlı;

- I. Divriği Ulu Camii ve Darüşşifası
- II. Göreme Millî Parkı ve Kapadokya
- III. İstanbul'un Tarihi Alanları

şeklinde numaralandırılmış miras alanlarından hangileri 1985 yılında bu listeye alınmıştır?

- A) I ve II
- B) I ve III
- C) II ve III
- D) I, II ve III

6. Türkiye'de bulunan;

- I. Nemrut Dağı (Adıyaman)
- II. Truva Arkeolojik Alanı (Çanakkale)
- III. Edirne Selimiye Camii ve Külliyesi (Edirne)

şeklinde numaralandırılmış alanlardan hangileri UNESCO Dünya Miras Listesi'ne kayıtlıdır?

- A) I ve II
- B) I ve III
- C) II ve III
- D) I, II ve III

7. Türkiye'de bulunan UNESCO Dünya Miras Listesi'ne kayıtlı;

- I. Bergama Çok Katmanlı Kültürel Peyzaj Alanı
- II. Göbeklitepe
- III. Arslantepe Höyüğü

şeklinde numaralandırılmış miras alanlarının bulunduğu iller arasında aşağıdakilerden hangisi bulunmaz?

- A) Şanlıurfa
- B) Ankara
- C) İzmir
- D) Malatya

TÜRK KÜLTÜRÜ

4. ÜNİTE

TEST 1

TÜRK KÜLTÜRÜ

1. Aşağıdakilerden hangisi "kurgan"ı tanımlamaktadır?

- A) Tepe biçimindeki mezar
- B) Kağanların Otağı
- C) Kubbe biçimindeki çadır
- D) Kağanların sarayı

2.

- I. İlk Türklerin sanat anlayışında hayvan üslubu denilen süsleme sanatı belirgin olarak işlenmiştir.
- II. Hunlara ait kurganlar dönemin sanat anlayışına dair önemli bilgiler sunmaktadır.
- III. Hun ve Kök Türklerde maden işçiliği ve dokumacılık oldukça gelişmiştir.

İlk Türklerin sanat anlayışıyla ilgili olarak numaralandırılmış ifadelerden hangileri söylenebilir?

- A) I ve II
- B) Yalnız I
- C) II ve III
- D) I, II ve III

3. Aşağıdakilerden hangisi ilk Türklerde ortaya çıkmış olan kurganlardan biri değildir?

- A) Pazırık Kurganları
- B) Esik Kurganı
- C) Selçuk Kurganı
- D) Tuyahta Kurganı

4. "Altın Elbiseli Adam" buluntusu Türklere ait aşağıdaki kurganlardan hangisinde bulunmuştur?

- A) Noin Ula Kurganı
- B) Esik Kurganı
- C) Cök-Bulak Kurganı
- D) Tuyahta Kurganı

5. Hunlara ait heykel sanatıyla ilgili aşağıdakilerden hangisi söylenemez?

- A) Ahşaptan yapılmış heykeller vardır.
- B) Pişmiş topraktan yapılmış heykeller vardır.
- C) Heykel sanatında hayvan tasvirleri çok gerçekçi bir şekilde işlenmiştir.
- D) Mermerden yapılmış heykeller vardır.

6. Aşağıdakilerden hangisi Hunlarda gelişme gösteren sanatlardan biri değildir?

- A) Demircilik
- B) Dokumacılık
- C) Deri İşleme
- D) Hat sanatı

7. Türklerde demircilik sanatında kullanılan maddeler, yönlerle ilişkilendirilmiştir. Buna göre;

- I. Demir, siyah renginden dolayı kuzeyi işaret etmiştir.
- II. Bakır, kızıl renginden dolayı güneyi işaret etmiştir.
- III. Gümüş, gri renginden dolayı doğuyu işaret etmiştir.

numaralandırılmış ifadelerden hangileri doğrudur?

- A) Yalnız I
- B) I ve II
- C) II ve III
- D) I, II ve III

8. Aşağıdakilerden hangisi Kök Türklere ait heykellerden biri değildir?

- A) Kültigin
- B) Altın Elbiseli Adam
- C) Bilge Kağan
- D) Vezir Tonyukuk

TEST 2

TÜRK KÜLTÜRÜ ÇÖZÜMLERİ

Çözüm 1: A, B ve C seçeneklerinde yer alan bayramlar mevsimlik bayramlar arasında yer alırken D seçeneğindeki “Ramazan Bayramı” ise dini bayramlar arasında yer almaktadır. Doğru cevap D seçeneğidir.

Çözüm 2: A seçeneğinde yer alan “Nuru Osmaniye Camisi” Türk-Barok üslubunun en güzel örneklerini yansıtan yapıların başında gelmektedir. Doğru cevap A seçeneğidir.

Çözüm 3: II numarada yer alan “Aracı ve görücü sistemi ile evlenme” eski Türk topluluklarındaki evlenme sistemidir. Doğru cevap C seçeneğidir.

Çözüm 4: Parçada sözü edilen evlenme sistemi “Serbest seçimle evlenme”dir. Türklerde görülen aile tipi ise daha çok “baba ailesi (pederşahî)” adı verilen sistemdir. Bu sistemde baba ailenin temeli olup dışarıdan evlenme, yani exogamy sistemi vardır. Doğru cevap B seçeneğidir.

Çözüm 5: İlk Türklerde babaya “Kang” denirdi. Daha sonraları bu sözcüğün yerini “ata” almıştır. Doğru cevap A seçeneğidir.

Çözüm 6: Eski Türklerde ölenin başka bir dünyaya geçip orada sonsuz bir hayat yaşayacağına inanıldığı için değerli eşyaları ile birlikte gömüldüğü mezarlara “Kurgan” adı verilir. Doğru cevap A seçeneğidir.

Çözüm 7: “Manolyalar” tablosu İbrahim Çallı’ya aittir. Doğru cevap C seçeneğidir.

Çözüm 8: Parçada özellikleri verilen sanatçı “Osman Hamdi Bey”dir. Doğru cevap C seçeneğidir.

Çözüm 9: “Kövrük” Uygurların altınlı davul ve altınlı boru şeklinde tasarladıkları ve resmi çalgı olarak kullandıkları müzik aletidir. Doğru cevap A seçeneğidir.

Çözüm 10: “Hıdırellez Bayramı” 6 Mayıs günü kutlanmaktadır. Doğru cevap B seçeneğidir.

Çözüm 11: Domates, fasulye, patates, hindi, kakao, mısır ve bazı kabak çeşitleri Amerika’nın keşfedilmesiyle XVIII. Yüzyıldan itibaren Türk mutfağına girmiştir. Doğru cevap C seçeneğidir.

Çözüm 12: Osmanlı mutfağıyla ilgili olarak verilen A, B ve C seçenekleri doğrudur. Ancak D seçeneğindeki bilgi yanlıştır. Çünkü Osmanlı saray mutfağında et ve pilavları lezzetlendirmek için kullanılan kuru ve yaş meyvelerin XIX. yüzyıl mutfak geleneğinde kullanımı azalarak bunun yerine baharat çeşitleri, maydanoz, dereotu, yaş ve kuru nane kullanımı yaygınlaşmıştır. Doğru cevap D seçeneğidir.

Çözüm 13: Osmanlı mutfağıyla halk mutfağının karşılaştırıldığı bu sorudaki A, B ve D seçeneklerindeki bilgiler doğrudur. Ancak günde üç öğün yemek yeme alışkanlığı Batı kültürünün de etkisiyle Cumhuriyet Dönemi’nde başlamıştır. Doğru cevap C seçeneğidir.

Çözüm 14: A, C ve D seçeneklerinde sayılan helva çeşitleri Selçuklu Beylikleri mutfağında bulunurken Bu tatlılar arasında baklavanın bulunduğu söylenemez. Baklava tatlısı, Osmanlı mutfağının tatlıları arasında yer almaktadır. Doğru cevap B seçeneğidir.

Çözüm 15: Sözü edilen oyun “Kökbörü” oyunudur. Cirit gibi atlı bir spordur ve esası, at salıp koşarak oğlağı kapmak ve rakibin kalesinden geçirerek sayı kazanmak üzerinedir. Doğru cevap B seçeneğidir.

2. KISIM

- Genel Türk Tarihi
- T.C. İnkılap Tarihi ve Atatürkçülük
- Türkiye Coğrafyası
- Türk Devletleri ve Toplulukları
- Türklerin Bilim, Sanat ve Medeniyete Katkıları
- Türk Düşünce Tarihi ve Devlet Felsefesi

30 PUAN

GENEL TÜRK TARİHİ

5. ÜNİTE

TEST
1

GENEL TÜRK TARİHİ

1. Aşağıdakilerden hangisi Orta Asya Türk göçlerinin siyasi nedenleri arasında yer almaktadır?

- A) Nüfusun artması nedeniyle otlakların yetersiz kalması
- B) Hayvan hastalıklarının giderek artması
- C) Kuraklık yüzünden kıtlık yaşanması
- D) Cihan hakimiyeti düşüncesi

2. "Türk" kelimesi tarih boyunca farklı şekillerde anlamlandırılmıştır.

Aşağıda verilenlerden hangisi bu anlamlardan biri değildir?

- A) Olgunluk
- B) Güç
- C) Türemek
- D) Yayılımacı

3. Orta Asya Türk tarihini aydınlatan merkezler arasında,

- I. Anav
- II. Tuşpa
- III. Hattuşaş
- IV. Tagar

kültür bölgelerinden hangileri gösterilemez?

- A) I ve II
- B) II ve III
- C) I ve IV
- D) III ve IV

4. Çin Devleti,

- I. Ordu
- II. Tarım
- III. Sosyal hayat

alanlarının hangilerinde Türk devletlerini en az etkilemiş olabilir?

- A) Yalnız I
- B) Yalnız II
- C) Yalnız III
- D) I ve II

5. Aşağıdakilerden hangisi 375 yılında Hunların etkisiyle başlayan Kavimler Göçü'nün sonuçlarından biri değildir?

- A) Roma İmparatorluğu doğu ve batı olmak üzere ikiye ayrıldı.
- B) Bugünkü Avrupa milletlerinin temeli atıldı.
- C) Matbaa, kağıt, pusula, barut gibi buluşlar Hunlar aracılığıyla Avrupa'ya taşındı.
- D) Avrupa'da derebeylik rejimi ortaya çıktı.

6. Çin'in entrikaları ve Türk kavimlerinin mücadeleleri nedeniyle iç karışıklıklar yaşayıp yıkılma sürecine giren ve Kırgızlar tarafından yıkılan devlet aşağıdakilerden hangisidir?

- A) Asya Hun
- B) Türgişler
- C) Avarlar
- D) Uygurlar

7. Aşağıda verilen Türk devletlerinden hangisinin Avrupa'da varlık gösterdiği söylenebilir?

- A) Uygurlar
- B) Avarlar
- C) Sabirler
- D) Türgişler

**TEST
5**

GENEL TÜRK TARİHİ

1. Osmanlı Devleti'nde ilk ticari ayrıcalıklar (kapitülasyon) aşağıdaki devletlerden hangisine verilmiştir?

- A) Fransa
- B) İngiltere
- C) Ceneviz
- D) Venedik

2. I. Rumeli Hisarı
II. Anadolu Hisarı
III. Kız Kulesi

Osmanlı Devleti, II. Mehmet Dönemi'nde İstanbul'u fethedebilmek için yukarıda verilenlerden hangilerini inşa etmiştir?

- A) Yalnız I
- B) Yalnız II
- C) I ve II
- D) II ve III

3. Coğrafi Keşiflerle önemi azalan Akdeniz ticaretini canlandırmak için Kızıldeniz ve Akdeniz'i birleştiren ve Baharat Yolu'na işlerlik kazandırmak amacıyla hazırlanan proje aşağıdakilerden hangisidir?

- A) Don – Volga Projesi
- B) Karadeniz Marmara Projesi
- C) Süveyş Kanalı Projesi
- D) Hint Deniz Seferleri Projesi

4. Osmanlı padişahlarından II. Selim ve III. Murat'ın otoritesinin zayıf olması sonucu devlet yönetiminde uygulamalarıyla ön plana çıkan veziriazam aşağıdakilerden hangisidir?

- A) Köprülü Mehmet Paşa
- B) Sokullu Mehmet Paşa
- C) Merzifonlu Kara Mustafa Paşa
- D) Fazıl Ahmet Paşa

5. Kanuni Dönemi'nde Fransa'ya kapitülasyonlar verilmesinin temel amacı aşağıdakilerden hangisidir?

- A) Hint Dedeniz Seferleri için destek almak
- B) Fransa'yı Avrupa'da Osmanlı'ya karşı oluşabilecek Hristiyan birliğinden ayırmak
- C) Avrupa'da yapılacak fetihler için Fransa'nın askeri desteğini almak
- D) Dış ticaret açığını kapatmak

6. Aşağıdakilerden hangisi Kanuni Sultan Süleyman Dönemi'ndeki gelişmelerden biri değildir?

- A) Mohaç Meydan Muharebesi
- B) Çaldıran Savaşı
- C) I. Viyana Kuşatması
- D) Amasya Antlaşması

7. Osmanlı padişahlarının erkek çocuklarına şehzade denilirdi. Şehzadeler belirli bir yaşa geldiklerinde sancaklara gönderilirdi.

Aşağıdakilerden hangisi bu uygulamanın temel nedenidir?

- A) Yöneticilerle halkı yakınlaştırmak
- B) Saltanat kavgalarını engellemek
- C) Eyalet yönetimini güçlendirmek
- D) Şehzadelerin yönetsel alanda yetişmesini sağlamak

8. Aşağıda verilen hükümdar unvanlarından hangisi Osmanlı Devleti'nde XVI. yüzyıldan itibaren kullanılmıştır?

- A) Bey
- B) Gazi
- C) Hüdavendigâr
- D) Halife

18. 1718-1730 yılları arasında yaşanan Lale Devri, Türk siyasi tarihinde aşağıdaki hangi yönü ile daha çok eleştirilmiştir?

- A) Devlet yöneticileri arasında lüks ve israfın artması
- B) Matbaanın kullanılması
- C) Batı mimarisinin geleneksel Osmanlı mimarisi ile harmanlanması
- D) Askeri reformlara yer verilmemesi

19. Osmanlı Devleti'nde aşağıdaki hangi antlaşmayla ilk kez Boğazlar sorunu ortaya çıkmıştır?

- A) Küçük Kaynarca
- B) Paris Antlaşması
- C) Hünkâr İskeleyi Antlaşması
- D) Balta Limanı Antlaşması

20. II. Abdülhamid Dönemi'nde kurulmuş Himaye-i Etfal Cemiyeti günümüzde aşağıdaki hangi isim altında faaliyetlerine devam etmektedir?

- A) Kızılay
- B) Çocuk Hizmetleri Genel Müdürlüğü
- C) Yeşilay
- D) AMATEM

TEST
11

GENEL TÜRK TARİHİ

1. Aşağıdakilerden hangisi Tanzimat Fermanı'nın getirdiği haklardan biri değildir?

- A) Can güvenliği
- B) Adil yargılanma güvenliği
- C) Kişi hakları
- D) Dernek kurma ve gösteri yapma

2.

- İller, merkeze bağlandı ve ayanlık kaldırıldı.
- Osmanlı uyruğundaki halklara din ve mezhep özgürlüğü tanındı.
- Yurt dışı seyahatlerinde pasaport uygulaması getirildi.

Yukarıda verilen gelişmeler aşağıda verilen padişahların hangisinin dönemine aittir?

- A) II. Mahmut
- B) Abdülmecit
- C) Abdülaziz
- D) V. Murat

3. Osmanlı Devleti aşağıdaki hangi padişah döneminde Türk tarihinin ilk anayasası olan Kanun-i Esasi'yi ilan ederek anayasal düzene geçmiştir?

- A) II. Mahmut
- B) Abdülmecit
- C) Abdülaziz
- D) II. Abdülhamit

4. Avrupalı devletler, aşağıda verilen gelişmelerden hangisine tepki göstererek Osmanlı donanmasını Navarin'de yakmışlardır?

- A) Osmanlı Devleti'nin, Mora İsyanı'na müdahale etmesi
- B) Kırım Savaşı'nda Rusya'nın yenilmesi
- C) 93 Harbi'nin başlaması
- D) Osmanlı Devleti'nin, Tersane Konferansı kararlarını reddetmesi

CEVAP ANAHTARI

1	B	5	D	9	A	13	C	17	D
2	A	6	A	10	C	14	A	18	A
3	A	7	D	11	B	15	B	19	C
4	C	8	C	12	A	16	A	20	B

TEST 1

GENEL TÜRK TARİHİ ÇÖZÜMLERİ

Çözüm 1: Orta Asya Türk göçlerinin siyasi nedenleri: Cihan hakimiyeti düşüncesi, Moğol ve Çin baskısı, boylar arası mücadele, bağımsız yaşama arzusu. Doğru cevap D seçeneğidir.

Çözüm 2: Türk adı; Uygur metinlerinde “güç, kuvvet”, Kaşgarlı Mahmut’un Divanı Lügati’t Türk adlı eserinde “olgunluk çağı” anlamında kullanılmıştır. Ayrıca Ziya Gökalp, Türk adının “türeli, kanun, nizam sahibi” anlamına geldiğini, A. Wamberiy ise Türk kelimesinin “türemek”ten geldiğini ifade etmiştir. “Yayılmacı” sözcüğü ise Türk anlamı içermemektedir. Doğru cevap D seçeneğidir.

Çözüm 3: Orta Asya Türk tarihini aydınlatan kültür merkezleri şunlardır:

- Anav kültürü
- Karasuk kültürü
- Andronova kültürü
- Afanesyevoy kültürü
- Kelteminar kültürü
- Tagar kültürü

Doğru cevap B seçeneğidir.

Çözüm 4: Çinliler, tarım ve sosyal hayat gibi alanlarda Türk devletleri üzerinde oldukça etkili olmuşken; “ordu” alanında bu etki çok daha az olmuştur. Çünkü askeri alanda Türk devletleri Çinlilerden daha sistemli ve ileridedir. Doğru cevap A seçeneğidir.

Çözüm 5: Kavimler Göçü’yle birlikte Roma İmparatorluğu, Doğu Roma ve Batı Roma olmak üzere ikiye ayrılmış ve bugünkü Avrupa milletlerinin temeli atılmıştır. Avrupa’da Orta Çağ boyunca sürecek feodalite (derebeylik) sistemi hâkim olmuştur. Ancak matbaa, kâğıt, pusula ve barut gibi teknik buluşlar Haçlı Seferleri’yle Avrupa’ya taşınmıştır. Doğru cevap C seçeneğidir.

Çözüm 6: Çin’in entrikaları ve Türk kavimlerinin mücadeleleri nedeniyle iç karışıklıklar yaşayıp yıkılma sürecine giren ve Kırgızlar tarafından yıkılan devlet Uygurlardır. Doğru cevap D seçeneğidir.

Çözüm 7: Uygurlar, Türgişler ve Sabirler Orta Asya’da varlık göstermişlerdir. Avarlar ise Orta Avrupa’da devlet kurup iki yüz yıldan fazla bu bölgede yaşamışlardır. Doğru cevap B seçeneğidir.

Çözüm 8: Başkırtlar, Rusya Federasyonu içindeki Türk halklarından. Ak Hunlar ise IV. yüzyılda, Issık Gölü çevresinde ve daha sonra da Maveraünnehir civarında yaşamış bir Türk topluluğudur. Sasaniler ise dördüncü İran hanedanlığının (Pers İmparatorluğu) adıdır. Doğru cevap B seçeneğidir.

Çözüm 9: Kut, hükümdarlara devleti yönetme yetkisinin Tanrı tarafından verilmesi demektir ve kan yoluyla babadan oğula geçtiğine inanılan bir anlayıştır. Bu durum Türk devletlerinde veraset sorununu ortaya çıkarmış ve taht kavgalarına yol açmıştır. Doğru cevap A seçeneğidir.

Çözüm 10: Orta Asya Türk devletlerinde ordu sisteminde kadınlar da görev almış (geri hizmette), askerlik hayatın kendisi kabul edilmiş, eli silah tutan herkes asker sayılmış (Hazarlar hariç ücretli asker yok) ve ilk askeri teşkilatı da Mete Han (onluk sistem) kurmuştur. Doğru cevap D seçeneğidir.

Çözüm 11: Türk tarihinde Türk ismiyle kurulan ilk Türk devleti Kök Türklerdir. Doğru cevap C seçeneğidir.

Çözüm 12: Orta Asya ve atlı göçebe kültürünü Ön Asya toplumlarına tanıtan Türk topluluğu İskitler (Sakalar)’dır. İskitler, Ön Asya toplumlarıyla (İran) mücadele halinde olduklarından bu mücadele kültürel alışverişi de beraberinde getirmiştir. Doğru cevap A seçeneğidir.

Çözüm 13: “Amazon Kadınları Efsanesi” İskitler Dönemi’nde ortaya çıkmıştır. Bu efsanede İskitlerde kadın egemenliğinin olduğu görülmektedir. Doğru cevap D seçeneğidir.

Çözüm 14: Asya Hun Devleti’nin bilinen ilk hükümdarı Teoman’dır (Tuman). Doğru cevap A seçeneğidir.

Çözüm 15: I. Kök Türk Devleti’nin yıkılmasıyla 50 yıl kadar süren Çin hakimiyetinde kalan Kök Türkler Aşina soyundan olan Kutluk önderliğinde bağımsızlık mücadelesi başlatarak II. Kök Türk Devleti’ni kurmuştur. Bu nedenle II. Kök Türk Devleti’ne Kutluk Devleti de denilmektedir. Doğru cevap B seçeneğidir.

Çözüm 16: Hazarlar, Arapların Doğu Avrupa’ya (Kafkaslara) girişini engellerken; Türgişler Orta Asya’nın Araplaşmasını önlemişlerdir. Göktürklerin ise Araplarla herhangi bir mücadelesi olmamıştır. Doğru cevap D seçeneğidir.

Çözüm 17: İslamiyet öncesinde Türk hükümdarlarının kullandığı unvanlar şunlardır;

- Tanhu
- Hakan
- İlteber
- Şanyü
- Han
- İdikut
- Kağan
- Yabgu

Şad ise hükümdardan sonra gelen devlet yöneticisidir. Doğru cevap D seçeneğidir.

Çözüm 18: Hazarlarda halk arasında Müslüman, Hristiyan ve Şamanist olanlar vardı ve halk arasındaki davalara Müslüman, Hristiyan ve Şamanlardan oluşan bir hâkimler kurulu bakardı (dini hoşgörü). Ayrıca Uzakdoğu ile Bizans, İslam ülkeleri ile kuzeydeki Slavlar arasındaki ticaret yolları Hazarların elindeydi (Ticari faaliyetlerde gelişmişlik). Doğru cevap C seçeneğidir.

Çözüm 19: Oğuz boylarının birbirleriyle ve düşmanlarıyla mücadelelerini konu alan eser Dede Korkut Hikâyeleri’dir. Doğru cevap B seçeneğidir.

Çözüm 20: Örgin ilk Türklerde hakimiyet sembollerinden biri olup taht anlamına gelmektedir. İlk Türklerde ülke meselelerinin görüşülüp karara bağlandığı meclise genelde kurultay denirdi. Kurultayın toy ve kengeş denilen isimleri de bulunmaktadır. Doğru cevap B seçeneğidir.

TEST 11

GENEL TÜRK TARİHİ ÇÖZÜMLERİ

Çözüm 1: Tanzimat Fermanı'nda temel olarak; kişi hakları, özel mülkiyet, adil yargılanma, hukuk üstünlüğü, askerlik, vergi, can ve mal güvenliği ile ilgili haklar getirilmiştir. Doğru cevap D seçeneğidir.

Çözüm 2: İllerin merkeze bağlanıp ayanlıkların kaldırılması, Osmanlı uyruğundaki herkese tam bir din ve mezhep özgürlüğünün tanınması ve yurt dışı seyahatlerinde pasaport uygulaması gibi gelişmeler II. Mahmut Dönemine aittir. Doğru cevap A seçeneğidir.

Çözüm 3: Osmanlı Devleti ilk kez II. Abdülhamit Dönemi'nde anayasal düzene geçmiştir. Doğru cevap D seçeneğidir.

Çözüm 4: Mora İsyanı'nın Osmanlı tarafından (Mehmet Ali Paşa) bastırılmasından rahatsız olan Avrupa devletleri, Navarin'de Osmanlı donanmasını yakmıştır. (Avrupa devletleri bağımsız bir Yunan devleti kurulmasını istemiş ancak bu istek Osmanlı tarafından reddedilmiş ve Navarin'de Osmanlı donanması yakılmıştır.) Doğru cevap A seçeneğidir.

Çözüm 5: Tanzimat Fermanı'nda geçen "Herkes mal ve mülküne sahip olacak, miras bırakabilecek ve müsadere kaldırılacaktır." yargısından hareketle bu fermanla mülkiyet hakkının güvence altına alındığı söylenebilir. Doğru cevap B seçeneğidir.

Çözüm 6: Meşrutiyetin ilan edilmesiyle halk ilk kez padişahın yanında yönetime katılmıştır. Doğru cevap D seçeneğidir.

Çözüm 7: Verilen seçenekler incelendiğinde doğru cevabın C seçeneği olduğu görülür. Çünkü ilk Osmanlı bankası olan Bank-ı Dersaadet Abdülmecit Dönemi'nde açılmıştır. Doğru cevap C seçeneğidir.

Çözüm 8: Seçimlerin dört yılda bir yapılması günümüz demokrasi anlayışıyla uyumludur. Ancak sadece polis soruşturmasıyla bir kişinin sürgüne gönderilmesi ve meclisin padişah tarafından kapatılması günümüz demokrasi kavramıyla uyumsuz uygulamalardır. Doğru cevap D seçeneğidir.

Çözüm 9: Osmanlı Devleti'nde Ermeni Sorunu ilk kez 1878 yılında Osmanlı Devleti, Rusya, Avusturya, Fransa, Çarlık Rusya, İtalya ve Almanya'nın katıldığı Berlin Konferansı'nda gündeme gelmiştir. Doğru cevap B seçeneğidir.

Çözüm 10: Osmanlı Devleti 1853-1856 Osmanlı- Rus Savaşı'nın (Kırım Savaşı) ardından yapılan Paris Antlaşması'yla savaştan galip gelmesine rağmen yenik sayılmış ve Avrupa devleti sayılmıştır. Doğru cevap D seçeneğidir.

T.C. İNKILAP TARİHİ VE ATATÜRKÇÜLÜK

6. ÜNİTE

TEST
1

T.C. İNKILAP TARİHİ VE ATATÜRKÇÜLÜK

1. XX.yüzyılın başında Rusya'nın, Japon ordusuna yenilmesi ve Uzak Doğu'da yeni bir gücün ortaya çıkması, İngiltere ve Rusya arasındaki anlaşmazlıkların giderilmesinde etkili olmuştur.

1907'de aşağıdaki hangi antlaşma Avrupa'ya iki kutuplu bir siyasi arenaya çevirmiştir?

- A) Üçlü Anlaşma
- B) Üçlü Bağlaşma
- C) Üç İmparator Antlaşması
- D) Doğu İşleri İçin Üçlü Birleşme

2. İttihat ve Terakki Cemiyeti'nin baskıları sonucu aşağıdaki dönemlerden hangisi kapanmıştır?

- A) I. Meşrutiyet Dönemi
- B) Tanzimat Dönemi
- C) II. Meşrutiyet Dönemi
- D) İstibdat Dönemi

3. Aşağıdaki devletlerden hangisi 1908'de II. Meşrutiyet'in ilanı sırasında Osmanlı ülkesinde doğan bir tür "özgürlük bunalımını" fırsat bilerek Bosna ve Hersek'i ilhak etmiştir?

- A) Avusturya
- B) Almanya
- C) Sırbistan
- D) Karadağ

4. 1909'da başlayan 31 Mart Olayı'nın doğurduğu sonuçlar arasında,

- I. Abdülhamit'in tahtan indirilmesi
- II. İttihatçıların güç kaybetmesi
- III. Meşrutiyet rejiminin güçlenmesi

durumlarından hangileri gösterilebilir?

- A) Yalnız I
- B) Yalnız II
- C) I ve III
- D) II ve III

5. Aşağıdakilerden hangisi Osmanlı Devleti'nin I. Dünya Savaşı'nda mücadele ettiği cephelerden biri **değildir**?

- A) Trablusgarp
- B) Kanal
- C) Suriye
- D) Kafkas

6. Osmanlı Devleti, XIX. yüzyıl boyunca Osmanlılık fikri üzerinden siyaset yapmaya çalışmıştır.

XX. yüzyılda aşağıdakilerden hangisi bu akımın yerini almıştır?

- A) İslamcılık
- B) Türkçülük
- C) Federalcilik
- D) Liberalizm

7. Aşağıda verilen devletlerden hangisi Balkan savaşlarında aktif olarak yer **almamıştır**?

- A) Sırbistan
- B) Romanya
- C) Karadağ
- D) Arnavutluk

TEST
4

T.C. İNKILAP TARİHİ VE
ATATÜRKÇÜLÜK

1. I. TBMM'nin açılması aşağıda verilen gelişmelerin hangisi üzerinde etkili olmamıştır?

- A) Milli direniş hareketinin güçlenmesi
- B) Ulusal egemenliğin gerçekleşmesi
- C) İstanbul ile ilişkilerin kesilmesi
- D) Tek dereceli seçim sistemine geçilmesi

2. Birinci TBMM aşağıdaki alanların hangisine diğerlerinden daha fazla harcama yapmıştır?

- A) Sağlık
- B) Sanayi
- C) Savunma
- D) Eğitim

3. I. Rauf Orbay
II. Rıza Tevfik
III. Bekir Sami

Yukarıda verilenlerden hangileri Sevr Antlaşması'nı, Osmanlı Devleti adına imzalayan delegeler arasında değildir?

- A) Yalnız I
- B) Yalnız II
- C) Yalnız III
- D) I ve III

4. Aşağıdakilerden hangisi 23 Nisan 1920 tarihinde açılan I. TBMM'nin özelliklerinden biri değildir?

- A) İhtilalci
- B) Kurucu
- C) Halkçı
- D) Laik

5. I. Askerler
II. Din adamları
III. Azınlıklar

Yukarıda verilenlerden hangileri I. TBMM'de milletvekili olarak görev alabilmişlerdir?

- A) Yalnız I
- B) Yalnız II
- C) Yalnız III
- D) I ve II

6. I. TBMM'nin açılması ile aşağıdakilerden hangisi gerçekleşmiştir?

- A) Yeni Türk devleti kurulmuştur.
- B) Laik bir devlet düzeni kurulmuştur.
- C) Devletin rejimi belirlenmiştir.
- D) Ulusal direnişe karar verilmiştir.

7. I. TBMM'nin gayrimüslim milletvekillerine yer vermemesi, meclisin aşağıdaki özelliklerden hangisine sahip olduğunu göstermektedir?

- A) Ulusçu
- B) Devrimci
- C) Sürekli
- D) Birleştirici

8. I. TBMM'nin Milli Mücadele Dönemi'nde çıkardığı resmi gazetesine verilen ad aşağıdakilerden hangisidir?

- A) Ceride-i Resmi
- B) Anadolu Ajansı
- C) Hakimiyet-i Milliye
- D) İrade-i Milliye

9. Aşağıda verilen gelişmelerden hangisi 23 Nisan 1920'de, TBMM'nin açılışından önce gerçekleşmiştir?

- A) Muharebeler Dönemi'nin başlaması
- B) Anadolu ve Rumeli Müdafaa-i Hukuk Grubu'nun kurulması
- C) İcra Vekilleri Heyeti'nin oluşturulması
- D) Kuvayimilliyeye ayaklanmalarının bastırılması

17. I. Maarif Teşkilatı Yasası'nın kabulü
II. Saltanatın kaldırılması
III. Medeni Kanun'un kabulü

Yukarıdaki gelişmelerden hangileri Cumhuriyet Dönemi'nde laikliği yerleştirmek amacıyla yapılan devrimler arasındadır?

- A) Yalnız I
B) Yalnız II
C) I ve II
D) I ve III

18. Aşağıdakilerden hangisi doğrudan sosyal alanda çağdaşlaşmayı hızlandırmak için yapılan devrimlerden biri değildir?

- A) Şapka devriminin yapılması
B) Miladi takvimin kabul edilmesi
C) Maarif Teşkilatı Yasası'nın kabul edilmesi
D) Tekke, zaviye ve türbelerin kapatılması

19. Aşağıda verilen devrimlerden hangisi 1925 - 1930 yılları arasında yapılmamıştır?

- A) Şapka devriminin yapılması
B) Kadınların muhtarlık seçimlerine katılması
C) Türk Medeni Yasası'nın kabul edilmesi
D) Tek eşle evlilik esasının yasalaşması

20. Aşağıdakilerden hangisi Türk Dil Kurumu'nun öncelikli amaçları arasında değildir?

- A) Türkçeyi yabancı dillerin etkisinden kurtarmak
B) İslam öncesi Türk kültürünü araştırmak
C) Dil birliği sağlamak
D) Sözlükler hazırlamak

CEVAP ANAHTARI

1	D	5	D	9	D	13	D	17	D
2	D	6	C	10	C	14	D	18	C
3	B	7	B	11	B	15	A	19	B
4	A	8	D	12	B	16	C	20	B

TEST 11

T.C. İNKILAP TARİHİ VE ATATÜRKÇÜLÜK

1. Atatürk'ün öncülüğünü yaptığı Türk devrimi, bir yönüyle kültür devrimi demektir.

Aşağıdakilerden hangisi Türk devriminin yarattığı kültür değişmelerinden biri olamaz?

- A) Resim ve heykel sanatına ilgili gösterilmesi
B) Halkevlerinin kurulması
C) Etnografya Müzesi'nin açılması
D) Menkul Kıymetler Yasası'nın kabul edilmesi

2. Aşağıdakilerden hangisi şapka inkılabının amaçlarından biri değildir?

- A) Milli bir şuur oluşturmak
B) Topluma çağdaş bir görünüm kazandırmak
C) Batı ile bütünleşmek
D) Toplumda birlik sağlamak

3. Cumhuriyet Dönemi'nde, okullardaki müzik derslerini okutacak öğretmenlerin yetiştirilmesi için aşağıdakilerden hangisi kurulmuştur?

- A) Musiki Muallim Mektebi
B) Darübedayi
C) Mızıkai Hümayun
D) Riyaseti Temsil Heyeti

4. Aşağıdakilerden hangisi Lozan'dan sonra Atatürk Dönemi'nde bir sorun olarak tekrar gündeme gelmemiştir?

- A) Etabli Sorunu
B) Ermeni Yurdu
C) Boğazlar
D) Güney Sınırı

TEST
1

T.C. İNKILAP TARİHİ VE ATATÜRKÇÜLÜK ÇÖZÜMLERİ

Çözüm 1: Rusya'nın, Japonlara yenilmesi sonrasında İngiltere ile yakınlaşması ve bu birlikteliğe Fransa'nın da katılması "Üçlü Anlaşma" adı verilen antlaşmayla Avrupa'yı iki siyasi kutba ayırmıştır. Doğru cevap A seçeneğidir.

Çözüm 2: İttihat ve Terakki Cemiyeti'nin başlangıçta gizli, daha sonra ise açık bir şekilde yürüttüğü çalışmalar istibdat Dönemine son verip meşrutiyeti tekrar ilan etme amacına yöneliktir. Doğru cevap D seçeneğidir.

Çözüm 3: II. Meşrutiyet'in ilanı sırasında;

- Bulgaristan, bağımsızlığını ilan edip Doğu Rumeli'yi;
- Avusturya, Bosna – Hersek'i;
- Yunanistan, Girit'i;
- İngiltere, Kıbrıs'ı topraklarına katmıştır.

Doğru cevap A seçeneğidir.

Çözüm 4: 31 Mart Olayı'nın sonuçları şunlardır:

- II. Abdülhamit, tahttan indirilerek yerine V. Mehmet Reşat tahta çıkarıldı.
- Padişahın yetkileri sınırlandırıldı.
- İttihat ve Terakki etkinliği ve gücü elinde bulundurdu.
- Turancılık akımı önem kazandı.
- Meşrutî rejim güçlendi.

Doğru cevap C seçeneğidir.

Çözüm 5: Osmanlı Devleti'nin I. Dünya Savaşı'nda mücadele ettiği cepheler: Kafkas Cephesi (taarruz cephesi), Kanal Cephesi (taarruz cephesi), Çanakkale Cephesi (savunma cephesi), Irak Cephesi (savunma cephesi), Suriye-Filistin Cephesi (Savunma Cephesi), Hicaz-Yemen Cephesi (savunma cephesi), Galiçya-Makedonya-Romanya Cephesi (müttefiklere yardım cephesi) Doğru cevap A seçeneğidir.

Çözüm 6: XIX. yüzyılda benimsenen Osmanlılık fikri devleti kurtarmada etkili olamayınca XX. yüzyılda bu fikir akımı yerini Türkçülük düşüncesine bırakmıştır. Doğru cevap B seçeneğidir.

Çözüm 7: Balkan savaşlarına katılan devletler Karadağ, Bulgaristan, Sırbistan ve Romanya'dır. Arnavutluk bu savaşlarda yer almamıştır. Doğru cevap D seçeneğidir.

Çözüm 8: İtalya'nın sömürge elde etmek amacıyla 1911 yılında Osmanlı Devleti'nin Kuzey Afrika'da sahip olduğu son toprak parçası olan Trablusgarp'ı işgali üzerine yapılan savaşta Osmanlı Trablusgarp'ı kaybetmiştir. Doğru cevap B seçeneğidir.

Çözüm 9: Verilen parçada dile getirilen görüş (Balkan halklarıyla birlikte bir federatif cumhuriyet kurulması) XX. yüzyılda etkili olan Türkçülük (Turancılık) düşüncesiyle çelişir. Çünkü Türkçülük dil, din, soy, kültür ve ülkü birliğine dayanır. Doğru cevap D seçeneğidir.

Çözüm 10: Mustafa Kemal'in sömürgecilğe ve emperyalizme karşı ilk mücadelesi Trablusgarp Savaşı'dır. Bu savaşta Mustafa Kemal; Derne ve Tobruk cephelerinde İtalyanlara karşı başarı kazanmıştır. Doğru cevap C seçeneğidir.

Çözüm 11: Osmanlı Devleti, II. Balkan Savaşı sonunda Yanıya, Girit ve Selanik'i Atina Antlaşması'yla Yunanistan'a bırakmıştır. Doğru cevap B seçeneğidir.

Çözüm 12: Osmanlı'nın I. Balkan Savaşı sonucunda batıdaki sınırının Midye - Enez hattına çekilmesi demek Edirne ve çevresinin kaybedildiğini ifade etmektedir. Ayrıca bu toprak kayıplarında sorumlu tutulan hükümet İttihat ve Terakki partisinin etkisiyle gerçekleştirilen Bab-ı Ali Baskını'yla iktidardan düşürülmüştür. Doğru cevap D seçeneğidir.

Çözüm 13: Üçlü Anlaşma Devletleri İngiltere, Fransa ve Rusya'dır. Doğru cevap B seçeneğidir.

Çözüm 14: Osmanlı Devleti'nin, İngilizlerden Mısır'ı geri almayı ve Almanların da İngilizlerin sömürgeleriyle bağlantısını kesmeyi amaçlayarak açılan cephe Kanal Cephesi'dir. Bu cephe Almanların isteğiyle açılmıştır. Doğru cevap D seçeneğidir.

Çözüm 15: Mondros Ateşkes Antlaşması'yla başlayan işgaller, 1918 yılındadır. Bu işgallere tepki olarak B, C ve D seçeneklerinde verilen tepkiler ortaya çıkmıştır. Ancak A'da verilen "Tehcir Yasası'nın kabul edilmesi" 1915 yılında olan bir gelişmedir ve dolayısıyla Mondros işgallerinden daha önce gerçekleşmiştir. Doğru cevap A seçeneğidir.

Çözüm 16: Mondros Mütarekesi sonrasında, Mersin ve Adana'yı Fransızlar işgal etmiştir. Ancak Ankara ve Amasya (III ve IV) işgale uğramamıştır. Doğru cevap C seçeneğidir.

Çözüm 17: Mondros Mütarekesi'nin 24. maddesi şu şekildedir: "Vilayet-i Sitte'de (Erzurum, Van, Diyarbakır, Elazığ, Sivas, Bitlis) herhangi bir karışıklık çıktığında İtilaf Devletleri bu illeri işgal edebileceklerdir." bu madde doğrultusunda, bölgede yaşayan Ermeniler ayaklanma çıkarmışlardır. Doğru cevap A seçeneğidir.

Çözüm 18: Paris Barış Konferansı'nda Yunanistan'ın; Türk toprakları üzerindeki istekleri üzerine Osmanlı Devleti'nin başvurusuyla Amerikalı Amiral Bristol, İzmir'de yaptığı incelemeler sonucunda Yunanistan'ın İzmir'i haksız yere işgal ettiğini, katliamı Yunanlıların yaptığını rapor etmiş ve böylece Yunanlıların tezini çürütmüştür. Doğru cevap A seçeneğidir.

Çözüm 19: I. Dünya Savaşı başında İtalya, İttifak Devletleri'nden İtilaf tarafına İzmir ve çevresinin kendisine verilmesi vaadiyle geçmiştir. Ancak Paris Görüşmeleri sırasında Yunanlılara İzmir'e asker çıkarması için izin verilmesi görüşülünce bu durum İtalya'nın tepkisini çekmiş ve böylece İtilaf arasında ilk görüş ayrılıkları ortaya çıkmıştır. Doğru cevap D seçeneğidir.

Çözüm 20: Mustafa Kemal, Erzurum'a geçtikten kısa bir süre sonra askerlik mesleğinden (9. Ordu Müfettişliği) istifa etmiştir. Böylece Erzurum Kongresi'nde kurulan Heyet-i Temsiliye'nin başkanlığını sivil olarak yürütmüştür. Doğru cevap C seçeneğidir.

TEST
11

T.C. İNKILAP TARİHİ VE ATATÜRKÇÜLÜK ÇÖZÜMLERİ

Çözüm 1: A, B ve C’de verilen bilgiler Türk devriminin yarattığı kültürel değişimleri oluşturur. D’de verilen Menkul Kıymetler Yasası ise ekonomik alanla ilgili yapılan çalışmaları içerir. Doğru cevap D seçeneğidir.

Çözüm 2: Milli bir şuur oluşturmak Türk Tarih Kurumunun amaçları arasında yer almaktadır. Doğru cevap A seçeneğidir.

Çözüm 3: Cumhuriyet Dönemi’nde, okullardaki müzik derslerini okutacak öğretmenlerin yetiştirilmesi amacıyla 1924 yılında Musiki Muallim Mektebi açılmıştır. Doğru cevap A seçeneğidir.

Çözüm 4: Lozan’da Türk heyeti; kapitülasyonlar ve Ermeni Sorunu’nda taviz vermemeye kararlı idi. Bu dönemde Anlaşma Devletleri, Ermenistan konusundaki isteklerinden vazgeçmişlerdir. Bu nedenle “Ermeni Yurdu” meselesi Lozan’dan sonra Atatürk Dönemi’nde bir sorun olarak tekrar gündeme gelmemiştir. Doğru cevap B seçeneğidir.

Çözüm 5: Balkan Antantı’na katılan devletler: Türkiye, Romanya, Yugoslavya ve Yunanistan’dır. Doğru cevap B seçeneğidir.

Çözüm 6: 1926 yılında Türkiye, İngiltere ve Irak hükümetleri arasında imzalanan antlaşma Ankara Antlaşması’dır. Doğru cevap A seçeneğidir.

Çözüm 7: Türkiye, yabancı okullar konusunun bir iç mesele olduğunu belirterek başta Fransa olmak üzere bu konuda hiçbir devlete taviz vermemiştir. Türkiye’deki tüm yabancı okullar Türk kanunlarına uymaları şartıyla eğitim faaliyetlerine devam etmişlerdir. Böylece dış politikada ilk başarı elde edilmiştir. Doğru cevap C seçeneğidir.

Çözüm 8: Etabli Sorunu; Yunanistan ile Türkiye arasında yaşanmıştır. Balkan Antantı’na; Türkiye, Romanya, Yugoslavya, Yunanistan katılmıştır. 1929’da Sovyetler Birliği, Kellog Briand Paketi ile aynı amacı güden Litvinov Protokolü’nü yürürlüğe koymuştur. Doğru cevap A seçeneğidir.

Çözüm 9: Türkiye, 1929 Dünya Ekonomik Bunalımı sonucu ödemesi gereken borçları ödeyememiş, bunun üzerine Türkiye ilgili devletlere başvurarak borçlarda yeni taksit düzenlemesi ve faiz indirimi için Atatürk Dönemi’nde Hoover Moratoryumu’na dahil olmak istemiştir. Doğru cevap B seçeneğidir.

Çözüm 10: İtalya’nın doğu ülkelerini hedef alan yayılımcı politikası karşısında Türkiye, İran, Irak ve Afganistan İran’ın başkenti Tahran’daki Sadabat Sarayı’nda bir araya gelerek Sadabat Pakti’ni kurdular (8 Temmuz 1937) Doğru cevap D seçeneğidir.

Çözüm 11: Atatürk’ün “Kırk asırlık Türk yurdu düşman elinde esir kalmaz.” dediği dış politika sorunu Hatay sorunudur. Doğru cevap B seçeneğidir.

Çözüm 12: Atatürk Dönemi’nde bağımsız olan Hatay, 29 Haziran 1939’da İsmet İnönü Dönemi’nde Türkiye’ye katılmıştır. Bu gelişme Atatürk dönemi dış politikası gelişmeleri arasında değildir. Doğru cevap D seçeneğidir.

Çözüm 13: 20 Temmuz 1936 yılında yapılan Montrö Boğazlar Sözleşmesi’yle Türkiye Boğazlar üzerinde tam egemenlik sağladı. Bu başarı Türkiye’nin hem dünya hem de bölgesinde önemini bir kat daha artırmıştır. Doğru cevap B seçeneğidir.

Çözüm 14: Kellog-Briand Paketi: Fransız Dışişleri Bakanı Briand ile ABD Dışişleri Bakanı Kellog’un mimarı oldukları pakettir. Amaç, savaşı ulusal politikaların bir aracı olmaktan çıkarmaktır. Bu pakt, ABD’nin öncülüğünde imzalanmış, paktta daha sonra SSCB ve Türkiye’de katılmıştır. Barışın sürekliliğini sağlamak ve devletlerarası ilişkilerde barışçı yollara başvurmak dünyada kalıcı bir barış ortamı oluşturmak amaçlanmıştır. Doğru cevap A seçeneğidir.

Çözüm 15: Hatay’ın bağımsız olmasında etkili olan rapor Milletler Cemiyeti raporu, Sandler Raporu’dur. Doğru cevap C seçeneğidir.

Çözüm 16: Türkiye ile Yunanistan arasında yaşanan nüfus mübadelesi sorununun çözümünde Yunan başbakanı Venizelos katkıları nedeniyle Atatürk’ü Nobel Barış Ödülü’ne aday göstermiştir. Doğru cevap D seçeneğidir.

Çözüm 17: I. Dünya Savaşı’nın ardından İtalya, Almanya ve Sovyet Rusya’da totaliter rejimler diğer bir deyişle baskıcı yönetimler iş başına gelmiştir. Doğru cevap C seçeneğidir.

Çözüm 18: Dünya II. Dünya Savaşı’nın ardından Sovyet Rusya’nın liderliğinde Doğu Bloku ve ABD’nin liderliğinde Batı Bloku olmak üzere iki kutuplu bir düzenin ortaya çıktığı bir dönem girmiştir. Doğru cevap B seçeneğidir.

Çözüm 19: II. Dünya Savaşı’nda oluşturulan gruplar:

Mihver Devletler: Almanya – İtalya – Japonya

Müttefik Devletler: İngiltere – Fransa – SSCB – Çin - ABD
Doğru cevap D seçeneğidir.

Çözüm 20: ABD’nin savaşa girmesi üzerine savaşın dengesi müttefiklerin lehine değişti. ABD, Kanada ve İngiliz birlikleri Normandiya kıyılarına yaptıkları çıkarmayla Fransa’yı Alman işgalinden kurtardılar. Ardından ABD’nin Japonya’nın Hiroşima ve Nagazaki kentlerine attığı atom bombalarıyla II. Dünya Savaşı Mihver devletlerinin yenilmesiyle sona erdi. Doğru cevap D seçeneğidir.

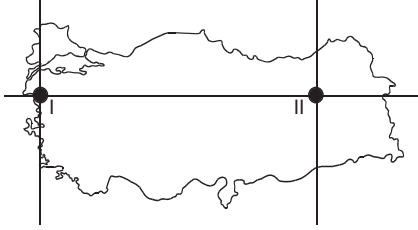
TÜRKİYE COĞRAFYASI

7. ÜNİTE

TEST 1

TÜRKİYE COĞRAFYASI

1.



Aşağıdakilerden hangisi Türkiye haritası üzerinde gösterilen merkezler ile ilgili ortak bir özelliktir?

- A) Meridyen değerleri aynıdır.
- B) Güneş ışınlarını alma açıları aynıdır.
- C) Yaşanan iklim özellikleri aynıdır.
- D) Yükselti değerleri aynıdır.

2. Güneş ışınları Türkiye'ye, mart ve eylül aylarında aynı açıyla gelir. Fakat eylül ayında sıcaklık ortalamaları, mart ayından daha yüksektir.

Bu durum, aşağıdakilerden hangisiyle açıklanabilir?


- A) Havadaki bulutluluğun az olması
- B) Yerden yansıyan ışınların az olması
- C) Yaz mevsiminde ısı birikiminin olması
- D) Havadaki nem miktarının fazla olması

3. Türkiye, 26° - 45° doğu meridyenleri ile 36° - 42° kuzey paralelleri arasında yer alır.

Buna göre aşağıdakilerden hangisi Türkiye'nin matematik konumunun bir sonucu değildir?

- A) Cephe yağışlarının görülmesi
- B) Güneyinde yaz mevsiminin uzun sürmesi
- C) Dağların güney yamaçlarının daha sıcak olması
- D) Doğusunda tarım ürünlerinin daha geç olgunlaşması

4.



Yukarıdaki şekilde aynı boylam üzerinde ok yönünde hareket edildiğinde, aşağıdakilerden hangisinin değiştiğini söylenemez?

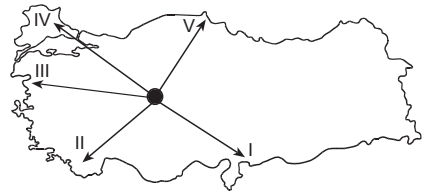
- A) Doğal bitki topluluklarının
- B) Bulunulan yarım kürenin
- C) Sıcaklık değerlerinin
- D) Paralellerin derece değerlerinin

5. Türkiye'de, üç farklı merkezde aynı gün yerel saat ile 12.00'de, 1 metrelik çubukların gölge boyları ölçülmüş ve boylarının eşit olduğu görülmüştür.

Buna göre, bu üç merkezin coğrafi konumları hakkında aşağıdakilerin hangisi doğrudur?

- A) Üç merkezin yükseklikleri aynıdır.
- B) Üç merkez de aynı enlemedir.
- C) Üç merkezin de bakı durumları aynıdır.
- D) Üç merkezin boylamları aynıdır.

6. 21 Aralık tarihinde, Ankara'dan hareket eden beş kişi aşağıdaki Türkiye haritasında gösterilen ok yönlerinde hareket etmişlerdir.



Bu kişilerden hangileri gittikleri yerlerde gece sürelerinin daha kısa olduğunu söyleyebilir?

- A) I ve II
- B) II ve III
- C) III ve IV
- D) IV ve V

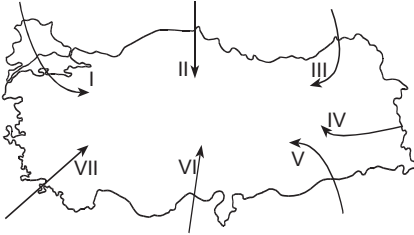
İstasyon	Yıllık Ort. Sıcaklık	Yükselti
Kayseri	10°C	1050 m
Niğde	11°C	1200 m
Sivas	8,5°C	1250 m

Yukarıda üç ilimizin yıllık ortalama sıcaklık değerleri ve yükseltileri verilmiştir.

Bu illerimizin indirgenmiş sıcaklıklarının büyükten küçüğe doğru sıralanışı aşağıdakilerden hangisinde doğru olarak verilmiştir?

- A) Kayseri, Niğde, Sivas
- B) Niğde, Sivas, Kayseri
- C) Kayseri, Sivas, Niğde
- D) Niğde, Kayseri, Sivas

19. Aşağıdaki haritada Türkiye’de etkili olan rüzgârların yönleri verilmiştir.



Bu rüzgârlardan hangisi, etkili olduğu bölgede sıcaklığı artırır ve havayı kurutur?

- A) VII
- B) VI
- C) V
- D) IV

20. Adana’da kış sıcaklığı, Sinop’tan daha yüksektir.

Aşağıdaki kentlerden hangilerinin arasındaki sıcaklık farkı, Adana ile Sinop arasındaki sıcaklık farkının nedeni ile açıklanabilir?

- A) İzmir – Uşak
- B) Antalya – Gaziantep
- C) Mersin – Zonguldak
- D) Sivas – Erzurum

CEVAP ANAHTARI

1	C	5	D	9	A	13	A	17	A
2	A	6	B	10	C	14	D	18	D
3	D	7	A	11	D	15	B	19	C
4	B	8	B	12	C	16	C	20	C

TEST 4

TÜRKİYE COĞRAFYASI

1. Türkiye’deki aktif nüfus oranının ekonomik faaliyet kollarına göre dağılışı aşağıdakilerden hangisi hakkında daha çok bilgi verir?

- A) Yer şekilleri
- B) İklim özellikleri
- C) Stratejik önemi
- D) Gelişmişlik düzeyi

2. Bir yöredeki konutlar, tamamen yakın çevreden sağlanan doğal malzemelerle yapılmışsa, o yöre için aşağıdakilerden hangisi söylenebilir?

- A) Gelir düzeyi yüksektir.
- B) Sosyal ve kültürel gelişmelere kapalı kalmıştır.
- C) Nüfus yoğunluğu fazladır.
- D) Bitki örtüsü zengindir.

3. Kentleşmenin ve kentli nüfusun en fazla olduğu bölgemiz aşağıdakilerden hangisidir?

- A) Marmara
- B) Ege
- C) Akdeniz
- D) Karadeniz

4. Aşağıdakilerden hangisi Türkiye’nin sanayi kentleri arasında yer almaz?

- A) İskenderun
- B) Batman
- C) Rize
- D) Adapazarı

5. Bir yerleşme biriminin köy ya da kent sayılmasında aşağıdakilerden hangisi ölçüt değildir?

- A) Konut sayısı
- B) Ekonomik etkinlikler
- C) Yüz ölçümü
- D) İdari yapısı

**TEST
9**

TÜRKİYE COĞRAFYASI

1. Türkiye’de sanayinin en çok geliştiği yer Çatalca – Kocaeli Bölümü’dür.

Aşağıdakilerden hangisi Çatalca – Kocaeli Bölümü’nde bulunmayan bir sanayi tesisidir?

- A) İlaç
B) Uçak
C) Otomotiv
D) Tersane

2. **Aşağıdakilerden hangisinde Adana Bölümü’nde bulunmayan bir sanayi kuruluşu, o bölümdaki bir merkezle eşleştirilmiştir?**

- A) Dokuma – Kahramanmaraş
B) Kâğıt – Hatay
C) Demir-çelik – İskenderun
D) Gübre – Mersin

3. **Kelebekler Vadisi Kanyonu hangi ilimizin sınırları içinde yer almaktadır?**

- A) Bursa
B) İstanbul
C) Isparta
D) Muğla

4. Ekonomisi tarıma dayalı şehirlere “tarım kentleri” denir.

Aşağıdaki şehirlerden hangisi tarım kentleri arasında yer almaz?

- A) Ceyhan (Adana)
B) Ereğli (Zonguldak)
C) Turgutlu (Manisa)
D) Akhisar (Manisa)

5.

- I. Bursa
II. Denizli
III. Antalya
IV. İzmir
V. Zonguldak

Yukarıda verilen illerin gelişme nedenleri göz önüne alınırsa hangilerinin ekonomisinde hem tarım hem sanayi ön planda yer alır?

- A) I ve II
B) I ve IV
C) II ve III
D) II ve V

6. Kentler; fonksiyonlarına göre sanayi, tarım, ticaret, liman kentleri olarak gruplandırılabilirler.

Aşağıda verilen şehirlerin fonksiyonları göz önüne alındığında hangisi önemli liman kentlerimiz arasında değildir?

- A) İstanbul
B) İzmir
C) Trabzon
D) Adana

7. **Aşağıdaki petrol rafinerilerinden hangisinin ünitelerinden birisinde petrol ile elektrik üretilmektedir?**

- A) İpraş
B) Aliağa
C) Ataş
D) Batman

8. **Her yıl haziran ayında yapılan şenliklerle özellikle de boğa güreşleriyle tanınan Kafkasör Yaylası hangi ilimiz sınırları içerisindedir?**

- A) Ordu
B) Iğdır
C) Erzurum
D) Artvin

18. Türkiye'de sanayi faaliyetlerinin özellikle batıdaki bölgelerde yoğunlaşmasında;

- I. sermaye
- II. ulaşım şartları
- III. yer şekilleri
- IV. iklim şartları

gibi özelliklerden hangisinin etkisi en azdır?

- A) I B) II C) III D) IV

19. Aşağıdaki illerin hangisinde konserve sanayisinin gelişmesi beklenmez?

- A) Van
- B) Bursa
- C) İzmit
- D) Antalya

20. Aşağıda verilen şehirlerin iklim şartları göz önüne alındığında hangisinde orman sanayinin gelişmiş olduğu söylenemez?

- A) Afyon
- B) Giresun
- C) Mardin
- D) İzmit

TEST
10

TÜRKİYE COĞRAFYASI

1. Aşağıdakilerden hangisi Türkiye'nin dış alım (ithal) ürünlerinden biridir?

- A) Fındık
- B) Pamuk
- C) Antepfıstığı
- D) Pirinç

2. İhracatımızda birinci sırada yer alan ülke aşağıdakilerden hangisidir?

- A) İngiltere
- B) ABD
- C) Fransa
- D) Almanya

3. Aşağıdaki yörelerden hangisinin turizmde volkanik oluşumlar önemli bir yer tutar?

- A) Fethiye
- B) Nemrut
- C) Palandöken
- D) Ürgüp – Göreme

4. Aşağıda bazı milli parklarımız ve bulunduğu iller verilmiştir.

Bunlardan hangisinin eşleştirmesi yanlıştır?

- A) Manyas Kuş Cenneti – Balıkesir
- B) Ilgaz Dağı – Kastamonu
- C) Yedi Göller – Bolu
- D) Gelibolu – İstanbul

5. Aşağıda verilen coğrafi bölümlerden hangisinin turizm gelirleri daha fazladır?

- A) Orta Karadeniz
- B) Orta Kızılırmak
- C) İç Batı Anadolu
- D) Yukarı Kızılırmak

CEVAP ANAHTARI

1	B	5	B	9	A	13	A	17	D
2	B	6	D	10	C	14	D	18	D
3	D	7	B	11	B	15	B	19	A
4	B	8	D	12	B	16	B	20	C

17. Aşağıdaki ekonomik faaliyetlerin hangisinin üzerinde iklimin etkisinden söz edilemez?

- A) Akdeniz ikliminin etkili olduğu alanlarda, kış ılıklığı isteyen ürünlerin yetiştirilmesi
- B) Akdeniz ve Ege'de plaj turizminin gelişmesi
- C) Akdeniz ve Karadeniz Bölgesi'nde, limanların hinterlandının dar olması
- D) İç kesimlerde nadas tarımı yapılması

18. Sanayinin geliştiği bölgelerde birtakım sorunlar da artmaktadır. Bu sorunlardan bir tanesi de çevre kirliliğidir.

Buna göre, aşağıdaki şehirlerin hangisinde çevre kirliliğinin daha fazla olması beklenir?

- A) Ardahan
- B) Bitlis
- C) Kütahya
- D) Samsun

19. Petrol, doğal gaz, linyit, taş kömürü ve jeotermal enerji kaynaklarından elde edilen enerjiye termik elektrik denir. Aşağıda termik elektrik üretiminde kullanılan bazı enerji kaynakları ile bu kaynakların en çok bulunduğu bölgeler eşleştirilmiştir.

Bu eşleştirmelerden hangisi doğru değildir?

- A) Taş kömürü – Karadeniz
- B) Doğal gaz – Marmara
- C) Petrol – Güneydoğu Anadolu
- D) Jeotermal enerji – Doğu Anadolu

20. Yurdumuzda dağların denize bakan yamaçları ile içe dönük yamaçları arasında yağış miktarı, bitki örtüsü ve ekonomik faaliyetler açısından büyük farklılıklar vardır.

Aşağıdaki bölümlerin hangisinde bu durum belirgin olarak görülmektedir?

- A) Güney Marmara Bölümü
- B) Doğu Karadeniz Bölümü
- C) Asıl Ege Bölümü
- D) Çatalca – Kocaeli Bölümü

CEVAP ANAHTARI

1	D	5	B	9	D	13	C	17	C
2	D	6	A	10	B	14	D	18	D
3	D	7	D	11	C	15	B	19	D
4	D	8	D	12	A	16	D	20	B

TEST
1

TÜRKİYE COĞRAFYASI ÇÖZÜMLERİ

Çözüm 1: Haritaya bakıldığında I ve II numaralı noktaların buldukları boylam değerlerinin farklı olduğu görülmektedir. Ancak her iki noktanın da aynı enlem üzerinde yer aldıkları görülmektedir. Aynı enlem üzerinde yer aldıkları için güneş ışınlarını alma açıları da aynıdır. Doğru cevap B seçeneğidir.

Çözüm 2: Türkiye'de "21 Mart" ilkbahar başlangıcıdır. Yani kış mevsiminden ilkbahara geçiş söz konusudur. Bu nedenle kış boyunca ısı kaybı yaşandığından mart ayında sıcaklık değerleri yüksek değildir. Eylül ayı ise sonbahar başlangıcıdır. Yani yaz mevsiminden, sonbahara geçiş söz konusudur. Yaz boyunca ısı birikimi yaşandığı için eylül ayı, mart ayından daha sıcak geçer. Doğru cevap C seçeneğidir.

Çözüm 3: Türkiye'nin matematik konumunun sonuçları şunlardır:

- Doğu - batı istikametinde 76 dakika yerel saat farkı bulunur.
- Aynı anda tek ortak saat kullanılır. Çünkü doğu - batı yönünde fazla geniş değildir.
- Güneş ışınları, hiçbir zaman dik açıyla gelmez.
- İki meridyen arası uzaklık yaklaşık olarak 85-86 km'dir.
- Orta kuşakta yer alır.
- Mevsimler belirgin olarak görülür.
- Kışın cephesel yağışlar fazladır.
- Güneyden kuzeye gidildikçe güneş ışınlarının geliş açısı küçülür.
- Güneyden kuzeye gidildikçe cisimlerin gölge boyu uzar.
- Güneyden kuzeye gidildikçe gece - gündüz süreleri arasındaki fark artar.
- Kuzeyden esen rüzgârlar, sıcaklığı düşürürken; güneyden esen rüzgârlar sıcaklığı yükseltir.
- Dağların güney yamaçları daha sıcaktır. Buna bağlı olarak güney yamaçlarda yerleşmeler fazladır.

A, B ve C seçeneklerinde verilen bilgilerin Türkiye'nin matematik konumunun sonuçları olduğu görülürken; D seçeneğinde verilen bilgi Türkiye'nin özel konumunun sonucudur. Çünkü Türkiye'nin doğusunda tarım ürünlerinin daha geç olgunlaşmasının sebebi yükseldir. Doğru cevap D seçeneğidir.

Çözüm 4: Şekle bakıldığında ok boyunca A, C ve D seçeneklerinde verilen bilgiler değişirken; B seçeneğinde verilen bilgi değişmez. Çünkü okun başladığı nokta 42° Kuzey paraleli, bittiği nokta ise 36° Kuzey paralelidir. Yani okun seyri tamamen Kuzey Yarım Küre'de gerçekleşmiştir. Doğru cevap B seçeneğidir.

TEST
10

TÜRKİYE COĞRAFYASI ÇÖZÜMLERİ

Çözüm 1: Türkiye; fındık, antepfıstığı ve pamuk ihraç eden bir ülkedir. Ancak pirinç üretimi yeterli düzeyde olmadığı için ithal edilmektedir. Doğru cevap D seçeneğidir.

Çözüm 2: Türkiye ihracatının büyük bölümünü, Avrupa ülkelerine yapmaktadır. Avrupa ülkeleri içinde bulunan Almanya, Türkiye'nin en fazla ihraç yaptığı devlettir. Doğru cevap D seçeneğidir.

Çözüm 3: Fethiye'de doğal güzellikler ve deniz, Palandöken'de kayak, Nemrut'ta tarihi eserler turizm üzerinde etkilidir. Ancak Ürgüp-Göreme volkanik arazi üzerinde yer almaktadırlar. Burada volkan tufünün aşınmasına bağlı olarak oluşan peribacaları buraya her yıl çok sayıda turistini getiriyor. Doğru cevap D seçeneğidir.

Çözüm 4: Seçeneklere baktığımızda A, B ve C seçeneklerinde verilen milli park ve bulunduğu il eşleştirmeleri doğrudur. Ancak D seçeneğinde verilen Gelibolu-İstanbul eşleştirmesi yanlıştır. Çünkü Gelibolu Milli Parkı, Çanakkale ili sınırları içerisinde yer alır. Doğru cevap D seçeneğidir.

Çözüm 5: Seçeneklere baktığımızda doğru cevap Orta Kızılırmak'tır. Çünkü Orta Kızılırmak'ta yer alan Nevşehir, Ürgüp – Göreme gibi yerler turizm potansiyelinin fazla olduğu yerlerdir. Doğru cevap B seçeneğidir.

Çözüm 6: Turizm gelirlerini arttırmak için; doğal ve tarihi varlıkların korunması, uluslararası fuar ve festivallerin düzenlenmesi, el sanatlarının geliştirilmesine önem verilmesi gerekir. Ancak ithalat yapılan ülkelerin arttırılmasının turizme hiçbir katkısı yoktur. Doğru cevap A seçeneğidir.

Çözüm 7: Karstik oluşum şekilleri; travertenler, lapyalar, mağaralar, sütunlar, dikitler ve sarkıtlardır. Buna göre D seçeneğinde verilen Damlatay Mağarası, bir karstik oluşum şeklidir. Doğru cevap D seçeneğidir.

Çözüm 8: Bir ülkede doğal limanın fazla olması o ülkenin ekonomik gelişmişliği ile alakalı değildir. Bu, o ülkenin yer şekilleriyle alakalı bir durumdur. Doğru cevap D seçeneğidir.

Çözüm 9: Türkiye'de iklim koşulları, en çok Doğu Anadolu Bölgesi'nde ulaşımı etkilemektedir. Çünkü Doğu Anadolu, kırsal şartlarının uzun ve çetin geçtiği dağlık ve engebeli bir bölgedir. Doğru cevap D seçeneğidir.

Çözüm 10: Limanların gelişmesi için; hinterlandının geniş olması, hinterlandının ürün zenginliği ve ard bölgesindeki ekonomik etkinliklerin niteliği etkili olmaktadır. Ancak doğal liman olmasının gelişmesinde önemli bir etkisi yoktur. Doğru cevap B seçeneğidir.

Çözüm 11: Seçeneklerde verilen bölgelere baktığımızda karayolu taşımacılığının zor olduğu bölge Akdeniz'dir. Çünkü Akdeniz Bölgesi'nde dağlar, kıyıya yakın ve paralel uzandığı için kıyı kesimi ile iç kesim arasındaki ulaşım geçitlerle sağlanmaktadır. Doğru cevap C seçeneğidir.

Çözüm 12: Seçeneklerdeki limanlara baktığımızda İzmir Limanı ile iç kesimlere ulaşım daha kolay sağlanmaktadır. Çünkü Karadeniz ve Akdeniz bölgelerinde dağlar kıyıya paralel uzandığından kıyıda bulunan limanlar ile iç kesimler arasındaki ulaşım zor gerçekleşir. Ancak Ege Bölgesi'nde dağlar, kıyıya dik uzandığı için kıyı kesimi ile iç kesim arasında ulaşım kolay sağlanmaktadır. Doğru cevap A seçeneğidir.

Çözüm 13: Bir limanın ithalat ve ihracat olarak potansiyelinin fazla olması, hinterlandının geniş olmasıyla alakalıdır. Ayrıca eğer küresel bir etkiye sahip ise bu potansiyelinin artmasında bir başka etkidir. Buna göre ithalat ve ihracat potansiyeli yüksek olan liman İstanbul Limanı'dır. Doğru cevap C seçeneğidir.

Çözüm 14: İstanbul'un, Türkiye'nin en büyük ticaret merkezi olması; sanayisinin gelişmesi, ulaşımın elverişli olması, tüketimin fazla olmasıyla bir ilişkisi vardır. Ancak bu durumu "matematik konum" ile açıklayamayız. Doğru cevap D seçeneğidir.

Çözüm 15: Eğer bir ülkenin ithalatını ham madde, ihracatını sanayi ürünleri oluşturuyorsa o ülke, sanayi bakımından gelişmiş bir ülkedir. Gelişmiş ülkeler; tarımda verimliliğin yüksek olduğu, nüfus artış hızının düşük olduğu söylenebilir. Ancak "nüfus yoğunluğu azdır" denemez. Doğru cevap B seçeneğidir.

Çözüm 16: Tütün ve zeytinde Ege Bölgesi, şeker pancarında İç Anadolu Bölgesi birincidir. Ayçiçeğinde ise Marmara Bölgesi birinci sırada yer alır. Özellikle Marmara Bölgesi'nin Ergene Bölümü, ayçiçeği üretiminin büyük bölümünü karşılar. Doğru cevap D seçeneğidir.

Çözüm 17: A, B ve D seçeneklerinde verilen durumlar, doğrudan iklimin etkisi altında meydana gelen gelişmelerdir. Ancak C seçeneğinde verilen durumda iklim değil, yer şekilleri etkilidir. Çünkü Akdeniz ve Karadeniz Bölgesi'nde dağlar kıyıya yakın ve paralel uzandığı için limanların art bölgeleri dardır. Doğru cevap C seçeneğidir.

Çözüm 18: Seçeneklere baktığımızda sanayinin geliştiği ve buna bağlı olarak çevre kirliliğinin daha fazla olduğu kent Samsun'dur. Çünkü diğer bölgelerimizde sanayi tesisi yok denecek kadar azdır. Doğru cevap D seçeneğidir.

Çözüm 19: A, B ve C seçeneklerinde verilen eşleştirmeler doğrudur. Ancak D seçeneğinde verilen eşleştirme yanlıştır. Çünkü ülkemizde jeotermal enerji kaynağının fazla olduğu ve jeotermal enerji ile çalışan termik santralin bulunduğu bölge Ege Bölgesi'dir. Doğru cevap D seçeneğidir.

Çözüm 20: Karadeniz ve Akdeniz Bölgeleri'nde dağlar, paralel uzandığı için deniz üzerinden gelen nemli hava kütleleri iç kesimlere kadar sokulamamaktadır. Bu nedenle kıyı ve iç kesim arasında iklim, bitki örtüsü ve tarım ürünü çeşitliliği açısından farklılıklar oluşmaktadır. Karadeniz Bölgesi'nde yer alan Doğu Karadeniz Bölümü, yukarıda anlatılan durumun yaşandığı bölümlerdendir. Doğru cevap B seçeneğidir.

TÜRK DEVLETLERİ VE TOPLULUKLARI

8. ÜNİTE

TEST 1

TÜRK DEVLETLERİ VE TOPLULUKLARI

1. Aşağıdakilerden hangisi Türgişlerin özellikleri arasında yer almaz?

- A) Baga Tarkan Türk tarihinde kendi adına para bastıran ilk hükümdardır.
- B) Orta Asya'nın Emevi hakimiyetine girmesini önlemiştir.
- C) Günümüzde yaşayan Gagavuzların atalarını oluşturmaktadırlar.
- D) Karluklar tarafından siyasi varlıklarına son verilmiştir.

2. Türkiye aşağıdaki hangi devlet ile eğitim ve kültürel ilişkileri sağlamlaştırmak amacıyla Bişkek'te Manas Üniversitesinin kurulmasına katkıda bulunmuştur?

- A) Türkmenistan
- B) Tacikistan
- C) Kazakistan
- D) Kırgızistan

3. Mete Han'ın tahta çıkış tarihi olan MÖ 209 yılı Türk Kara Kuvvetleri Komutanlığı'nın kuruluş tarihi olarak kabul edilmektedir.

Mete Han'ın tahta çıkışının Kara Kuvvetlerinin kuruluş yıl dönümü olarak kutlanmasının nedeni aşağıdakilerden hangisidir?

- A) Savaş meydanında ilk kez turan taktiğini kullanması
- B) At koşum takımlarını kullanan süvari birlikleri oluşturması
- C) Onlu sistem denilen ilk askeri teşkilatı kurması
- D) Ordu-millet anlayışında bir askeri kültür oluşturması

4. Bumin Kağan Dönemi'nde I. Kök Türk Devleti'nin batısını idare etmekle görevlendirilen ve İpek Yolu'na hakim olmak için Sasanilerle anlaşarak Akhun Devleti'ne son veren devlet adamı aşağıdakilerden hangisidir?

- A) Vezir Tonyukuk
- B) İstemi Yabgu
- C) Bilge Kağan
- D) Kutluk Kağan

5. Orta Asya Cumhuriyetleri arasında en büyük doğal gaz rezervlerine ve yıllık üretim kapasitesine sahip devlet aşağıdakilerden hangisidir?

- A) Türkmenistan
- B) Kırgızistan
- C) Özbekistan
- D) Azerbaycan

6. Orta Asya Türk göçlerinin sebepleri; siyasi, ekonomik, coğrafi ve sosyal olarak sınıflandırıldığında aşağıdakilerden hangisi siyasi sebepler arasında yer almaz?

- A) Bağımsız yaşama arzusu
- B) Türk boyları arasındaki mücadele
- C) Cihana hükmetme ideali
- D) Nüfus artışı ve otlakların yetersiz olması

7. Aşağıdakilerden hangisi Çin'in Hunlara karşı takip ettiği politikalarından biri değildir?

- A) Türklerin göçebe hayat sürmelerini teşvik ederek yerleşik hayata geçmelerini önlemek
- B) Türk boylarını birbirine düşürerek bölmek, güçten düşürerek kontrol altına almak
- C) Türk toplumunu lüks ve rahat hayata alıştırarak güçlü ve mücadelecı özelliklerini ortadan kaldırmak
- D) Türk sarayına gönderdikleri prenseslerin casusluk faaliyetleri sayesinde devletin sırlarını öğrenmek

TÜRKLERİN BİLİM, SANAT VE MEDENİYETE KATKILARI

9. ÜNİTE

TEST 1

TÜRKLERİN BİLİM, SANAT VE MEDENİYETE KATKILARI

- Osmanlı Devleti'nde XVIII. yüzyıldan itibaren görülmeye başlayan Avrupa tarzı mimari örnekleri en çok aşağıdaki hangi mimari eser üzerinde etkisini göstermiştir?**
 - Çeşme
 - Külliyeye
 - Saray
 - Bedesten
- Türk İslam devletlerinde Türk çadırı örnek alınarak yapılan silindirik, çokgen gövdeli, konik ve piramit çatılı anıt mezarlara verilen ad aşağıdakilerden hangisidir?**
 - Kurgan
 - Zaviye
 - Kümbet
 - Maristan
- Aşağıdakilerden hangisi Cumhuriyet Dönemi'nde eğitim alanındaki değişimlerden biri değildir?**
 - Tevhid-i Tedrisat Kanunu ile eğitim-öğretim birliğinin sağlanması
 - Tarih ve dil konularında millileşmenin hız kazanması
 - Medreselerin modern hale getirilmesi
 - Karma eğitim sistemine geçilmesi
- Aşağıdakilerden hangisi eğitim kurumu değildir?**
 - Sultani
 - İptidai
 - Darülfünun
 - İmaret
- Selçuklular Dönemi'nde aşağıdakilerden hangisinin inşa edilmesindeki amacı ülkedeki ticareti geliştirmeye yöneliktir?**
 - Türbe
 - Darüşşifa
 - Medrese
 - Kervansaray
- 1632 yılında IV. Murat zamanında takma kanatlar ile Galata Kulesi'nden atlayarak Üsküdar'a kadar ilk uçuşu gerçekleştiren kişi aşağıdakilerden hangisidir?**
 - Lagari Hasan Çelebi
 - Hezarfen Ahmet Çelebi
 - Takiyüddin Mehmet
 - Molla Lütfi
- İslamiyet'ten önce Orta Asya'da yaşayan Türklerin uğraşları arasında aşağıdakilerden hangisi yer almaz?**
 - Taş işleme
 - Maden işleme
 - Dokumacılık
 - Denizcilik
- Türlere ait;**
 - Siyasetname,
 - Kutadgu Bilig,
 - Orhun Kitabeleri

kaynaklarının hangilerinde devlet ve halkın karşılıklı olarak görevleri ile ilgili bilgiler yer almıştır?

 - Yalnız I
 - Yalnız II
 - I ve II
 - I, II ve III

TÜRK DÜŞÜNCE TARİHİ VE DEVLET FELSEFESİ

10. ÜNİTE

TEST
1

TÜRK DÜŞÜNCE TARİHİ VE DEVLET FELSEFESİ

1. Türk devlet ve siyaset düşüncesine dair bilgilere rastladığımız, hem İslam öncesi hem de sonrası Türk düşünce tarihine dair bilgiler sunan ve Kaşgarlı Mahmud tarafından yazılan eser aşağıdakilerden hangisidir?

- A) Muhakemetü'l Lügatayn
- B) Divanü Lügati't-Türk
- C) Kutadgu Bilig
- D) Atabetü'l Hakayık

2. Bir şeyin üzerine yavaş yavaş düşmek, bir yapının birbiri üstüne çökmesi, tenakuz, tahrip, zaaf, bozukluk gibi anlamlara gelen ve Gazali ile İbn Rüşd arasında tartışma konusu olan kavram aşağıdakilerden hangisidir?

- A) Entegrizm
- B) İrredentizm
- C) Merkantilizm
- D) Tehâfüt

3. Yusuf Akçura'nın Türk düşünce yapısında var olan Osmanlılık, İslamcılık ve Türkçülük düşünce akımlarını incelediği makale aşağıdakilerden hangisidir?

- A) Cevabımız
- B) Bir Mektup
- C) Üç Tarz-ı Siyaset
- D) Şiir ve İnşa

4. Aşağıdakilerden hangisi II. Meşrutiyet Dönemi'nde İslamcılık düşüncesini savunan ve bu düşüncenin bir fikir akımı haline gelmesinde önemli rol oynayan Sırât-ı Müstakim dergisinin başyazarlığını yapmıştır?

- A) Mustafa Şekip Tunç
- B) Mehmet Akif Ersoy
- C) Yahya Kemal Beyatlı
- D) İsmail Hakkı Baltacıoğlu

5. Resmî tarih anlayışında Atatürk'ün milliyetçilik ilkesi için aşağıdaki kavramlardan hangisinin kullanıldığı söylenemez?

- A) Rasyonel
- B) Modern
- C) Demokratik
- D) Mağrur

6. Edebiyat dünyasında Halikarnas Balıkcısı olarak bilinen, eserlerinde Anadolu Hümanizmi vurgusunu hep taşımış ve Anadolu'nun medeniyetler beşiği olduğunu dirayetle savunan yazar kimdir?

- A) Cevat Şakir Kabaağaçlı
- B) Ahmet Hamdi Tanpınar
- C) Yahya Kemal Beyatlı
- D) Bedri Rahmi Eyüboğlu

7. Jön Türk hareketi içerisinde liberal ve âdem-i merkezîyetçi fikirleriyle bilinen kişi kimdir?

- A) Ahmed Rıza
- B) Namık Kemal
- C) Prens Sabahaddin
- D) Hüseyin Cahit

3. KISIM

- Türk Eğitim Tarihi
- Öğretim İlke ve Yöntemleri
- Öğrenme Psikolojisi
- Kültürel Diplomasi ve Eğitim

20 PUAN

TEST 1

TÜRK EĞİTİM TARİHİ

1. Ülkemizde eğitim ve öğretimin birleştirilmesi ve tüm okulların Millî Eğitim Bakanlığına bağlanması aşağıdakilerden hangisiyle gerçekleşmiştir?

- A) 1924 Anayasası ile
- B) 1961 Anayasası ile
- C) Tevhid-i Tedrisat Kanunu ile
- D) Millî Eğitim Temel Kanunu ile

2. Aşağıdakilerden hangisi ideal insan tipi olan "alp" tipinde bulunması istenen özelliklerden biri değildir?

- A) Savaşçı Olmak
- B) Ahlaki erdemlere sahip olmak
- C) Açları doyumak
- D) Sanatçı kişiliğe sahip olmak

3. Ünlü Türk düşünürünün bilinen eserleri, Mesnevi ve Dîvân'dır. Mesnevi, pek çok dile çevrilmiş ve tüm dünyada ilgi görmüştür. Şiirlerinde hoşgörü, insan sevgisi, ahlaki değerler gibi kavramları işlemiştir. Mevlevilik tarikatının kurucusudur.

Yukarıda sözü edilen Türk düşünür aşağıdakilerden hangisidir?

- A) Mevlana
- B) Yunus Emre
- C) Hacı Bektaş Veli
- D) Âşık Paşa

4. Aşağıdakilerden hangisi Osmanlı Devleti'nde Klasik Dönem Eğitimi'nin özellikleri arasında yer almaz?

- A) Eğitimin mali kaynağını halk ve vakıflar sağlamıştır.
- B) Eğitim öğretim; ezbercilik, taklit yoluyla öğrenme, aktarmacılık üzerine kuruludur.
- C) İlk ve ortaöğretimde eğitim dili Osmanlı Türkçesi, Yükseköğretim ve bilim çevrelerinde ise hâkim dil Arapçadır.
- D) Eğitim alanındaki teknolojik gelişmeler yakından takip edilmiştir.

5. Aşağıdakilerden hangisi Osmanlılardaki askeri eğitim kurumlarından değildir?

- A) Loncalar
- B) Acemi Oğlanlar Ocağı
- C) Yeniçeri Ocağı
- D) Enderun

6. Aşağıdaki çalışmalardan hangisi laik eğitimin kurulması amacıyla atılmış adımlardan biri değildir?

- A) Şeriye ve Evkaf Vekâletinin kaldırılması
- B) Tevhid-i Tedrisat Kanunu'nun çıkarılması
- C) Türk Dil Kurumunun kurulması
- D) Tekke ve zaviyelerin kapatılması

7.

- Eğitimin geliştirilmesi için önemli inkılaplar yapıldı.
- Bilimsel yöntem ve tekniklerin kullanılmasına önem verildi.
- Karma eğitime geçildi.

Bu çalışmalar hangi dönemin eğitim anlayışını yansıtmaktadır?

- A) Tanzimat Dönemi
- B) Cumhuriyet Dönemi
- C) Meşrutiyet Dönemi
- D) Klasik Dönem

ÖĞRETİM İLKE VE YÖNTEMLERİ

12.

ÜNİTE

TEST
1

ÖĞRETİM İLKE VE YÖNTEMLERİ

1. Bu ilke eğitim-öğretim etkinliklerinin öğrenciler arasındaki bireysel farklılıklara ve öğrencilerin seviyesine uygun olarak gerçekleştirilmesini öngörür. Plan ve programlar öğrencinin içinde bulunduğu bütün durumlara uygun olmazsa öğrenciyeye rahatsızlık verir.

Yukarıda açıklaması yapılan öğretim ilkesi aşağıdakilerden hangisidir?

- A) Yaşama yakınlık B) Çocuğa görelik
C) Aktüalite D) Açıklık

2. Anlatırsan unutabilirim, gösterirsen anımsayabilirim, beni işin içine katarsan asla unutmam öğrenirim.

Bu söz aşağıdaki öğretim ilkelerinden hangisine vurgu yapmıştır?

- A) Açıklık B) Yakından uzağa
C) Çocuğa görelik D) Aktivite

3. Bir grup öğretmen kendilerine örnek olarak gönderilen kitabın okutulması düşünülen sınıf için uygun olmadığını, çünkü kitabın hazırlanışında öğrencilerin bugüne kadarki bilgi ve tecrübe birikimlerinin dikkate alınmadığını iddia etmektedirler.

Bu öğretmenler kitabın aşağıdaki ilkelere hangisine uygun olmadığını düşünmektedirler?

- A) Somuttan soyuta
B) Bilinenden bilinmeyene
C) Aktivite
D) Etkin katılım

4. İlköğretim birinci kademede görev yapan Ülkü Öğretmen "özgürlük" kavramını anlatacağı gün sınıfa kafeste bir kuşla gelmiştir. Öğrencilerinin gözleri önünde kafesin kapağını açarak kuşu serbest bırakmıştır.

Ülkü Öğretmen'in gerçekleştirdiği bu davranış aşağıdaki öğretim ilkelerinden hangisine uygundur?

- A) Bilinenden bilinmeyene
B) Yakından uzağa
C) Çocuğa görelik
D) Somuttan soyuta

5. Öğrenme - öğretme sürecinde öğretim programında yer alan disiplinler arası anlayışı göz önünde bulundurarak öğrencilerin çok yönlü gelişimini destekleyici öğretim etkinliklerine yer veren bir öğretmenin öncelikle dikkate aldığı öğretim ilkesi aşağıdakilerden hangisidir?

- A) Öğrenci düzeyine uygunluk
B) Tümdengelim
C) Bilinenden bilinmeyene
D) Bütünlük

6. Anatomi dersinde "Vücutumuzun Bilmecesini Çözelim" temasını işleyen bir öğretmen, konuların daha iyi anlaşılmasını sağlamak amacıyla süreç içerisinde sistemler ve organlarla ilgili maketler, modeller, levhalar ve slaytlar kullanmıştır.

Yukarıda fen ve teknoloji öğretmenin derslerini görsel materyallerle destekleyerek işleminde temel aldığı öğretim ilkesi aşağıdakilerden hangisidir?

- A) Yaşama yakınlık
B) Bilinenden bilinmeyene
C) Açıklık (Ayanilik)
D) Hedefe görelik

19. Öğrenme öğretme sürecinde ödül kullanma ve övücü ifadelerden yararlanma öğrencileri yapabileceklerinin en iyisini yapmaları hususunda destekler. Ancak bu durumun bazı olumsuz etkilerinin olabileceği de bilinen bir gerçektir.

Buna göre aşağıdakilerden hangisinin bu olumsuz etkilerden olduğu söylenemez?

- A) Öğrencilerin ödülün ya da övgünün kontrol edilmek için kullanıldığını düşünmeleri
B) Öğrencilerin ödüle bağımlı olmaları
C) Öğrencilerin ödül kazanmanın asıl amaç olmadığını, asıl amacın istendik davranışı sergilemek olduğunu anlamaları
D) Ödül ya da övgü alan öğrencilerin buna ihtiyaçlarının olmadığını düşünmeleri ve bu durumu küçümsemeleri

20. Bloom'un tam öğrenme modeline göre öğretim hizmetinin niteliğinin artırılması için önemli unsurlardan biri de ipuçlarıdır.

Buna göre aşağıdakilerden hangisi ipuçlarında bulunması gereken özelliklerden biri değildir?

- A) Öğrencilerin gelişim düzeylerine uygun olma
B) Öğretmenin gelişim özelliklerine uygun olma
C) Öğrencilerin bilişsel giriş davranışlarına uygun olma
D) Öğrencilerin duyuşsal özelliklerine uygun olma

CEVAP ANAHTARI

1	D	5	B	9	A	13	D	17	C
2	D	6	B	10	D	14	B	18	B
3	D	7	A	11	B	15	D	19	C
4	D	8	A	12	B	16	B	20	B

TEST 1

ÖĞRETİM İLKE VE YÖNTEMLERİ ÇÖZÜMLERİ

Çözüm 1: Öğrenme - öğretme sürecinin öğrenciler arasındaki bireysel farklılıklara ve öğrencilerin seviyesine uygun olması "öğrenciye görelilik" ilkesi ile ilgilidir. Bu ilke ders programının hazırlanmasında veya dersin işlenmesinde öğrencinin fizyolojik ve psikolojik özelliklerinin, bireysel farklılıklarının esas alınması temeline dayanır. Öğrenciye görelilik ilkesi, gelişim ve öğrenme psikolojisindeki gelişmeler ve çağdaş eğitim akımlarından "Çocuktan Hareket Akımı" pedagoglarının görüşleri sonucu geliştirilmiştir. Hangi öğretim kademesinde olursa olsun öğrencinin hazırbulunuşluk düzeyinin dikkate alınması gerekir. Etkili öğrenme, öğrencilerin düzeyine uygun, öğrencinin etkin katıldığı öğretim etkinlikleri ile gerçekleşir. Doğru cevap B seçeneğidir.

Çözüm 2: "Anlatırsan unutulabilirim, gösterirsen anımsayabilirim, beni işin içine katarsan asla unutmam öğrenirim." sözü öğretim ilkelerinden aktiviteye vurgu yapmaktadır. Çünkü bu ifadeye geçen "... beni işin içine katarsan..." söz grubuyla, öğrenmenin gerçekleşmesinde en önemli unsurun bireyin öğrenmeye yönelik bilinçli eylemleri olduğu mesajı verilmiştir. Aktivite ilkesi öğrencinin hayatta karşılaşacağı, kullanacağı bilgi ve becerileri yaparak yaşayarak öğrenmesi anlamındadır. Bunu sağlamak için de öğrenme etkinlikleri öğrencilerin etkin katılımını sağlayacak şekilde hazırlanmalıdır. Doğru cevap D seçeneğidir.

Çözüm 3: Verilen parçada sözü edilen öğretmenlerin, kendilerine gönderilen kitabı okutmak istememelerinin sebebi; bu kitabın öğretim ilkelerinden "bilinenden bilinmeyene" ilkesine uygun olmamasıdır. Çünkü öncül parçada söz konusu kitabın, öğrencilerin geçmiş bilgi ve birikimlerini dikkate almadığı ifade edilmiştir. Dolayısıyla burada öğrenme öğretme sürecinde bilinenlerden yola çıkarak yeni bilgiler edinme ilkesinin göz ardı edildiği söylenebilir. Bilinenden bilinmeyene ilkesi yeni bilgileri eski bilgilerle karşılaştırarak, gerektiğinde eskileri doğrulayarak geliştirmek ve bu sayede öğrencideki bilgi sisteminin çok daha sağlam olmasını sağlamak amacıyla yöneliktir. Doğru cevap B seçeneğidir.

Çözüm 4: İlköğretim birinci kademe görev yapan Ülkü Öğretmen'in "özgürlük" kavramından bahsedeceği derse kafeste bir kuşla gelmesi ve daha sonra kafesin kapağını açarak kuşu serbest bırakması öğretim ilkelerinden "somuttan soyuta" ilkesiyle ilgilidir. Özgürlük kavramı soyut bir kavramdır ve ilk okulda bulunan öğrenciler soyut kavramları tam olarak anlamakta zorluk çekebilirler. Ülkü Öğretmen bu zorluğu aşmak için konuyu somutlaştırmış (kafeste bir kuşla sınıfa gelme ve kuşu özgür bırakma) ve bu somut örnekten hareketle soyut bir kavramı anlatmıştır. Doğru cevap D seçeneğidir.

TEST 1

ÖĞRENME PSİKOLOJİSİ

1.

- Fazla ışığa maruz kalınca göz bebeğinin küçülmesi
- Soğuktan titremek
- Patlama sesinden dolayı irkilmek

durumlarının ortak özelliği aşağıdakilerden hangisidir?

- A) Karmaşık davranış örüntüleri içerir.
- B) Belirli bir türe özgü davranışlardır.
- C) Engellenebilir niteliktedir.
- D) Belirli bir uyarıcıya yönelik tepkilerdir.

2. **Bir davranışın öğrenme ürünü olarak kabul edilebilmesi için;**

- I. Davranış değişikliğine yol açmış olması,
- II. Kalıcı izli olması,
- III. Yaşantı sonucu ortaya çıkmış olması

koşullarından hangilerini sağlaması gerekir?

- A) I ve II
- B) I ve III
- C) II ve III
- D) I, II ve III

3. **Aşağıdaki davranışların hangisi bir özelliğiyle diğerlerinden ayrılmaktadır?**

- A) Soğan doğrarken gözümüzün yaşarması
- B) Diz kapağımıza vurduğunda bacağımızı kaldırmamız
- C) Birine kızdığımızda bağırılmamız
- D) Yüksek ateş etkisi altındayken halüsinasyon görmemiz

4. Fizik öğretmenin öğrencilere karşı katı ve anlayışsız tavırları nedeniyle fizik dersine olumsuz tutum geliştiren ve bundan dolayı derste oldukça başarısız olan Aleyna, fizik öğretmenin değişmesiyle birlikte, yeni öğretmen oldukça anlayışlı ve yüksek iletişim becerisine sahip biri olduğu için, fizik dersini sevmeye başlamıştır ve Aleyna'nın dersindeki başarısı da artmıştır.

Buna göre Aleyna'nın fizik dersine olan ilgisinin ve ders başarısının artması aşağıdaki koşullanma türlerinden hangisiyle en iyi açıklanır?

- A) Karşıt koşullanma
- B) Birleşik koşullanma
- C) Üst düzey koşullanma
- D) Nötr koşullanma

5. **Aşağıdaki seçeneklerin hangisinde Premack ilkesi'ne uygun bir örnek bulunmamaktadır?**

- A) Bebekleriyle oynamayı çok seven ama odasını toplamak istemeyen Simay'a annesinin "Odanı toplarsan bebeklerinle oynayabilirsin." demesi
- B) Hafta sonunu Mervelerde geçirmek isteyen Buse'ye bunu yapabilmesi için annesinin Buse'nin hiç sevmediğini bildiği bulaşıkları yıkama şartı getirmesi
- C) Üniversite sınavını önemsemeyen, bu nedenle hiç ders çalışmayan, kendisinden motosiklet isteyen oğluna babasının "Üniversiteyi kazanırsan sana motosiklet alacağım." demesi
- D) Arkadaşlarıyla kampa gitmek isteyen Muhittin'e babasının "Artık televizyonu tamir edersen kampa gidebilirsin" demesi

6. **Aşağıdakilerden hangisi öğrenmeyi etkileyen, öğrenme malzemesiyle ilgili faktörlerden biri değildir?**

- A) Algısal ayırt edilebilirlik
- B) Dikkat
- C) Telaffuz edilebilirlik
- D) Kavramsal gruplama

Çözüm 12: Son öğrenilen bilginin ilk öğrenilene göre daha iyi hatırlanmasına sonralık etkisi, yeni bilginin eski bilgiyi unutturmasına ise geriye ket vurma denir. Doğru cevap D seçeneğidir.

Çözüm 13: Yusuf'un yaklaşımı kaçınma kavramıyla açıklanır. Edimsel koşullanma sürecinde farenin cezadan kaçınmasını sağlayan şey uygun olmayan zamanda butona basmayarak elektrik akımından kurtulma isteğidir. Yusuf da benzer bir şekilde memurla muhatap olmaktan kaçınmaya çalışmaktadır. Kaçınma, istenmeyen durumla karşılaşmamak için önlem almaktır. Doğru cevap A seçeneğidir.

Çözüm 14: Tepkisel Koşullanma ve Edimsel Koşullanmanın Karşılaştırması

Tepkisel Koşullanma	Edimsel Koşullanma
Organizma pasiftir.	Organizma aktiftir.
Refleksif ve duyuşsal davranışları şekillenir.	Psikomotor davranışları şekillenir.
İstemsiz tepkiler vardır.	İstemli tepkiler vardır.
Pekiştireç davranıştan öncedir.	Pekiştireç davranıştan sonradır.
Uyarıcı → Tepki	Tepki → Pekiştireç veya ceza

Buna göre C seçeneği yanlıştır. Doğru cevap C seçeneğidir.

Çözüm 15: Yarışmada sabit aralıklı pekiştirme tarifesi kullanılmıştır. Sabit aralıklı pekiştirme, davranışın önceden belirlenmiş zaman dilimlerinin sonunda pekiştirilmesidir. Doğru cevap D seçeneğidir.

Çözüm 16: Hasan, kavrama yoluyla öğrenmiştir. Bir problemle karşılaşan organizmanın, problemin bileşenleri arasındaki ilişkileri bir arada algılayıp çözüm yollarını bir süre düşündükten sonra çözüme bir anda ulaşması kavrama yoluyla (iç görüsel) öğrenmedir. Doğru cevap A seçeneğidir.

Çözüm 17: Babaya bıktırma yöntemi önerilmiştir. Bıktırma, organizma bıkana kadar ona istenmeyen davranışın yaptırılması, bu sayede organizmanın artık söz konusu davranışı yapacak gücü ve isteği kalmayıp davranışa son vermesinin sağlanmasıdır Doğru cevap B seçeneğidir.

Çözüm 18: Tuğba dolaylı güdülenmiştir. Dolaylı güdülenme, organizmanın, model aldığı kişinin davranışı olumlu sonuçlandığında aynı davranışı kendisinin de yapmaya güdülenmesidir Doğru cevap C seçeneğidir.

Çözüm 19: Gestalt kuramında "Zihnimizin uyarıcıları algı-larken, bunları mümkün olan en iyi, en basit ve en anlamlı biçime dönüştürmesi" pragnanz yasası olarak adlandırılır. Doğru cevap D seçeneğidir.

Çözüm 20: Nazmi'nin yaklaşımı batıl inanç örneğidir. Batıl inanç, tamamen rastlantsal olarak ortaya çıkan olayların ilişkilendirilmesinden kaynaklanan pekiştirme türüdür. Doğru cevap A seçeneğidir.

KÜLTÜREL DİPLOMASİ VE EĞİTİM

14. ÜNİTE

TEST 1

KÜLTÜREL DİPLOMASİ VE EĞİTİM

1. Aşağıdakilerden hangisi bir yumuşak güç unsuru değildir?

- A) Spor
- B) Sanat
- C) Eğitim
- D) Donanma gücü

2. Kâr amacı gütmeyen uluslararası bir kuruluş olan Kültürel Diplomasi Enstitüsü (ICD) kültürel diplomasiyi "ilişkileri güçlendirmek, sosyo-kültürel iş birliğini genişletmek ve ulusal çıkarları desteklemek için fikirlerin, değerlerin, geleneklerin, kültür ve kimliğin diğer yönlerinin devlet, özel sektör veya sivil toplum tarafından değişimine dayalı eylemler" olarak tanımlamaktadır. Enstitü, kültürel diplomasi için beş temel ilke belirtmiştir.

Aşağıdakilerden hangisi ICD'nin belirlediği beş kültürel diplomasi ilkesinden biri değildir?

- A) Kültürel çeşitlilik ve mirasın tanınması ve saygı gösterilmesi
- B) Küresel kültürler arası diyalog
- C) Uluslararası düzeyde insan haklarının korunması
- D) Doğal afetlerde küresel ve kültürel işbirliği

3. Ulus markalamasının temel hedefi aşağıdaki seçeneklerin hangisinde verilmiştir?

- A) Ülkenin uluslararası alandaki çekiciliğini ve tanınırlığını arttırmak
- B) Ülkeleri sınıflara ayırmak
- C) Ülkeleri dış politika hedeflerine göre kategorileştirmek
- D) Ülkenin ulusal değerlerini diğer ülkelere empoze etmek

4. Kamu diplomasisi çerçevesinde bir kavram olarak geliştirilerek, Simon Anholt tarafından 1996 yılında literatüre kazandırılan kavram aşağıdakilerden hangisidir?

- A) İmaj yönetimi
- B) Propaganda
- C) Manipülasyon
- D) Ulus markalama

5. Türkiye'nin eğitim diplomasisi uygulama alanları ve uygulayıcıları arasında;

- I. Yurtdışı Türkler ve Akraba Topluluklar Başkanlığı
- II. Türk Kızılayı
- III. Türkiye Bursları
- IV. Türkiye Ulusal Ajansı

kurum/uygulamalarından hangileri sayılabilir?

- A) I ve II
- B) I ve IV
- C) I, II ve III
- D) I, III ve IV

6. Mevlana Değişim Programı kapsamında akademisyenler en fazla kaç ay süreyle dünyadaki yükseköğretim kurumlarında ders vermek amacıyla değişim programından faydalanabilmektedirler?

- A) 1
- B) 3
- C) 6
- D) 9

7. Türkiye Cumhuriyeti adına Milli Eğitim Bakanlığının yanı sıra doğrudan eğitim kurumu açma yetkisine sahip olan tek kuruluş aşağıdakilerden hangisidir?

- A) Yunus Emre Enstitüsü
- B) TÜRKSOY
- C) YTB
- D) Türkiye Maarif Vakfı

8. Türk Dünyasında kurulan ilk işbirliği teşkilatı olan Uluslararası Türk Kültürü Teşkilatı TÜRKSOY'un kuruluşunda aşağıdaki ülkelerden hangisinin kültür bakanının imzası yoktur?

- A) Türkiye
- B) Özbekistan
- C) Tacikistan
- D) Türkmenistan

9. Kültürel diplomasi; fikir, bilgi, sanat ve kültürün diğer yönlerinin uluslar ve halklar arasında karşılıklı anlayış içerisinde değişimidir.

Yukarıdaki kültürel diplomasi tanımı aşağıdaki isimlerden hangisine aittir?

- A) Milton Cummings
- B) Joseph Nye
- C) Louis Belanger
- D) Edward Burnett

10. Yabancı bir ülkede dil ve kültür merkezleri açan ilk ülke aşağıdakilerden hangisidir?

- A) ABD
- B) İngiltere
- C) Fransa
- D) Almanya

11. Aşağıdakilerden hangisi Erasmus+ Değişim Programı kapsamında 3. grup program ülkelerinden biridir?

- A) Finlandiya
- B) Lihtenştayn
- C) Almanya
- D) Türkiye

12. Erasmus+ Değişim Programı Türkiye'de hangi yıl itibarıyla uygulanmaya başlamıştır?

- A) 2004
- B) 2005
- C) 2006
- D) 2007

13. Uluslararası değişim programları alanında dünyanın en büyük kuruluşu aşağıdakilerden hangisidir?

- A) NAFSA
- B) Erasmus
- C) Comenius
- D) IEP

14. Joseph Nye'nin Gücün Üç Biçimi tablosuna göre aşağıdakilerden hangisi yumuşak güç faktörlerinden biridir?

- A) Sindirme
- B) Çok taraflı diplomasi
- C) Caydırma
- D) Tehdit

15. Yurtdışı Türkler ve Akraba Topluluklar Başkanlığı (YTB) hangi yıl kurulmuştur?

- A) 2008
- B) 2009
- C) 2010
- D) 2011

CEVAP ANAHTARI

1	D	4	D	7	D	10	C	13	A
2	D	5	D	8	C	11	D	14	B
3	A	6	B	9	A	12	A	15	C

05/06/2003 TARİHLİ 2003/5753 SAYILI BAKANLAR KURULU KARARI

15.
ÜNİTE

TEST
1

05/06/2003 TARİHLİ 2003/5753 SAYILI
BAKANLAR KURULU KARARI

1. 2003/5753 sayılı Bakanlar Kurulu Kararına göre Bakanlıklararası Ortak Kültür Komisyonunda aşağıdakilerden hangisinin temsilcisi bulunmaz?

- A) Hazine ve Maliye Bakanlığı
- B) Milli Eğitim Bakanlığı
- C) Kültür ve Turizm Bakanlığı
- D) İçişleri Bakanlığı

2. 2003/5753 sayılı Bakanlar Kurulu Kararına göre Komisyonca yurtdışında görevlendirilecek toplam personel sayısı en fazla ne kadardır?

- A) 2000
- B) 2500
- C) 3000
- D) 3500

3. 2003/5753 sayılı Bakanlar Kurulu Kararına göre aşağıdakilerden hangisi yurtdışında görevlendirilecek personelde aranan genel şartlar arasında yer almaz?

- A) Son 10 yılda haklarında uyarma ve kınama cezaları dışında disiplin cezası verilmemiş olmak
- B) Yurtdışında görevlendirileceği alanda en az 5 yıllık mesleki tecrübeye sahip olmak
- C) Askerlik hizmetini yapmış olmak veya askerlik hizmetinden muaf tutulmuş olmak
- D) En az lisans düzeyinde öğrenim görmüş olmak

4. Mesleki yeterlilik sınavının değerlendirilmesi 100 tam puan üzerinden yapılır. Sınavda ve üzerinde puan alan adaylar arasından en yüksek puan alan adaydan başlamak üzere seçilecek personel sayısının en fazla katına kadar aday temsil yeteneği sınavına girmeye hak kazanır.

2003/5753 sayılı Bakanlar Kurulu Kararına göre yukarıdaki boşluklara sırasıyla aşağıdakilerden hangisi getirilmelidir?

- A) 50 - 2
- B) 50 - 4
- C) 60 - 2
- D) 60 - 4

5. Temsil yeteneği sınavından en az puan alan adayların, bu puanları ile mesleki yeterlilik sınav puanlarının aritmetik ortalaması hesaplanarak puan üstünlüğüne göre başarı sıralaması yapılır ve seçileceği ilan edilen personel sayısı kadar aday yurtdışında görevlendirmeye hak kazanır.

2003/5753 sayılı Bakanlar Kurulu Kararına göre yukarıdaki boşluğa aşağıdakilerden hangisi getirilmelidir?

- A) 50
- B) 55
- C) 60
- D) 70

6. 2003/5753 sayılı Bakanlar Kurulu Kararına göre yurt dışında görevlendirilmeye hak kazanan ve henüz görevlendirme sırası gelmeyenler açısından sınav sonuçları, sınavın yapıldığı yılı takip eden kaçınıcı yılın sonuna kadar geçerlidir?

- A) 2
- B) 3
- C) 4
- D) 5

657 SAYILI DEVLET MEMURLARI KANUNU

16. ÜNİTE

TEST
1

657 SAYILI DEVLET MEMURLARI KANUNU

1. 657 sayılı Devlet Memurları Kanununa göre belirtilenlerden hangisi "Kınama" disiplin cezasını gerektirecek fiil ve hallerden değildir?

- A) Devlete ait resmi belge, araç, gereç ve benzerlerini özel menfaat sağlamak için kullanmak
- B) Devlete ait resmi araç, gereç ve benzeri eşyayı özel işlerinde kullanmak
- C) Devlete ait resmi belge, araç, gereç ve benzeri eşyayı kaybetmek
- D) İş arkadaşlarına, maiyetindeki personele ve iş sahiplerine kötü muamelede bulunmak

2. 657 sayılı Devlet Memurları Kanununa göre "İdeolojik veya siyasi amaçlarla kurumların huzur, sükûn ve çalışma düzenini bozmak, boykot, işgal, kamu hizmetlerinin yürütülmesini engelleme, işi yavaşlatma ve grev gibi eylemlere katılmak veya bu amaçlarla toplu olarak göreve gelmemek, bunları tahrik ve teşvik etmek veya yardımında bulunmak" hangi disiplin cezasını gerektirir?

- A) Uyarma
- B) Kınama
- C) Aylıktan kesme
- D) Devlet memurluğundan çıkarma

3. 657 sayılı Devlet Memurları Kanununa göre "Kasıtlı olarak; verilen emir ve görevleri tam ve zamanında yapmamak, görev mahallinde kurumlarca belirlenen usul ve esasları yerine getirmemek, görevle ilgili resmi belge, araç ve gereçleri korumamak, bakımını yapmamak, hor kullanmak" hangi disiplin cezasını gerektirir?

- A) Uyarma
- B) Kınama
- C) Aylıktan kesme
- D) Kademe ilerlemesinin durdurulması

4. 657 sayılı Devlet Memurları Kanununa göre "Belirlenen durum ve sürelerde mal bildiriminde bulunmamak" hangi disiplin cezasını gerektirir?

- A) Uyarma
- B) Kınama
- C) Aylıktan kesme
- D) Kademe ilerlemesinin durdurulması

5. 657 sayılı Devlet Memurları Kanununa göre öğrenim durumları nedeniyle yükselebilecekleri kadroların son kademelerinde bulunan Devlet memurlarının, kademe ilerlemesinin durdurulması cezasının verilmesini gerektiren hallerde, brüt aylıklarının kaçta kaç oranlarında kesinti yapılır?

- A) 1/4'ü - 1/2'si kesilir
- B) 1/5'i - 1/3'ü kesilir
- C) 1/5'i - 1/2'si kesilir
- D) 1/4'ü - 1/3'ü kesilir

6. 657 sayılı Devlet Memurları Kanununa göre Kademe ilerlemesinin durdurulması cezasını gerektiren hallerde soruşturma dosyası, kararını bildirmek üzere yetkili disiplin kuruluna kaç gün içinde tevdi edilir?

- A) 7
- B) 10
- C) 15
- D) 30

7. "Devlet memurları kurumlarıyla ilgili resmi ve şahsi işlerinden dolayı.....; amirleri veya kurumları tarafından kendilerine uygulanan idari eylem ve işlemlerden dolayıhakkına sahiptirler."

657 sayılı Devlet Memurları Kanununa göre verilen hükümde boş bırakılan yerlere sırasıyla hangisi getirilmelidir?

- A) müracaat / Güvenlik ve korunma
- B) şikâyet ve savcılığa suç duyurusunda bulunma / müracaat
- C) şikâyet ve dava açma / müracaat
- D) müracaat/ şikâyet ve dava açma

5682 SAYILI PASAPORT KANUNU

17.

ÜNİTE

TEST
1

5682 SAYILI PASAPORT KANUNU

1. 5682 Sayılı Pasaport Kanununa göre Türkiye'ye yalnız bir giriş veya Türkiye'den yalnız bir çıkış için muteber olan yabancılara mahsus damgalı pasaportların kaç ay içinde bulunduğu memleketi terketmek suretiyle kullanılması şarttır?

A) 1 B) 2 C) 3 D) 4

2. 5682 Sayılı Pasaport Kanununa göre Hususi damgalı pasaport alabilecek durumda bulunanların ergin olsalar dahi yanlarında yaşayıp evli bulunmayan ve iş sahibi olmayan öğrenimi devam eden çocuklarına kaç yaşının ikmaline kadar hususi damgalı pasaport verilir?

A) 20 B) 22 C) 25 D) 30

3. 5682 Sayılı Pasaport Kanununa göre Kanunlar ve milletlerarası anlaşmalarla tespit edilenlerden başka, Türk vatandaşları ile yabancılar için, ne gibi belgelerin pasaport yerine geçerli kabul edilebileceği hususunda hangi bakanlıklar müştereken karar almaya yetkilidirler?

A) İçişleri Bakanlığı - Adalet Bakanlığı
B) Adalet Bakanlığı - Dışişleri Bakanlığı
C) İçişleri Bakanlığı - Dışişleri Bakanlığı
D) Kültür ve Turizm Bakanlığı - Dışişleri Bakanlığı

4. I. Pasavanlar
II. Hudut geçiş belgeleri
III. Gemiadamı cüzdanları
IV. Seyahat belgesi ve benzeri belgeler

5682 Sayılı Pasaport Kanununa göre yukarıdakilerden hangileri Pasaport yerine geçerli vesikalar arasında yer alır?

A) III ve IV B) I, II ve III
C) II, III ve IV D) I, II, III ve IV

5. Diplomatik pasaportlar, muvakkat görev veya seyahat için gidenlere görevlerinin veya seyahatlerinin mahiyetine göre, bir seyahate mahsus olmak üzere veya azami sene için, daimi görevle gidenlere de Dışişleri Bakanlığınca tespit edilecek sürede geçerli olmak üzere verilir.

5682 Sayılı Pasaport Kanununa göre yukarıdaki boşluğa aşağıdakilerden hangisi getirilmelidir?

A) bir B) iki C) üç D) dört

6. 5682 Sayılı Pasaport Kanununa göre umuma mahsus münferit pasaportlar kaç aydan az olmamak kaydıyla İçişleri Bakanlığınca belirlenecek sürelerde geçerli olmak üzere düzenlenir?

A) 2 B) 3 C) 4 D) 6

7. 5682 Sayılı Pasaport Kanununa göre hususi damgalı pasaportlar ile hizmet damgalı pasaportlardan süresi bitenlerin kaçar defa uzatılması mümkündür?

A) 2 B) 3 C) 4 D) 5

8. 5682 Sayılı Pasaport Kanununa göre Baro lehvasına yazılı olan avukatlardan en az kaç yıl kıdeme sahip olanlara hususi damgalı pasaport verilebilir?

A) 5 B) 7 C) 10 D) 15

9. Hususi damgalı pasaportlar aydan az olmamak kaydıyla İçişleri Bakanlığınca belirlenecek sürelerde; hizmet damgalı pasaportlar aydan az olmamak kaydıyla pasaport sahibinin görevinin müddetine göre İçişleri Bakanlığınca tespit edilecek süre için geçerli olmak üzere tanzim edilir.

5682 Sayılı Pasaport Kanununa göre yukarıdaki boşluklara sırasıyla aşağıdakilerden hangisi getirilmelidir?

A) üç - üç B) üç - altı
C) altı - altı D) altı - oniki

10. Türk vatandaşları ve yabancılar tayin olunan yolcu giriş - çıkış kapılarından Türkiye'ye girip çıkabilirler. Gümrük kapılarının açılışında görüşü alınır.

5682 Sayılı Pasaport Kanununa göre yukarıdaki boşluklara sırasıyla aşağıdakilerden hangisi getirilmelidir?

- A) Cumhurbaşkanınca - İçişleri Bakanlığının
- B) Cumhurbaşkanınca - Ticaret Bakanlığının
- C) İçişleri Bakanlığınca - Adalet Bakanlığının
- D) Adalet Bakanlığınca - İçişleri Bakanlığının

11. 5682 Sayılı Pasaport Kanununa göre aşağıdakilerden hangisi diplomatik pasaport verilecekler arasında yer almaz?

- A) Anayasa Mahkemesi üyeleri
- B) Eski bakanlar
- C) Birinci sınıfa ayrılmış hakim ve savcılar
- D) Valiler

12. 5682 Sayılı Pasaport Kanununa göre toplu bir halde yolculuk etmek isteyen en az kaç kişilik bir kabile teşkil eden Türk vatandaşlarına istedikleri takdirde umuma mahsus müşterek pasaport verilir?

- A) 3
- B) 5
- C) 7
- D) 10

13. Askerlik hizmetini yapmak üzere memlekete celp edilenlerle, yabancı memleketlerde yoksul kalmış oldukları sabit olan Türk vatandaşlarının pasaportları Türkiye'ye dönüşlerini teminen ay süre ile uzatılır.

5682 Sayılı Pasaport Kanununa göre yukarıdaki boşluğa aşağıdakilerden hangisi getirilmelidir?

- A) 1
- B) 2
- C) 3
- D) 4

14. Pasavanlar veya benzeri belgeler, Türkiye Cumhuriyeti ile hem hudut memleketlerin hudut mıntıkları dahilinde pasaport yerine kullanılmak üzere Türk vatandaşlarına verilir.

5682 Sayılı Pasaport Kanununa göre bunların şekli, ita tarzı, muteberlik müddeti, kimlere verileceği Türkiye Cumhuriyeti ile alakalı Devletler arasında yapılmış veya yapılacak anlaşmaların hükümlerine uygun olarak hangi bakanlıklarca müştereken tespit edilir?

- A) İçişleri - Dışişleri
- B) İçişleri - Adalet
- C) Dışişleri - Adalet
- D) Kültür ve Turizm - İçişleri

15. 5682 Sayılı Pasaport Kanununa göre bir gidiş ve geliş için verilen pasaportlar kaç aydan az olmamak kaydıyla İçişleri Bakanlığının takdirine göre belirlenecek süreyle geçerli olmak üzere tanzim edilir?

- A) 1
- B) 2
- C) 3
- D) 4

CEVAP ANAHTARI

1	A	4	D	7	D	10	A	13	A
2	C	5	B	8	D	11	C	14	A
3	C	6	D	9	C	12	B	15	C

1 SAYILI CUMHURBAŞKANLIĞI KARARNAMESİ (MEB)

18.
ÜNİTE

TEST
1

1 SAYILI CUMHURBAŞKANLIĞI KARARNAMESİ (MEB)

1. 1 Sayılı Cumhurbaşkanlığı Kararnamesine göre "Yurtdışı eğitim ve öğretim kurumlarından alınmış, ilköğretim ve ortaöğretim diploma ve öğrenim belgelerinin derece ve denkliklerine ilişkin ilke kararlarını Bakanın onayına sunmak" **Milli Eğitim Bakanlığının hangi hizmet biriminin görevleri arasında yer alır?**

- A) Bilgi İşlem Genel Müdürlüğü
- B) Teftiş Kurulu Başkanlığı
- C) Talim ve Terbiye Kurulu Başkanlığı
- D) Strateji Geliştirme Başkanlığı

2. 1 Sayılı Cumhurbaşkanlığı Kararnamesine göre "okul öncesi ve ilköğretim okul ve kurumlarının yönetimine ve öğrencilerinin eğitim ve öğretimine yönelik çalışmalar yapmak ve belirlenen politikaları uygulamak" **Milli Eğitim Bakanlığının hangi hizmet biriminin görevleri arasında yer alır?**

- A) Temel Eğitim Genel Müdürlüğü
- B) Ortaöğretim Genel Müdürlüğü
- C) Özel Eğitim ve Rehberlik Hizmetleri Genel Müdürlüğü
- D) Hayat Boyu Öğrenme Genel Müdürlüğü

3. 1 Sayılı Cumhurbaşkanlığı Kararnamesine göre "Bakanlığın internet sayfaları, elektronik imza ve elektronik belge uygulamaları, bilişim sistemleri (MEBBİS), e-okul uygulamaları ile yapay zekâ, büyük veri ve makine öğrenmesi konusundaki çalışmaları yürütmek" **Milli Eğitim Bakanlığının hangi hizmet biriminin görevleri arasında yer alır?**

- A) Strateji Geliştirme Başkanlığı
- B) Destek Hizmetleri Genel Müdürlüğü
- C) Bilgi İşlem Genel Müdürlüğü
- D) Yenilik ve Eğitim Teknolojileri Genel Müdürlüğü

4. 1 Sayılı Cumhurbaşkanlığı Kararnamesine göre "okul ve eğitim yerleşkesi gibi eğitim tesislerinin okul ve eğitim tesisi olarak kullanılmak kaydıyla gerçek kişilere veya özel hukuk tüzel kişilerine kiralanmasına ilişkin işleri yürütmek" **Milli Eğitim Bakanlığının hangi hizmet biriminin görevleri arasında yer alır?**

- A) Hukuk Hizmetleri Genel Müdürlüğü
- B) Bilgi İşlem Genel Müdürlüğü
- C) İnşaat ve Emlak Genel Müdürlüğü
- D) Talim ve Terbiye Kurulu Başkanlığı

5. 1 Sayılı Cumhurbaşkanlığı Kararnamesine göre "eğitim ve öğretim alanında ülkemizde dil, tarih veya kültür birliği bulunan ülke ve topluluklar ile diğer ülkelerle işbirliğine yönelik işleri yürütmek" **Milli Eğitim Bakanlığının hangi hizmet biriminin görevleri arasında yer alır?**

- A) Talim ve Terbiye Kurulu Başkanlığı
- B) Özel Öğretim Kurumları Genel Müdürlüğü
- C) Yükseköğretim ve Yurt Dışı Eğitim Genel Müdürlüğü
- D) Avrupa Birliği ve Dış İlişkiler Genel Müdürlüğü

6. 1 Sayılı Cumhurbaşkanlığı Kararnamesine göre "Bakanın çalışma programını düzenlemek" **Milli Eğitim Bakanlığının hangi hizmet biriminin görevleri arasında yer alır?**

- A) Basın ve Halkla İlişkiler Müşavirliği
- B) Özel Kalem Müdürlüğü
- C) Strateji Geliştirme Başkanlığı
- D) Hukuk Hizmetleri Genel Müdürlüğü

ULUSLARARASI KURULUŞLAR

19. ÜNİTE

TEST
1

ULUSLARARASI KURULUŞLAR

1. Türkiye'nin de aralarında bulunduğu İslam ülkelerinin kendi aralarında oluşturdukları uluslararası birlik aşağıdakilerden hangisidir?

- A) G-7
- B) WB
- C) G-20
- D) D-8

2. Avrupa Konseyi'nin merkezi aşağıdaki şehirlerden hangisinde yer almaktadır?

- A) Viyana
- B) Brüksel
- C) Strazburg
- D) Amsterdam

3. Üye devletler arasında işbirliği ve dayanışmayı güçlendirmek amacıyla kurulan İslam İşbirliği Teşkilatının (İİT) merkezi aşağıdaki şehirlerden hangisinde yer alır?

- A) Cidde
- B) İstanbul
- C) Tahran
- D) Trablus

4. Aşağıdaki örgütlerden hangisi 1973 Helsinki Konferansı ile kurulmuştur?

- A) NATO
- B) IMF
- C) AGİT
- D) AET

5. Karadeniz Ekonomik İşbirliği Örgütü aşağıdaki ülkelerin hangisinin girişimleriyle kurulmuştur?

- A) Arnavutluk
- B) Azerbaycan
- C) Rusya
- D) Türkiye

6.

- I. Resmi dili Türkçedir.
- II. Türk kültürünün gelecek kuşaklara aktarılmasına öncülük etmek amaçları arasındadır.
- III. Merkezi Bakü'dür.

TÜRKSOY ile ilgili yukarıda verilen bilgilerden hangileri doğrudur?

- A) Yalnız I
- B) Yalnız II
- C) I ve III
- D) I ve II

7. Türkiye NATO'ya (Kuzey Atlantik Konseyi) kaç yılında üye olmuştur?

- A) 1948
- B) 1949
- C) 1950
- D) 1952

8. Ekonomik İşbirliği Teşkilatı (EİT) ile ilgili aşağıda verilen bilgilerden hangisi yanlıştır?

- A) 1945 yılında kurulmuştur.
- B) Merkezi Tahran'dır.
- C) Amacı üye ülkelerin kalkınmalarına katkıda bulunmak ve EİT bölgesindeki ticareti geliştirmektir.
- D) Türkiye, kurucu üyelere dendir.

17. Türkiye Birleşmiş Milletler Teşkilatına aşağıdaki yılların hangisinde üye olmuştur?

- A) 1945
- B) 1946
- C) 1947
- D) 1948

18. Avrupa Birliğinin merkezi aşağıda verilen şehirlerin hangisinde yer almaktadır?

- A) New York
- B) Londra
- C) Paris
- D) Brüksel

19. Ülkelerdeki çalışma yasalarını ve bu alana ilişkin uygulamalarda standartları geliştirmek ve ileriye götürmek, uluslararası çalışma standartlarını sözleşmeler ve tavsiyeler yoluyla ifade eden örgüt aşağıdakilerden hangisidir?

- A) UNESCO
- B) ILO
- C) WTO
- D) WHO

20. Aşağıdakilerden hangisi Türkiye'nin üye olduğu uluslararası kuruluşlardan değildir?

- A) Birleşmiş Milletler
- B) Avrupa Konseyi
- C) NAFTA
- D) Karadeniz Ekonomik İş Birliği Örgütü

TEST
2

ULUSLARARASI
KURULUŞLAR

1. Aşağıdakilerden hangisi NATO'nun kurucu üyeleri arasında yer almaz?

- A) İsveç
- B) İzlanda
- C) Kanada
- D) İtalya

2. Aşağıdakilerden hangisi Ekonomik İş Birliği Teşkilatı (EİT) üyelerinden biri değildir?

- A) Irak
- B) Azerbaycan
- C) Afganistan
- D) Tacikistan

3. BM içerisinde eğitim, bilim ve kültürel alanlarda milletlerarası iş birliği yapmak amacıyla oluşturulan kuruluş hangisidir?

- A) ILO
- B) UNESCO
- C) UNICEF
- D) FAO

4. Aşağıdakilerden hangisi SPK'nin görevlerinden dir?

- A) Tasarruf sahiplerinin, yatırımcıların hak ve yararlarının korunması
- B) Mağdur durumda kalanların haklarını arama
- C) BDDK'yi denetleme
- D) BDDK'ye yardım sağlama

5. Aşağıda verilenlerden hangisi Dünya Ticaret Örgütü'nün uluslararası kısaltmasıdır?

- A) IMF
- B) WB
- C) WTO
- D) UNDP

TEST 1

GENEL KÜLTÜR

- Aşağıdaki ilçelerden hangisinin nüfusu bağlı olduğu il merkezinin nüfusundan daha fazladır?**
 - Bursa / Osmangazi
 - Gaziantep / Şehitkamil
 - Adana / Seyhan
 - Şırnak / Cizre
- BBC'nin düzenlediği ve dünyanın farklı coğrafyalarında yaşayan 177 film eleştirmeninin oy kullandığı "21. Yüzyılın 100 Harika Film" listesinde tek Türk filmi olarak yer alan ve Cannes Film Festivalinde Büyük Jüri Ödülüne layık görülen "Bir Zamanlar Anadolu'da" filminin yönetmeni aşağıdakilerden hangisidir?**
 - Nuri Bilge Ceylan
 - Derviş Zaim
 - Semih Kaplanoğlu
 - Metin Erksan
- "Yer Demir Gök Bakır", "Yılanı Öldürseler," "Karınca'nın Su İçtiği" gibi eserlerin sahibi, aynı zamanda Nobel Edebiyat Ödülü'ne aday gösterilen ilk Türk unvanına sahip yazar aşağıdakilerden hangisidir?**
 - Orhan Kemal
 - Yaşar Kemal
 - Orhan Pamuk
 - Cemil Meriç
- Rahipler tarafından tapınaktaki malları kayıt altına almak amacıyla geliştirilen ve ucu sivri araçlarla yazıldığından çivi yazısı olarak da adlandırılan bir sistemle tarihte ilk defa yazıyı kullanan uygarlık aşağıdakilerden hangisidir?**
 - Frigyalılar
 - Sümerler
 - Sümerler
 - Lidyalılar
- Anadolu'nun bilinen ilk camilerinden olan ve Kahramanmaraş depreminde yıkılan Habibi Neccar Camii hangi ilimiz sınırları içerisinde yer alır?**
 - Malatya
 - Kahramanmaraş
 - Hatay
 - Adıyaman
- 2024 yılında Avrupa Birliği dönem başkanlığı yapan ülkeler aşağıdakilerden hangisinde bir arada verilmiştir?**
 - Hırvatistan - Almanya
 - Portekiz - Slovenya
 - Romanya - Finlandiya
 - Belçika - Macaristan
- 44. Dünya Miras Komitesi toplantısında alınan kararla UNESCO Dünya Mirası Kalıcı Listesi'ne alınan, 7000 yıllık tarihe sahip Malatya'da bulunan yerleşim yeri aşağıdakilerden hangisidir?**
 - Arslantepe Höyüğü
 - Aizanoi Antik Kenti
 - Ahlat Yerleşim Merkezi
 - Kaunos Antik Kenti

18. "Umutsuzluk yok! Gün gelir gül de açar, bülbül de öter." dizeleri ile hafızalarda yer edinen, **Taha'nın Kitabı, Zamana Adanmış Sözler, Çıkış Yolu** gibi birçok unutulmaz eserin sahibi olan yazarımız aşağıdakilerden hangisidir?

- A) Sezai Karakoç
- B) Yavuz Bahadıroğlu
- C) Mustafa Yazgan
- D) Doğan Cüceloğlu

19. İçinde yaşadığı fıçısı ve su çanağı haricinde başka eşyası bulunmaktaydı. Bir gün bir çeşme başında avucu ile su içen bir çocuğu görünce, elindeki çanağı kırmış ve bu çocuk bana fazladan eşyam olduğunu öğretti demiştir. Büyük İskender kensisini ziyaret edip bir dileği olup olmadığını sorduğunda ise "evet var, gölge etme başka ihsan istemem" yanıtını vermiştir.

Yukarıda bahsedilen ve kinik felsefesinin önemli temsilcileri arasında yer alan antik çağ filozofu aşağıdakilerden hangisidir?

- A) Sokrates
- B) Diogenes
- C) Platon
- D) Aristoteles

20. Amerikan SpaceX şirketinin 2015 yılında geliştirmeye başladığı uydu takımı yıldız projesinin toplam maliyetinin 10 milyar dolar olacağı tahmin ediliyor. İlk aşamada 12000, proje toplamında 42000 uydunun dünya yörüngesine yerleştirilerek tüm Dünyaya uydu interneti hizmeti verilmesi hedefleniyor. Proje bütününün 10 yılda tamamlanacağı öngörülüyor.

Yukarıda özellikleri verilen proje aşağıdakilerden hangisine aittir?

- A) Starship
- B) Roscosmos
- C) Starlink
- D) Artemis

CEVAP ANAHTARI

1	D	5	C	9	C	13	A	17	B
2	A	6	D	10	D	14	B	18	A
3	B	7	A	11	C	15	C	19	B
4	C	8	B	12	A	16	D	20	C

TEST 2

GENEL KÜLTÜR

1. **2024 UNESCO tarafından ne yılı olarak ilan edilmiştir?**

- A) Yunus Emre ve Türkçe Yılı
- B) Mahtumkulu Firaki Yılı
- C) Farabi Yılı
- D) Bilge Tonyukuk'u Anma ve Kutlama Yılı

2. **Necati Cumalı'nın aynı adlı eserinden sinemaya uyarlanan, yönetmenliğini Metin Erksan'ın yaptığı ve Berlin Film Festivali'nde aldığı ödülle Türk sinema tarihinde uluslararası ödül kazanan ilk film aşağıdakilerden hangisidir?**

- A) Susuz Yaz
- B) Sevmek Zamanı
- C) Güneşe Yolculuk
- D) Buğday

3. **Aşağıdaki alanlardan hangisinde Nobel Ödülü verilmemektedir?**

- A) Felsefe
- B) Tıp
- C) Kimya
- D) Fizik

4. **İngiltere'nin görev süresi en uzun hükümdarı olan Kraliçe II. Elizabeth kaç yıl tahtta kalmıştır?**

- A) 55
- B) 60
- C) 65
- D) 70

YENİ

MEB 2024

T.C. MİLLİ EĞİTİM BAKANLIĞI

03 ŞUBAT
Yeni Sınav
Konularına Göre
Hazırlanmıştır.

YURT DIŞINDA Görevlendirilecek ÖĞRETMENLERİ Seçme Sınavı

TAMAMI ÇÖZÜMLÜ SORU BANKASI

MESLEKİ YETERLİLİK YAZILI SINAVI KONULARI

BÖLÜM	KONU	PUAN
I	Dil ve Anlam Bilgisi, Türk Edebiyatı, İnsanlığın Ortak Mirası Olan Kültürel Mirasımız, Türk Kültürü(Sanat, Mimari, Müzik, Yemek, Aile ve Bayramlar)	30 Puan
II	Genel Türk Tarihi; T.C. İnkılap Tarihi ve Atatürkçülük; Türkiye Coğrafyası; Türk Devletleri ve Toplulukları; Türklerin Bilim, Sanat ve Medeniyete Katkıları; Türk Düşünce Tarihi ve Devlet Felsefesi	30 Puan
III	Türk Eğitim Tarihi, Öğretim İlke ve Yöntemleri, Öğrenme Psikolojisi, Kültürel Diplomasi ve Eğitim	20 Puan
IV	05/06/2003 Tarihli ve 2003/5753 Sayılı Bakanlar Kurulu Kararı, 657 Sayılı DMK'nın 1. Kısım ile 4. Kısımının 7. Bölümü, 5682 Sayılı Pasaport Kanunu, 1 Sayılı Cumhurbaşkanlığı Teşkilatı Hakkında Cumhurbaşkanlığı Kararnamesininin 6. Kısımın 11. Bölümü (Millî Eğitim Bakanlığı), Uluslararası Kuruluşlar, Genel Kültür	20 Puan

TOPLAM

DATA
YAYINLARI